

**CSP-1**

**PROVISIONAL ANSWER KEY**

<b>Name Of The Post</b>	<b>Gujarat Administrative Service, Class-1, Gujarat Civil Services, Class-1 and Class-2 and Gujarat Municipal Chief Officer Service, Class-2</b>
<b>Advertisement No</b>	<b>40/2018-19</b>
<b>Preliminary Test Held On</b>	<b>21-10-2018</b>
<b>Que. No.</b>	<b>001-200</b>
<b>Publish Date</b>	<b>23-10-2018</b>
<b>Last Date To Send Suggestion (S)</b>	<b>01-11-2018</b>

**Note:-**

- (1) All Suggestions are to be sent with reference to website published Question paper with Provisional Answer Key Only.**
- (2) All Suggestions are to be sent in the given format only.**
- (3) Candidate must ensure the above compliance.**

(૧) ઉમેદવારે વાંધા-સૂચનો રજૂ કરવા વેબસાઇટ પર પ્રસિધ્ધ થયેલ નિયત નમૂનાનો (<https://gpsc.gujarat.gov.in/Archived/pdf/Suggestion-of-Candidate-for-Provisional-Key-24-12-16.pdf>) ઉપયોગ કરવો.

(૨) ઉમેદવારોએ પોતાને પરીક્ષામાં મળેલ સીરીઝની પ્રશ્નપુસ્તિકામાં છપાયેલ પ્રશ્ન ક્રમાંક મુજબ વાંધા-સૂચનો રજૂ ન કરતા તમામ વાંધા-સૂચનો વેબસાઇટ પર પ્રસિધ્ધ થયેલ પ્રોવિઝનલ આન્સર કીના પ્રશ્ન ક્રમાંક મુજબ અને તે સંદર્ભમાં રજૂ કરવા

(૩) ઉમેદવારોએ ઉક્ત સૂચનાનું અચૂક પાલન કરવું અન્યથા વાંધા-સૂચનો અંગે કરેલ રજૂઆતો ધ્યાને લેવાશે નહીં.

1. નીચે આપેલાં વિધાનોમાંથી કયું(યાં) વિધાન(નો) હડખી સભ્યતા બાબતે ખરું(રાં) છે?
  ૧. ધોળાવીરા ગુજરાતનું સૌથી મોટું હડખીય સ્થળ છે.
  ૨. 'સતી' તરીકે ઓળખાવાતા 'જોડીયા' ભૂમિદાહ લોથલમાંથી મળ્યા છે.
  ૩. ચળકતાં લાલ માટીનાં વાસણો સોરઠ હડખીય સંસ્કૃતિના પરિપક્વ તબક્કાનું ગુણવત્તાદર્શક ચિહ્ન છે.

(A) ૧, ૨ અને ૩ (B) ફક્ત ૧ (C) ફક્ત ૧ અને ૨ (D) ફક્ત ૧ અને ૩
2. નીચે આપેલાં વિધાનોમાંથી કયાં વિધાનો ખરાં છે?
  ૧. એલેક્ઝાંડરે ઉત્તર-પશ્ચિમ ભારત ઉપર ઈ.સ. પૂર્વે ૩૨૬-૩૨૭માં ચડાઈ કરી.
  ૨. તેની લશ્કરી ચડાઈઓ વિશે લખનારા વિદ્વાનો તેની સાથે હતા.
  ૩. મેગેસ્થેનિસનું 'ઇન્ડિકા' મૌર્યકાલીન ભારતનો મૂલ્યવાન ઐતિહાસિક સ્ત્રોત છે.
  ૪. મેગેસ્થેનિસનું 'ઇન્ડિકા' પરવર્તી લેખકોનાં અવતરણો (અંશો)માં જ સચવાયું છે.

(A) ૧, ૨, ૩ અને ૪ (B) ફક્ત ૧, ૨ અને ૪ (C) ફક્ત ૧, ૩ અને ૪ (D) ફક્ત ૧, ૨ અને ૩
3. અન્નિરૂંવાર (ઐહોળેના પાંચસો સ્વામી) દક્ષિણ ભારતનો સૌથી પ્રખ્યાત ..... હતો.
 

(A) વણકરોનો સમૂહ (B) સૈનિકોનો સમૂહ  
(C) સામ્રાજ્યવાદી રાજાઓનો સંઘ (D) વેપારીઓનો સંઘ
4. બુદ્ધ અને જૈન ધર્મો વચ્ચે સામ્ય(યો) અને ભેદ જોવા મળે છે. બે ધર્મો વચ્ચેના ભેદને ઓળખો.
 

(A) નાસ્તિક (B) સાદી જીવનશૈલી | સદાચરણ  
(C) કાર્યશીલ (D) આત્માનું અસ્તિત્વ નથી
5. રાજેન્દ્ર ચોલ-૧ વિશે નીચે આપેલાં વિધાનોમાંથી કયાં વિધાનો ખરાં છે?
  ૧. તેમણે પોતાનું આધિપત્ય ઉત્તરમાં છેક ગંગા સુધી વિસ્તાર્યું ને 'ગંગેકોંડચોલમ' બિરુદ ધારણ કર્યું.
  ૨. હાલ મલેશિયા, ઇન્ડોનેશિયા, થાઈલેન્ડ, શ્રીલંકા અને માલદીવ તરીકે ઓળખાતા પ્રદેશો તેમણે જીત્યા.
  ૩. ભગવાન શિવને સમર્પિત પ્રસિધ્ધ 'બૃહદેશ્વર મંદિર' તેમણે બંધાવ્યું.
  ૪. 'ગંગાઈ કોંડા ચોલાપૂરમ' નામે નવું નગર વસાવ્યું.

(A) ૧, ૨, ૩ અને ૪ (B) ફક્ત ૧ અને ૨ (C) ફક્ત ૧, ૨ અને ૩ (D) ફક્ત ૧, ૨ અને ૪
6. નીચે આપેલાં વિધાનોમાંથી કયું(યાં) વિધાન(નો) ખરું(રાં) છે?
  ૧. ગઘૈયા સિક્કા ઈ.સ.ની પ્રથમ સહસ્ત્રાબ્દિના અંતિમ શતકોમાં અને બીજી સહસ્ત્રાબ્દિના પ્રારંભિક શતકોમાં ચલણમાં હતા.
  ૨. સિક્કાઓ મુખ્યત્વે ઉત્તર અને પશ્ચિમ ભારતમાં ચલણમાં હતા.
  ૩. ચાંદીનો ઢોળ ચડાવેલા કાંસાના સિક્કા હતા.

(A) ફક્ત ૧ અને ૨ (B) ફક્ત ૨ અને ૩ (C) ૧, ૨ અને ૩ (D) ફક્ત ૨
7. નીચે આપેલાં વિધાનોમાંથી કયું(યાં) વિધાન(નો) ખરું(રાં) છે?
  ૧. ઈ.સ. ૧૯૩૪માં પંડિત મદનમોહન માલવિયાએ છૂટા પડી કોંગ્રેસ નેશ્નલિસ્ટ પાર્ટીની સ્થાપના કરી.
  ૨. પંડિત મદન મોહન માલવિયા, ગાંધીજીની દલિતોધ્ધારની ચળવળના પ્રશંસક નહોતા.
  ૩. ગાંધીજીએ 'મેકડોનલ્ડ ચુકાદા'ને સ્વીકાર્યો હતો.
  ૪. પુના કરાર (૧૯૩૨) સંબંધે, કોંગ્રેસ કાર્યકારિણીએ 'સ્વીકાર નહીં અને અસ્વીકાર પણ નહીં' એવું વલણ અપનાવ્યું.

(A) ૧, ૨, ૩ અને ૪ (B) ફક્ત ૧ (C) ફક્ત ૧ અને ૨ (D) ફક્ત ૧ અને ૩

1. Which of the following statement(s) regarding the Harappan Civilisation is (are) correct?
  1. The Dholavira is the largest Harappan site in Gujarat.
  2. The evidence of 'dual' interment, the so-called 'Sati' burial, are found from Lothal.
  3. Lustrous Red Ware is a hallmark of mature phase of Sorath Harappan.

(A) 1, 2 and 3                      (B) Only 1                       (C) Only 1 and 2                      (D) Only 1 and 3
  
2. Which of the following statements are correct?
  1. Alexander invaded north-western India in 326-327 BCE.
  2. He was accompanied by scholars who wrote about his campaign.
  3. Megasthenes' *Indica* is a valuable historical source for Mauryan India.
  4. Megasthenes' *Indica* is survived only in quotations (fragments) by latter writers.

(A) 1, 2, 3 and 4                      (B) Only 1, 2 and 4                      (C) Only 1, 3 and 4                      (D) Only 1, 2 and 3
  
3. The Annirruvar (five hundred swamis of Aihole) were the most celebrated ..... of southern India.
 

(A) Weavers' group                      (B) Group of soldiers  
(C) Federation of feudal lords                       (D) Merchant guild
  
4. There are similarities as well as differences between the Buddhist and Jain religions. Choose (Identify) the differences between the two religions.
 

(A) Atheist                      (B) Simple Lifestyle | Good Conduct  
(C) Work-oriented                       (D) Non-existence of Atma (Soul)
  
5. Which of the following statements regarding Rajendra Chola-I are correct?
  1. He extended his sway up to the Ganga in the north and assumed 'Gangaikonda Cholan' title.
  2. He conquered areas which are now known as Malaysia, Indonesia, Thailand, Sri Lanka and Maldives.
  3. He built the famous 'Brihadishvara temple' dedicated to Lord Shiva.
  4. He founded a new city called 'Gangaikonda Cholapuram.'

(A) 1, 2, 3 and 4                      (B) Only 1 and 2                      (C) Only 1, 2 and 3                       (D) Only 1, 2 and 4
  
6. Which of the following statement(s) is(are) correct?
  1. The Gadhaiya coins were in circulation in the last centuries of first and initial centuries of second millennium CE.
  2. They were in circulation mainly in northern and western India.
  3. They were bronze coins coated with silver.

(A) Only 1 and 2                      (B) Only 2 and 3                       (C) 1, 2 and 3                      (D) Only 2
  
7. Which of the following statement(s) is(are) correct?
  1. In 1934 Pandit Madan Mohan Malaviya constituted a breakaway *Congress Nationalist Party*.
  2. Pandit Madan Mohan Malaviya didn't appreciate Gandhiji's movement of Dalitodddhar.
  3. Gandhiji accepted the 'MacDonald Award.'
  4. With regard to Poona Pact (1932), the *Congress Working Committee* adopted 'neither rejection nor acceptance' stand.

(A) 1, 2, 3 and 4                       (B) Only 1                      (C) Only 1 and 2                      (D) Only 1 and 3



8. ધ ચાર્ટર એક્ટ ઓફ ઇન્ડિયા (૧૮૧૩) સંદર્ભે નીચે આપેલાં વિધાનોમાંથી કયાં વિધાનો ખરાં છે?
૧. બ્રિટિશ ભારતમાં શિક્ષણ માટે જોગવાઈઓ કરવામાં આવી.
  ૨. ખ્રિસ્તી મિશનરીઓને ખ્રિસ્તી ધર્મનો પ્રચાર કરવાની ઔપચારિક મંજૂરી આપવામાં આવી.
  ૩. 'ગવર્નર જનરલ ઓફ બેંગાલ' પદને 'ગવર્નર જનરલ ઓફ ઇન્ડિયા' નામ આપવામાં આવ્યું.
  ૪. બ્રિટીશ ઇસ્ટ ઇન્ડિયા કંપની માત્ર વહીવટી સંસ્થા બની રહી.
- (A) ફક્ત ૧ અને ૨ (B) ફક્ત ૧, ૨ અને ૪ (C) ફક્ત ૧, ૨ અને ૩ (D) ૧, ૨, ૩ અને ૪
9. રામાનંદ વિશે નીચે આપેલાં વિધાનોમાંથી કયું(યાં) વિધાન(નો) ખરું(રાં) છે?
૧. એમણે જાતિ, સંપ્રદાય, લિંગ કે ધર્મના ભેદને અવગણીને તમામ ઈચ્છુકોને શિષ્યો તરીકે આવકાર્યા.
  ૨. તેમનાં પદો અને ગુરુગ્રંથસાહેબ અભિન્ન છે.
  ૩. રામાનંદ મુઘલ બાદશાહ અકબરના સમકાલીન હતા.
  ૪. રામાનુજાચાર્ય તેમના ગુરુ હતા જે 'સામાજિક સમાનતા'માં માનતા હતા
- (A) ફક્ત ૧ અને ૨ (B) ફક્ત ૧ અને ૩ (C) ફક્ત ૧, ૨ અને ૪ (D) ફક્ત ૧
10. કૃષ્ણણોના સમયનો કયો અભિલેખ, કૃષ્ણણોની એક જ પ્રાંતમાં 'ડ્યુઅલ ગવર્નરશીપ'ની નીતિની જાણકારી આપે છે?
- (A) પંજતર અભિલેખ (B) કનિષ્કનું રાબાતક (અફઘાનિસ્તાન) અભિલેખ  
(C) સારનાથનો બાલ બોધિસત્વ અભિલેખ (D) મથુરા સ્તંભ અભિલેખ
11. નીચે આપેલા રાજાઓમાંથી કયા ગુપ્તા વંશના રાજાએ અશ્વમેધ સિક્કાને જારી કર્યો?
૧. સમુદ્રગુપ્ત ૨. ચંદ્રગુપ્ત - ૨ (વિક્રમાદિત્ય)
  ૩. કુમારગુપ્ત - ૧ ૪. સ્કંદગુપ્ત
- (A) ૧ અને ૨ (B) ૧ અને ૩ (C) ૨ અને ૩ (D) ૧, ૨ અને ૪
12. બીજા કર્ણાટક વિગ્રહ સંદર્ભે નીચે આપેલાં વિધાનોમાંથી કયું(યાં) વિધાન(નો) ખરું(રાં) છે?
૧. આર્કોટનો ઘેરો ઈ.સ. ૧૭૫૧માં નંખાયો.
  ૨. રોબર્ટ ક્લાઈવની આગેવાની હેઠળ બ્રિટીશ ઇસ્ટ ઇન્ડિયા કંપની અને આર્કોટના નવાબ વચ્ચે યુધ્ધ થયું.
  ૩. નવાબને ફ્રેન્ચ ઇસ્ટ ઇન્ડિયા કંપનીની મદદ મળી
  ૪. આર્કોટ તામિલનાડુમાં છે.
- (A) ૧, ૨, ૩ અને ૪ (B) ફક્ત ૧, ૨ અને ૩ (C) ફક્ત ૩ (D) ફક્ત ૧
13. એંગ્લો-મૈસુર વિગ્રહો સંબંધે નીચે આપેલાં વિધાનોમાંથી કયાં વિધાનો ખરાં છે?
૧. પહેલા એંગ્લો-મૈસુર વિગ્રહમાં હૈદરઅલી જીત્યો.
  ૨. એંગ્લો-મૈસુર બીજા વિગ્રહમાં ટીપુ સુલતાને બૈલીને હરાવ્યો.
  ૩. એંગ્લો-મૈસુર ત્રીજા વિગ્રહમાં ટીપુ સુલતાન હાર્યો.
  ૪. ચોથા એંગ્લો-મૈસુર વિગ્રહમાં ટીપુ સુલતાનને મારી નાખ્યો.
- (A) ફક્ત ૧ અને ૪ (B) ફક્ત ૧, ૨ અને ૪ (C) ફક્ત ૧, ૩ અને ૪ (D) ૧, ૨, ૩ અને ૪
14. મહાગુજરાત આંદોલન સંદર્ભે નીચે આપેલાં વિધાનોમાંથી કયું(યાં) વિધાન(નો) ખરું(રાં) છે?
૧. મુંબઈ રાજ્યના મુખ્યમંત્રી અલગ રાજ્યના વિચારના વિરોધી હતા.
  ૨. ઓગષ્ટ ૮, ૧૯૫૬ના દિવસે, લાલ દરવાજા, અમદાવાદ નજીક આવેલાં કોંગ્રેસ હાઉસની સામે કેટલાક વિદ્યાર્થીઓ શહીદ થયા.
  ૩. મહાગુજરાત આંદોલનનું કારણ એ હતું કે મહી, તાપી અને નર્મદા જેવી નદીઓ માટે કોઈ વિશેષ પ્રકલ્પનું આયોજન પ્રથમ પંચવર્ષીય યોજનામાં કરવામાં આવ્યું નહોતું.
  ૪. ઇન્દુલાલ યાજ્ઞિક ઈ.સ. ૧૯૫૭માં મહાગુજરાત આંદોલનના વિરોધ રૂપે ચૂંટણી ના લડ્યા.
- (A) ફક્ત ૧ અને ૨ (B) ફક્ત ૧, ૨ અને ૩ (C) ફક્ત ૨ (D) ૧, ૨, ૩ અને ૪



8. Which of the following statements regarding *The Charter Act of India (1813)* are correct?
- Made provisions for education in British India.
  - Christian Missionaries were formally permitted to propagate Christianity.
  - 'Governor General of Bengal' was redesignated as 'Governor General of India.'
  - British East India Company* became solely an administrative body.
- (A) Only 1 and 2            (B) Only 1, 2 and 4            (C) Only 1, 2 and 3            (D) 1, 2, 3 and 4
9. Which of the following statement(s) is(are) correct about *Ramananda*?
- He welcomed disciples from all walks of life - irrespective of their caste, creed, gender and religion.
  - His verses are integral to *Guru Granth Sahib*.
  - He was the contemporary of Akbar, the Mughal Emperor.
  - Ramanujacharya who believed in 'Social Equality' was his Guru.
- (A) Only 1 and 2            (B) Only 1 and 3            (C) Only 1, 2 and 4            (D) Only 1 only
10. Which inscription of the Kushana period informs about the system of 'Dual Governorship' in a province of Kushanas?
- The Panjatar inscription
  - The Rabatak inscription (Afghanistan) of Kanishka
  - The Bala Bodhisattva image inscription from Sarnath
  - Mathura pillar inscription
11. Who of the following Gupta dynasty issued the *Ashvamedha* coin?
- Samudragupta
  - Chandragupta - II (Vikramaditya)
  - Kumaragupta - I
  - Skandagupta
- (A) Only 1 and 2            (B) Only 1 and 3            (C) Only 2 and 3            (D) Only 1, 2 and 4
12. Which of the following statement(s) is/are correct about the second Karnatic War?
- The siege of Arcot took place in 1751.
  - The war took place between *British East India Company* led by Robert Clive and Nawab of Arcot.
  - The Nawab was supported by the *French East India Company*.
  - Arcot is in Tamil Nadu.
- (A) 1, 2, 3 and 4            (B) Only 1, 2 and 3            (C) Only 3            (D) Only 1
13. Which of the following statements regarding the Anglo-Mysore Wars are correct?
- Hyderali won the first Anglo-Mysore War.
  - Tipu defeated Baillie in the second Anglo-Mysore War.
  - Tipu Sultan was defeated in the third Anglo-Mysore War.
  - Tipu Sultan was killed in the fourth Anglo-Mysore War.
- (A) Only 1 and 4            (B) Only 1, 2 and 4            (C) Only 1, 3 and 4            (D) 1, 2, 3 and 4
14. With regard to Mahagujarat Andolan which of the following statement(s) is(are) correct?
- The Chief Minister of the Bombay State was against the idea of having a separate state.
  - A few students martyred in front of the Congress House near Lal Darwaza, Ahmedabad on August 8, 1956.
  - Rivers like Mahi, Tapi and Narmada were not considered for major projects during the first five-year Plan was the cause of Mahagujarat Andolan.
  - Indulal Yagnik didn't contest the election of 1957 out of his protest against Mahagujarat Andolan.
- (A) Only 1 and 2            (B) Only 1, 2 and 3            (C) Only 2            (D) 1, 2, 3 and 4

15. પરિચયને અદાલતી ભાષા તરીકે નાબૂદ કરીને સ્થાનિક ભાષાઓને ઉપયોગમાં લેવાનો આદેશ કોણે આપ્યો?  
 (A) વિલિયમ બેન્ટિક (B) ચાર્લ્સ કોર્નવોલિસ  
 (C) વોરન હેસ્ટિંગ્સ (D) ઉપરના પૈકી કોઈ નહીં.
16. વોકર સેટલમેન્ટ સંદર્ભે નીચે આપેલાં વિધાનોમાંથી કયાં વિધાનો ખરાં છે?  
 ૧. વોકર સેટલમેન્ટ વડોદરાના ગાયકવાડ પરિવાર અને સૌરાષ્ટ્રના સરદારો વચ્ચે થયેલો કરાર હતો.  
 ૨. વડોદરાના ગાયકવાડ પરિવારને આ પસંદ ન પડ્યો કારણ કે, એમને આમાં સૌરાષ્ટ્રમાં બ્રિટીશરોની દખલગીરી જણાતી હતી.  
 ૩. વડોદરાના ગાયકવાડ પરિવારે એનું સ્વાગત કર્યું કેમ કે એનાથી કોઈ લશ્કરી ચડાઈઓ વગર નિયમિત ચૂકવણીની ખાતરી મળતી હતી.  
 ૪. એનાથી સૌરાષ્ટ્ર, બ્રિટીશ તાબા હેઠળ આવ્યું.  
 (A) ફક્ત ૧ અને ૨ (B) ફક્ત ૧ અને ૩ (C) ફક્ત ૧, ૨ અને ૪ (D) ફક્ત ૧, ૩ અને ૪
17. સુલતાન બહાદુર શાહે પોર્ટુગીઝોને કયાં કિલ્લો બાંધવાની પરવાનગી આપી?  
 (A) ભરૂચ (B) દીવ (C) સુરત (D) જાફરાબાદ
18. વડોદરામાં ગાયકવાડના મરાઠા શાસનની સ્થાપના કોણે કરી?  
 (A) દામાજી રાવ - ૧ (B) દામાજી રાવ - ૨ (C) સયાજી રાવ - ૧ (D) પિલાજી રાવ
19. નીચેનાં પૈકી કયાં રજવાડામાં શ્યામજી કૃષ્ણ વર્માએ સેવાઓ આપી ન હતી?  
 (A) રતલામ (B) ઉદેપુર (C) કચ્છ (D) જૂનાગઢ
20. નીચેની વિગતોને સમયાનુક્રમ પ્રમાણે ગોઠવો -  
 ૧. ગુજરાત વિદ્યાપીઠની સ્થાપના ૨. હોમ રૂલ ચળવળ  
 ૩. રાજધાનીનું કલકત્તાથી દિલ્હી સ્થળાંતર ૪. સ્વદેશી ચળવળ  
 (A) ૪, ૩, ૨, ૧ (B) ૨, ૧, ૪, ૩ (C) ૩, ૨, ૧, ૪ (D) ૧, ૪, ૨, ૩
21. ફિલ્મ રેવા ગુજરાતી નવલકથા ..... નું રૂપાંતરણ છે.  
 (A) ઓથાર (B) તત્ત્વમસિ (C) જય સોમનાથ (D) અમૃતા
22. નીચેનાં પૈકી કયાં સૌપ્રથમ 'પૂજા મંડળ'ની રચના કરાઈ હતી?  
 (A) વડોદરા (B) ભાવનગર (C) રાજકોટ (D) વઢવાણ
23. વડોદરા સ્ટેટમાં સ્થાયી થયેલ અંગ્રેજી સેના અને ગાયકવાડી લશ્કર પર વાઘેરોએ ઈ.સ. ૧૮૫૮માં આક્રમણ કર્યું અને તેમને શરણે આવવાની ફરજ પાડી. દ્વારકા અને બેટ ઉપર વિદ્રોહીઓએ નિયંત્રણ મેળવ્યું. ત્યારબાદ દ્વારકાના રાજા અને વિદ્રોહીઓના નેતા તરીકે કોની ઘોષણા કરવામાં આવી?  
 (A) મુખી ગરબડદાસ (B) ઠાકોર જીયાભાઈ (C) ગોવિંદ રાવ (D) જોધા માણેક
24. .... રજવાડા સામે કરાયેલી 'પોલીસ કાર્યવાહી'ને ઓપરેશન પોલો નામ આપવામાં આવ્યું હતું.  
 (A) જૂનાગઢ (B) ત્રાવણકોર (C) કાશ્મીર (D) હૈદરાબાદ
25. મહાલવારી સેટલમેન્ટ (જમાબંધી) સંદર્ભે નીચે આપેલાં વિધાનોમાંથી કયું(યાં) વિધાન(નો) ખરું(રાં) છે?  
 ૧. તે કાયમી સેટલમેન્ટ (જમાબંધી)ની સુધારેલી આવૃત્તિ છે.  
 ૨. આ પ્રથામાં જમીન મહેસુલ કાયમી રીતે નિશ્ચિત કરવામાં આવ્યું.  
 (A) ફક્ત ૧ (B) ફક્ત ૨  
 (C) બંને ૧ અને ૨ (D) ૧ અને ૨માંથી કોઈ પણ નહીં

15. Who abolished the use of Persian as court language and ordered the use of Vernacular Languages?  
 (A) William Bentinck (B) Charles Cornwallis  
 (C) Warren Hastings (D) None of the above
16. Which of the following statements are correct with reference to the *Walker's Settlement*?  
 1. *Walker's Settlement* was carried out between the Gaekwads of Vadodara and the Saurashtra chiefs.  
 2. The Gaekwads of Vadodara didn't like it because they felt it as an interference of Britishers in Saurashtra.  
 3. The Gaekwads of Vadodara welcomed it as it ensured a regular payment without any military expeditions.  
 4. It brought Saurashtra under British control.  
 (A) Only 1 and 2 (B) Only 1 and 3 (C) Only 1, 2 and 4 (D) Only 1, 3 and 4
17. Where did Sultan Bahadur Shah permit the Portuguese to construct a fort?  
 (A) Bharuch (B) Diu (C) Surat (D) Jafrabad
18. Who founded the Gaekwads' Maratha rule in Vadodara?  
 (A) Damaji Rao - I (B) Damaji Rao - II (C) Sayaji Rao - I (D) Pilaji Rao
19. In which of the following princely states Shyamaji Krishna Varma had not served?  
 (A) Ratlam (B) Udaipur (C) Kutch (D) Junagadh
20. Arrange the following in chronological order:  
 1. Establishment of Gujarat Vidyapeeth  
 2. Home Rule Movement  
 3. Shifting of Capital from Calcutta to Delhi  
 4. Swadeshi Movement  
 (A) 4, 3, 2, 1 (B) 2, 1, 4, 3 (C) 3, 2, 1, 4 (D) 1, 4, 2, 3
21. Film *Reva* is adapted from a Gujarati novel titled .....  
 (A) Othar (B) Tatvamasi (C) Jai Somnath (D) Amruta
22. Where among the following was the First 'Prajā Mandal' was set up?  
 (A) Baroda (B) Bhavnagar (C) Rajkot (D) Wadhwan
23. In 1858, Waghers attacked the Gaekwad army and British troops stationed in the Baroda state and forced them to retreat. The rebels established their control over Dwaraka and Bet. Who was declared the leader of the rebels and King of Dwaraka thereafter?  
 (A) Mukhi Garbaddas (B) Thakore Jiyabhai  
 (C) Govind Rao (D) Jodha Manek
24. 'Police Action' against ..... princely state was titled as *Operation Polo*.  
 (A) Junagadh (B) Travancore (C) Kashmir (D) Hyderabad
25. Which of the following statement(s) is(are) correct with reference to *Mahalwari Settlement*?  
 1. It was a modified version of the Permanent Settlement.  
 2. The land revenue was fixed permanently in this system.  
 (A) Only 1 (B) Only 2 (C) Both 1 and 2 (D) Neither 1 nor 2



26. શિયોસોફિકલ સોસાયટી સંદર્ભે નીચે આપેલાં વિધાનોમાંથી કયાં વિધાનો ખરાં છે?
૧. તેની સ્થાપના ઈ.સ. ૧૮૭૫માં મેડમ એચ. પી. બ્લાવાસ્તકી અને માજી અંગ્રેજ લશ્કર અધિકારી કર્નલ એચ. એસ. ઓલકોટ દ્વારા કરવામાં આવી હતી.
  ૨. તેનું ધ્યેય મનુષ્ય માટે સાર્વત્રિક ભાઈચારાને સિધ્ધ કરવાનું હતું.
  ૩. પ્રાચીન ધર્મ અને તત્ત્વજ્ઞાનના અભ્યાસ પર સોસાયટીએ ધ્યાન કેન્દ્રિત કર્યું હતું.
  ૪. તેણે ગૂઢવિદ્યા પર ભાર મૂક્યો હતો.
- (A) ફક્ત ૨, ૩ અને ૪ (B) ફક્ત ૧, ૩ અને ૪ (C) ફક્ત ૧, ૨ અને ૪ (D) ૧, ૨, ૩ અને ૪
27. ઈ.સ. ૧૮૦૯માં ત્રાવણકોર બળવાનું નેતૃત્વ તેના દિવાન ..... એ કર્યું હતું.
- (A) વેલુ થમ્પી (B) કેરાલા વર્મા  
(C) મારુદ્દ પાંડયન (D) ઉપરના પૈકી કોઈ નહીં.
28. અમૃતસરની સંધિ (૧૮૦૯) રણજિત સિંહ અને ..... વચ્ચે થયેલો કરાર હતો.
- (A) વેલ્સલી (B) મેટકલ્ફ (C) બેન્ટિંક (D) મેયો
29. સામાજિક-ધાર્મિક સંસ્થા ..... ના સહસ્થાપક સુરતના મહેતાજી દુર્ગારામ મંછારામ હતા.
- (A) માનવધર્મ સભા (B) પરમહંસ મંડળી  
(C) સત્ય મહિમા ધર્મ (D) ઉપરના પૈકી કોઈ નહીં.
30. ઈ. વી. રામાસ્વામી નાયકર 'પેરિયાર'ના નેતૃત્વ હેઠળ દક્ષિણ ભારતમાં ઉદ્ભવેલી એક બિન-બ્રાહ્મણ ચળવળને ..... કહે છે.
- (A) સ્વ-માન ચળવળ (B) ન્યાય ચળવળ  
(C) દ્રાવિડિયન ચળવળ (D) નીચી-જાતિ ચળવળ
31. ચરક કોના દરબારનો ચિકિત્સક હતો?
- (A) હર્ષવર્ધન (B) કનિષ્ઠ (C) અશોક (D) ચંદ્રગુપ્ત મૌર્ય
32. મંદસૌર શિલાલેખ અને સ્કંદ ગુપ્તની ઇંદોર તાંબાની થાળી સૂચવે છે કે .....
- (A) તેઓ વિવિધ કારીગરોના સમર્થ સમૂહો હતા  
(B) તેઓ આર્થિક રીતે સધ્ધર હતા  
(C) તેઓ એક જગ્યાએથી બીજી જગ્યાએ સ્થળાંતર કરતા હતા  
(D) ઉપરોક્ત તમામ
33. નવનીતકામ - એ ગુપ્તા સમયનું ..... નું પુસ્તક છે.
- (A) ખગોળશાસ્ત્ર (B) ગણિત (C) ચિકિત્સા પદ્ધતિ (D) જ્યોતિષ વિદ્યા
34. વલ્લભાચાર્યનું તત્ત્વજ્ઞાન ..... છે.
- (A) અદ્વૈતવાદ (B) વિશિષ્ટ અદ્વૈત (C) શુદ્ધ અદ્વૈતવાદ (D) દ્વૈત અદ્વૈતવાદ
35. કાકોરી લૂંટ કેસ માં ..... - ભારતીય ક્રાંતિકારીને કેદ કરી શકાયો નહતો.
- (A) ચંદ્રશેખર આઝાદ (B) રોશન સિંહ (C) રાજેન્દ્ર લાહિરી (D) અશ્ફાકુલ્લાહ ખાન
36. ગદર નેતા ..... - એ મેક્સિકોના ક્રાંતિકારીઓનો 'મેક્સિકન ગદરો' (Mexican Ghadarites) તરીકે ઉલ્લેખ કર્યો હતો.
- (A) અજિતસિંહ (B) બરકતુલ્લા (C) લાલા હરદયાલ (D) સોહન સિંહ ભક્ષના

26. Which of the following statements are correct with reference to the Theosophical Society?
1. It was founded in 1875 by Madam H. P. Blavatsky and a former English army officer, Colonel H. S. Olcott.
  2. Its aim was to achieve a universal brotherhood of man.
  3. It focussed at promoting the study of ancient religion and philosophy.
  4. It emphasized on occultism.
- (A) Only 2, 3 and 4      (B) Only 1, 3 and 4      (C) Only 1, 2 and 4      (D) 1, 2, 3 and 4
27. The *Travancore Rebellion* in 1809 was led by its Diwan .....
- (A) Velu Thampi      (B) Kerala Varma  
(C) Marudu Pandyan      (D) None of the above
28. The *Treaty of Amritsar* (1809) was an agreement between Ranjit Singh and .....
- (A) Wellesley      (B) Metcalfe      (C) Bentinck      (D) Mayo
29. ...., a socio-religious organization, was co-founded by Mehtaji Durgaram Manchharam of Surat.
- (A) Manav Dharma Sabha      (B) Parmahansa Mandali  
(C) Satya Mahima Dharma      (D) None of the above
30. A non-Brahmin movement emerged in south India under the leadership of E.V. Ramaswamy Naicker 'Periyar' is known as .....
- (A) Self-Respect Movement      (B) Justice Movement  
(C) Dravidian Movement      (D) Low-Caste Movement
31. Whose court physician was Charak?
- (A) Harsh Vardhana      (B) Kanishka  
(C) Ashoka      (D) Chandra Gupta Maurya
32. The Mandsaur Inscription and Indore copper plate of Skanda Gupta suggest that .....
- (A) They were powerful guilds of various craftsmen.  
(B) They were economically quite well-off.  
(C) They migrated from place to place.  
(D) All of the above.
33. *Navanitakam* of the Gupta period was a book on .....
- (A) Astronomy      (B) Mathematics      (C) Medicine      (D) Astrology
34. .... is the philosophy of Vallabhacharya.
- (A) Advaitavada      (B) Vishishta Advaita  
(C) Shuddha Advaitavada      (D) Duaita Advaitavada
35. .... – an Indian revolutionary couldn't be imprisoned in the *Kakori Robbery Case*.
- (A) Chandra Shekhar Azad      (B) Roshan Singh  
(C) Rajendra Lahiri      (D) Ashfaqullah Khan
36. .... - a Ghadarite leader referred to the Mexican revolutionaries as the *Mexican Ghadarites*.
- (A) Ajit Singh      (B) Barkatullah  
(C) Lala Har Dayal      (D) Sohan Singh Bhakna

37. ભારતની સંસ્કૃતિ અને પરંપરા સંદર્ભે 'કલરીપાયકુ' શું છે?
- (A) તે દક્ષિણ ભારતના કેટલાક ભાગોમાં હજુ પણ પ્રવર્તમાન શિવવાદનો પ્રાચીન સંપ્રદાય છે.  
 (B) તે કોરોમંડલ વિસ્તારના દક્ષિણ ભાગમાં હજુ પણ જોવા મળતું પ્રાચીન શૈલીનું કાંસ્ય અને પિત્તળ કામ છે.  
 (C) તે નૃત્ય-નાટકનું પ્રાચીન સ્વરૂપ છે અને મલબારના ઉત્તર ભાગમાં એક જીવંત પરંપરા છે.  
 (D) તે એક પ્રાચીન લડાઈકળા છે અને દક્ષિણ ભારતના કેટલાક ભાગોમાં એક જીવંત પરંપરા છે.
38. અખિલ ભારત વેપાર સંઘ કોંગ્રેસ (All India Trade Union Congress | AITUC) સંદર્ભે નીચે આપેલાં વિધાનોમાંથી કયું(યાં) વિધાન(નો) ખરું(રાં) છે?
૧. તેની સ્થાપના અસહકારની ચળવળ દરમિયાન કરવામાં આવી હતી.  
 ૨. લાલા લાજપતરાય તેના પ્રથમ ચૂંટાયેલા પ્રમુખ હતા.  
 ૩. ભારતીય રાષ્ટ્રીય કોંગ્રેસે તેની રચનાનો વિરોધ કર્યો.
- (A) ફક્ત ૧ અને ૨ (B) ફક્ત ૨ (C) ફક્ત ૧ અને ૩ (D) ૧, ૨ અને ૩
39. ગુજરાતનાં સંગ્રહાલયો સંદર્ભે નીચે આપેલી વિગતોને ખરો વિકલ્પ પસંદ કરી જોડો.
- |                             |  |
|-----------------------------|--|
| યાદી ૧                      | યાદી ૨                                     |
| ૧. કેલિકો સંગ્રહાલય         | a. ગૌતમ સારાભાઈ                            |
| ૨. લાલભાઈ દલપતભાઈ સંગ્રહાલય | b. અગમપ્રભાકર મુનિશ્રી પુનિયાવિજયજી મહારાજ |
| ૩. પતંગ સંગ્રહાલય           | c. ભાનુ શાહ                                |
| ૪. સરદાર પટેલ સંગ્રહાલય     | d. મોતી શાહી મહેલ                          |
| (A) ૧-a, ૨-b, ૩-c, ૪-d      | (B) ૧-a, ૨-c, ૩-b, ૪-d                     |
| (C) ૧-d, ૨-b, ૩-a, ૪-c      | (D) ૧-d, ૨-c, ૩-a, ૪-b                     |
40. ગુજરાતમાં સો વર્ષ કરતાં વધુ જૂનાં ગ્રંથાલયોને તેનાં સ્થળો સાથે યોગ્ય રીતે જોડી ખરો વિકલ્પ પસંદ કરો.
- |  |                        |
|--|------------------------|
| યાદી ૧   | યાદી ૨                 |
| ૧. રાયચંદ દીપચંદ ગ્રંથાલય                      | a. ભરૂચ                |
| ૨. દેસાઈ નાનજી અને શેઠ ઝવેરશાહ હરજીવન ગ્રંથાલય | b. પોરબંદર             |
| ૩. સ્ટુઅર્ટ પબ્લિક લાયબ્રેરી                   | c. ગોધરા               |
| ૪. લાંગ પુસ્તકાલય                              | d. રાજકોટ              |
| (A) ૧-a, ૨-b, ૩-c, ૪-d                         | (B) ૧-a, ૨-c, ૩-b, ૪-d |
| (C) ૧-d, ૨-b, ૩-a, ૪-c                         | (D) ૧-d, ૨-c, ૩-a, ૪-b |
41. હઠી સિંહ જૈન દેરાસર ..... તીર્થંકરને સમર્પિત છે.
- (A) ધર્મનાથ (B) નેમિનાથ (C) મલ્લિનાથ (D) આદિનાથ
42. નવરાત્રિ અને લઝન-પ્રસંગોમાં ગુજરાતમાં ગવાતો અને પ્રચલિત સનેડાનું ઉદ્ભવ સ્થાન ..... છે.
- (A) રાજકોટ (B) પાટણ (C) ડાંગ (D) લીમખેડા
43. .... ગુજરાતી ગરબાનો લોકનૃત્ય પ્રકાર નથી.
- (A) પાલી જગ (B) કહાલ્યા (C) ધુમહલ (Dumhal) (D) હુડો
44. હલ્લિસાકા નૃત્ય સંદર્ભે નીચે આપેલાં વિધાનોમાંથી કયું(યાં) વિધાન(નો) ખરું(રાં) છે?
૧. આ નૃત્ય હરિવંશ પુરાણમાં મહત્વનું છે.  
 ૨. નૃત્યકારો વર્તુળ રચવા હાથમાં હાથ જોડી સાંકળ રચે છે.  
 ૩. કૃષ્ણનું પાત્ર જે યુવાન ભજવે છે તે ગોપીઓની વચ્ચે ઊભો રહે છે.
- (A) ફક્ત ૧ (B) ફક્ત ૨ (C) ફક્ત ૧ અને ૨ (D) ૧, ૨ અને ૩



37. What is *Kalaripayattu* according to India's culture and tradition?
- (A) It is an ancient Bhakti cult of Shaivism still prevalent in some parts of Southern India.  
 (B) It is an ancient style bronze and brasswork still found in southern part of Coromandel area.  
 (C) It is an ancient form of dance-drama and a living tradition in the northern part of Malabar.  
 (D) It is an ancient martial art and a living tradition in some parts of Southern India.
38. Which of the following statement(s) is(are) correct regarding the All India Trade Union Congress (AITUC)?
1. It was founded during the Non-Cooperation Movement.
  2. Lala Lajpat Rai was its first elected president.
  3. Indian National Congress opposed its formation.
- (A) Only 1 and 2            (B) Only 2 only            (C) Only 1 and 3            (D) 1, 2 and 3

39. Match the following by selecting the correct option regarding museums in Gujarat.

List 1	List 2
1. Calico Museum	a. Gautam Sarabhai
2. Lalbhai Dalpatbhai Museum	b. Agamprabhakar Muni Shri Punyavijayji Maharaj
3. Kite Museum	c. Bhanu Shah
4. Sardar Patel Museum	d. Moti Shahi Mahal

- (A) 1-a, 2-b, 3-c, 4-d            (B) 1-a, 2-c, 3-b, 4-d  
 (C) 1-d, 2-b, 3-a, 4-c            (D) 1-d, 2-c, 3-a, 4-b

40. Match the locations of the libraries older than 100 years in Gujarat by selecting the correct option.

List 1	List 2
1. Raichand Deepchand Library	a. Bharuch
2. Desai Nanji & Sheth Zavershah Harjivan Library	b. Porbandar
3. Stuart Public Library	c. Godhra
4. Lang Library	d. Rajkot

- (A) 1-a, 2-b, 3-c, 4-d            (B) 1-a, 2-c, 3-b, 4-d  
 (C) 1-d, 2-b, 3-a, 4-c            (D) 1-d, 2-c, 3-a, 4-b

41. Hathee Singh Jain Temple is dedicated to \_\_\_\_\_ Tirthankara.

- (A) Dharamanath            (B) Neminath  
 (C) Mallinath            (D) Adinath

42. Popularly sung at Navratri festival and weddings in Gujarat, *Sanedo* has originated from .....

- (A) Rajkot            (B) Patan            (C) Dang            (D) Limkheda

43. .... is not a folk dance form of Gujarati Garba.

- (A) Palli Jag            (B) Kahalya            (C) Dumhal            (D) Hudo

44. Which of the following statement(s) is(are) correct with reference to *Hallisaka* dance?

1. The dance is very significant in the *Harivansha Purana*.
2. The dancers form a circle with their hands joined together to form a chain.
3. A young man who acts as Lord Krishna stands in the middle of the 'Gopis.'

- (A) Only 1            (B) Only 2            (C) Only 1 and 2            (D) 1, 2 and 3

45. ગુજરાતના ચિત્ર-વિચિત્ર મેળા સંદર્ભે નીચે આપેલાં વિધાનોમાંથી કયું(યાં) વિધાન(નો) ખરું(રાં) છે?
૧. તે ગુભાખરી ગામે યોજાય છે.
  ૨. મેળાનું નામ શાંતનુ રાજાના પુત્રો ચિત્રવીર્ય અને વિચિત્રવીર્યના નામ ઉપરથી પડ્યું છે.
  ૩. હોળીના એક દિવસ પહેલા આ મેળો યોજાય છે.
- (A) ફક્ત ૧ (B) ફક્ત ૨ (C) ફક્ત ૧ અને ૨ (D) ૧, ૨ અને ૩
46. ટાંગળીયા કામ સંદર્ભે નીચે આપેલાં વિધાનોમાંથી કયું(યાં) વિધાન(નો) ખરું(રાં) છે?
૧. તે ગુજરાતનું જાણીતું લાકડા પર થતું કોતરણી કામ છે અને પરંપરાગત હસ્તકળા છે.
  ૨. આ કઠપૂતળીઓને ચમકીલા રંગો અને સુંદર રીતે હાથથી રંગવામાં આવે છે.
  ૩. ભરવાડ સમુદાયની સ્ત્રીઓ ઘાઘરા તરીકે આ વસ્ત્રને વીંટાળીને પહેરે છે.
- (A) ફક્ત ૧ (B) ફક્ત ૩ (C) ફક્ત ૧ અને ૨ (D) ૧, ૨ અને ૩
47. જયકુમારી-વિજય, ગુજરાતી સાહિત્યનું પ્રથમ આધુનિક પ્રણય-કથા નાટક ..... એ લખ્યું છે.
- (A) રણછોડભાઈ ઉદયરામ દવે (B) સી. સી. મહેતા  
(C) બાપુલાલ નાયક (D) પ્રાગજી ડોસા
48. નીચેના પૈકી કયું(યાં) મંદિર(રો) ગિરનાર પર્વત ઉપર આવેલાં છે?
૧. નેમિનાથ જૈન મંદિર
  ૨. મલ્લિનાથ જૈન મંદિર
  ૩. સંપ્રતિ રાજાનું મંદિર
- (A) ફક્ત ૧ (B) ફક્ત ૨ (C) ફક્ત ૨ અને ૩ (D) ૧, ૨ અને ૩
49. નાટક ભજવતાં - નાટ્યવિવેચનનું પુસ્તક ..... લખ્યું છે.
- (A) દલપતરામ (B) સી. સી. મહેતા (C) કે. એમ. મુનશી (D) જનક દવે
50. .... એ એન્ડ્રોન ચેખવકૃત નાટક અંકલ વાન્યાનો ગુજરાતીમાં વાણિયા મામા તરીકે અનુવાદ કર્યો છે.
- (A) હસમુખ બારાડી (B) અનિલા દલાલ (C) રંજના હરીશ (D) રીટા કોઠારી
51. ગુજરાતની કળા સંદર્ભે નીચે આપેલી માહિતીને ખરો વિકલ્પ પસંદ કરી જોડકાં જોડો.
- |                                |           |
|--------------------------------|-----------|
| યાદી ૧                         | યાદી ૨    |
| ૧. સાદેલી                      | a. ભૂજોડિ |
| ૨. અરજક બ્લોક પ્રિન્ટીંગ       | b. ધમાડકા |
| ૩. રંગીન શાલ અને ધાબળા         | c. પોષીના |
| ૪. મણ્યમૂર્તિ (ટેરાકોટા) ઘોડાઓ | d. સૂરત   |
- (A) ૧-a, ૨-b, ૩-c, ૪-d (B) ૧-a, ૨-c, ૩-b, ૪-d  
(C) ૧-d, ૨-b, ૩-a, ૪-c (D) ૧-d, ૨-c, ૩-a, ૪-b
52. ગુજરાતમાં તોરણ સ્થાપત્યકલાના નમૂના સંદર્ભે નીચે આપેલાં વિકલ્પોમાંથી ખરો વિકલ્પ પસંદ કરો.
૧. મોઢેરાનું સૂર્યમંદિર
  ૨. રુદ્રમહાલય, સિધ્ધપુર
  ૩. રણછોડજી મંદિર, વાલમ
- (A) ફક્ત ૧ (B) ફક્ત ૨ (C) ફક્ત ૧ અને ૨ (D) ૧, ૨ અને ૩

45. Which of the following statement(s) is(are) correct with reference to *Chitra-Vichitra Mela* in Gujarat?
1. It is held at the village of Gubhakhari.
  2. The name of the fair is derived from Chitravirya and Vichitraviraya, the sons of King Shantanu.
  3. Fair is held a day before Holi.
- (A) Only 1 (B) Only 2 (C) Only 1 and 2 (D) 1, 2 and 3
46. Which of the following statement(s) is(are) correct with reference to *Tangaliya work*?
1. It is a famous wood carving and traditional craft of Gujarat.
  2. These are puppets vibrantly coloured and beautifully hand-painted.
  3. It is usually worn as a wraparound skirt by the women of the Bharwad shepherd community.
- (A) Only 1 (B) Only 3 (C) Only 1 and 2 (D) 1, 2 and 3
47. *Jaykumari-Vijay*, a play written by ..... is considered as the first modern love story of Gujarati Literature.
- (A) Ranchhodhbhai Udayaram Dave (B) C. C. Mehta  
(C) Bapulal Naik (D) Pragji Dosa
48. Which of the following temple(s) is(are) located on *Girnar* Mountain?
1. The Jain temple of Neminath
  2. The Jain temple of Mallinath
  3. The temple of Samprati Raja
- (A) Only 1 (B) Only 2 (C) Only 2 and 3 (D) 1, 2 and 3
49. *Natak Bhajavata* - A book on theatre criticism is written by .....
- (A) Dalpatram (B) C. C. Mehta (C) K. M. Munshi (D) Janak Dave
50. .... has translated *Uncle Vanya* by Anton Chekhov into Gujarati as *Vanya Mama*.
- (A) Hasmukh Baradi (B) Anila Dalal (C) Ranjana Harish (D) Rita Kothari
51. Match the following information by selecting the correct option regarding crafts of Gujarat.
- | List 1                           | List 2      |
|----------------------------------|-------------|
| 1. Sadeli                        | a. Bhujodi  |
| 2. Ajrakh block printing         | b. Dhamadka |
| 3. Colourful shawls and blankets | c. Poshina  |
| 4. Terracotta horses             | d. Surat    |
- (A) 1-a, 2-b, 3-c, 4-d (B) 1-a, 2-c, 3-b, 4-d  
(C) 1-d, 2-b, 3-a, 4-c (D) 1-d, 2-c, 3-a, 4-b
52. Select the correct option from the choices given below regarding the examples of *Torana* architecture in Gujarat.
1. Sun Temple, Modhera
  2. Rudramahalaya, Siddhpur
  3. Ranchodji Temple, Valam
- (A) Only 1 (B) Only 2 (C) Only 1 and 2 (D) 1, 2 and 3



53. નીચેનાં પૈકી કયું(યાં) ગીત(તો) ઝવેરચંદ મેઘાણીકૃત છે?
૧. સૂપડું સવા લાખનું....
  ૨. આસો માસો શરદ પૂનમની રાત જો....
  ૩. મન મોર બની થનગાટ કરે...
- (A) ફક્ત ૧ (B) ફક્ત ૧ અને ૨ (C) ફક્ત ૨ અને ૩ (D) ૧, ૨ અને ૩
54. .... જિલ્લાના સ્થાનિક કલાકારોએ કામનગારી કલા (ભીંતચિત્રોનું સ્વરૂપ)માં નિપુણતા હાંસલ કરી છે.
- (A) સુરેન્દ્રનગર (B) કચ્છ (C) મોરબી (D) પંચમહાલ
55. નીચે આપેલાં બોધ ધર્મનાં અસ્તિત્વ વિષયક વિધાનોમાંથી કયું(યાં) વિધાન(નો) ખરું(રાં) છે?
૧. વડોદરા સંગ્રહાલયની સચિત્ર લઘુચિત્ર હસ્તપ્રતો
  ૨. અડાલજની વાવનાં શિલ્પો
  ૩. જૂનાગઢમાં અશોક શિલાલેખ
  ૪. ઉપરોક્ત તમામ
- (A) ફક્ત ૧ અને ૪ (B) ફક્ત ૧ અને ૩ (C) ફક્ત ૧ અને ૨ (D) ફક્ત ૩
56. રા'લાખાં લોકકથામાં ..... ના રાજાનો ઉલ્લેખ છે.
- (A) કચ્છ (B) દક્ષિણ ગુજરાત (C) ઉત્તર ગુજરાત (D) ઉપરોક્ત તમામ
57. કચ્છનો પ્રાગ-મહેલ ..... સ્થાપત્ય શૈલીમાં બાંધવામાં આવ્યો છે.
- (A) ભારતીય-ઈસ્લામી | ઈન્ડો-ઈસ્લામિક (B) ભારતીય-વંશીય | ઈન્ડો-એથીનીક
- (C) ઈટાલિયન-ગોથિક (D) મુઘલ શૈલી
58. હિંડોલા રાગ લઘુ ચિત્રકલામાં નીચેનાં પૈકી કયાં દેવી-દેવતાઓનું ચિત્રણ થયું છે?
- (A) શિવ-પાર્વતી (B) કૃષ્ણ અને રાધા (C) ઈન્દ્ર અને ઈન્દ્રાણી (D) ગણેશ અને રિધ્ધિ
59. આદિત્ય રામ, ..... રજવાડાના દરબારી સંગીતકારે દ્રુપદની એક પ્રકારની ગાયકી શૈલી, ચતુરંગ પ્રચલિત કરી.
- (A) વડોદરા (B) ભાવનગર (C) જામનગર (D) બાલાસિનોર
60. વડોદરાની ઓળખ સમા શિલ્પ 'વડલા'ના કલાકાર કોણ છે?
- (A) ગુલામ મોહમદ શેખ (B) નાગજી પટેલ (C) ભૂપેન ખખ્ખર (D) કે. જી. સુબ્રમણ્યમ
61. નીચે આપેલાં વિધાનોમાંથી કયું(યાં) વિધાન(નો) ખરું(રાં) છે?
૧. સપ્તમાતૃકા શિલ્પો ગુજરાતમાં જાણીતાં છે.
  ૨. ક્ષત્રપ યુગમાં સપ્તમાતૃકાની પૂજા શરૂ થઈ હતી.
  ૩. સપ્તમાતૃકાની કોતરણી સામાન્ય રીતે એક જ હરોળમાં હોય છે.
  ૪. સપ્તમાતૃકાના દેરા ગુજરાતમાં પર્યતર, અદોદર અને ભાલેજમાં આવેલા છે.
- (A) ફક્ત ૧ (B) ફક્ત ૧ અને ૨ (C) ફક્ત ૧, ૨ અને ૩ (D) ૧, ૨, ૩ અને ૪
62. ચૌદમી સદીના જૈન સાધુ ..... લઘુચિત્રકળા માટે પ્રખ્યાત છે.
- (A) કલકાચાર્ય (B) વિક્રમાચાર્ય
- (C) વીરભદ્રાચાર્ય (D) ઉપરના પૈકીમાંથી કોઈ નહીં
63. નીચે આપેલાં જોડકાંઓમાંથી ખરી વિગતોની જોડી પસંદ કરો.
- (A) રાઠવા - મહારાષ્ટ્ર (B) વારલી - છોટા ઉદેપુર
- (C) ગરાસિયા - મધ્યપ્રદેશ (D) ઉપરના પૈકી કોઈ નહીં.
64. સિંધુ મ્હોર ઉપર નીચેના પૈકી કયા દેવને યોગાસન ની મુદ્રામાં દર્શાવવામાં આવ્યા છે?
- (A) તીર્થંકર (B) બુદ્ધ
- (C) પશુપતિ (D) ઉપરના પૈકી કોઈ નહીં

53. Which of the following lyric(s) is(are) written by Jhaverchand Meghani?  
 1. Supdu Savalakhnu...  
 2. Aaso Maso Sharad Poonam ni Raat Jo...  
 3. Man Mor Bani Thangat Kare...  
 (A) Only 1 (B) Only 1 and 2 (C) Only 2 and 3 (D) 1, 2 and 3
54. The local artisans of ..... district has mastered the *Kamangari Art* (A form of *Fresco*).  
 (A) Surendranagar (B) Kutch (C) Morbi (D) Panchmahal
55. Which of the following statement(s) is(are) correct and indicates the existence of *Buddhism* in Gujarat?  
 1. Illustrated miniature manuscripts in Vadodara Museum Collection  
 2. Sculptures in the step well of Adalaj  
 3. Asokan Rock edict in Junagadh  
 4. All of the above  
 (A) Only 1 and 4 (B) Only 1 and 3 (C) Only 1 and 2 (D) Only 3
56. *Ra-Lakha* folklore refers to the king of .....  
 (A) Kutch (B) South Gujarat (C) North Gujarat (D) All of the above
57. *Prag-Mahal* in Kutch is built in ..... architectural style.  
 (A) Indo-Islamic (B) Indian-ethnic (C) Italian Gothic (D) Mughal Style
58. *Hindola Raga* miniature painting depicts which of the following God and Goddess?  
 (A) Shiva and Parvati (B) Krishna and Radha  
 (C) Indra and Indrani (D) Ganesha and Riddhi
59. Aditya Ram, state musician of princely state ..... popularised the singing style of *Chaturang* a variant of *Drupad*.  
 (A) Vadodara (B) Bhavnagar (C) Jamnagar (D) Balasinor
60. Who is the artist of *Banyan* the identity sculpture of Vadodara?  
 (A) Gulam Mohammad Sheikh (B) Nagji Patel  
 (C) Bhupen Khakkhar (D) K. G. Subramaniam
61. Which of the following statement(s) is(are) correct?  
 1. Saptamatruka sculptures are popular in Gujarat.  
 2. Saptamatruka worshipping started in Gujarat during Kshatrap time.  
 3. Saptamatrukas are generally carved in single panels.  
 4. Saptamatruka shrines are located at Pachtar, Adodar and Balej in Gujarat.  
 (A) Only 1 (B) Only 1 and 2 (C) Only 1, 2 and 3 (D) 1, 2, 3 and 4
62. .... is a famous Jain monk for miniature painting of 14th century.  
 (A) Kalakacharya (B) Vikramacharya  
 (C) Virbhadracharya (D) None of the above
63. Choose the correct combination of information from the following pairs.  
 (A) Rathwa – Maharashtra (B) Warli – Chhota Udaipur  
 (C) Garasiya – Madhya Pradesh (D) None of the above
64. Which of the following deity is depicted in *Yogasana* posture on Indus Seal?  
 (A) Tirthankara (B) Buddha  
 (C) Pashupathi (D) None of the above

65. પિછવાઈ સંદર્ભે નીચે આપેલાં વિધાનોમાંથી કયું(યાં) વિધાન(નો) ખરું(રાં) છે?  
 ૧. પિછવાઈ મંદિરની મૂર્તિ પાછળ પૃષ્ઠભૂમાં દર્શાવવામાં આવે છે.  
 ૨. પિછવાઈ કાપડ પર થતી ચિત્રકલા છે.  
 ૩. પિછવાઈ કૃષ્ણનાં જીવનનાં પ્રસંગો વર્ણવે છે.  
 ૪. પિછવાઈ દક્ષિણ ભારતની પ્રસિધ્ધ કલા છે.  
 (A) ફક્ત ૧ અને ૨ (B) ફક્ત ૨ (C) ફક્ત ૩ અને ૪ (D) ફક્ત ૪
66. નીચેનું પૈકી કયું નાગર, દ્રવિડ અને વેસરનું ખરું વર્ણન છે?  
 (A) ત્રણ મુખ્ય વંશીય સમુદાયો (B) ત્રણ ભાષાકીય વિભાગો  
 (C) ત્રણ મુખ્ય ભારતીય મંદિરોની સ્થાપત્ય શૈલીઓ (D) સંગીત ઘરાનાઓ
67. રાજસ્થાનની કિશનગઢ શાળા ..... માટે પ્રખ્યાત છે.  
 (A) ચિત્રકલા (B) નૃત્ય (C) શિલ્પ (D) સ્થાપત્ય
68. પાંડવાની – નીચેનાં પૈકી કયાં રાજ્યની પરંપરાગત નૃત્યાનાટક/રંગભૂમિ કળા છે?  
 (A) છત્તીસગઢ (B) બિહાર (C) ઝારખંડ (D) તેલંગાણા
69. દાદા હરિની વાવ (સ્ટેપવેલ/બાઓલી) .....માં આવેલી છે.  
 (A) ભાવનગર (B) સુરત (C) જૂનાગઢ (D) અમદાવાદ
70. નાગરશૈલીનાં મંદિરોની દિવાલ ..... તરીકે ઓળખાય છે.  
 (A) મંડોવર (B) સ્તંભ (C) તોરણ (D) શુંખલા (Chain)
71. ગુજરાતનાં પ્રથમ મહિલા-સ્નાતક ..... છે.  
 (A) શારદાગૌરી મહેતા (B) વિનોદિની નીલકંઠ (C) ઉષા મહેતા (D) લીલાવતી મુન્શી
72. ગુજરાતની હવેલીઓ પર .....સ્થાપત્ય શૈલીની અસર છે.  
 (A) ચાલુક્ય (B) મારુ-ગુર્જર (C) નાગર (D) નીઓ-ગોથિક
73. જોડકાં જોડો.  
 યાદી ૧  
 a. શંકરદેવ  
 b. ચૈતન્યદેવ  
 c. બસવેશ્વર  
 d. નાભાદાસ  
 (A) a-૨, b-૧, c-૪, d-૩  
 (C) a-૪, b-૩, c-૨, d-૧
- યાદી ૨  
 ૧. રસિક શાળા  
 ૨. વીરશૈવ શાળા  
 ૩. ગૌડીય શાળા  
 ૪. મહાપુરનસ્ય શાળા  
 (B) a-૨, b-૩, c-૧, d-૪  
 (D) a-૧, b-૨, c-૩, d-૪
74. પ્રખ્યાત ગુજરાતી નાટક સંતુ રંગીલી, અંગ્રેજી નાટક ..... થી પ્રેરિત છે.  
 (A) એન્ટોની અને ક્લિઓપેટ્રા (B) ઇલેક્ટ્રા  
 (C) ધ ચેર્સ (D) પિગ્મેલિઅન
75. ગુજરાતી રંગભૂમિનું ગીત 'ધનવાન જીવન માણે છે કોઈ અનુભવીને પૂછી જુઓ કે કોણ જીવી જાણે છે...' નાં ગીતકાર .....  
 (A) રસકવિ રઘુનાથ બ્રહ્મભટ્ટ (B) પ્રભુલાલ દિવેદી  
 (C) ચંદ્રકાંત શાહ (D) મનસ્વી પ્રાંતિજવાલા



65. Which of the following statement(s) is(are) incorrect about *Pichvai*?
1. *Pichvai* is the temple wall hanging used as a backdrop of the God's idol.
  2. *Pichvai* is cloth painting.
  3. *Pichvai* depicts scenes of Krishna's life.
  4. *Pichvai* is the popular art form of southern India.
- (A) Only 1 and 2 (B) Only 2 (C) Only 3 and 4 (D) Only 4
66. Which among the following is the correct description of Nagara, Dravida and Vesara?
- (A) The three main racial groups  
 (B) Three linguistic divisions  
 (C) Three main styles of Indian temple architecture  
 (D) Musical gharanas
67. *Kishangarh School* of Rajasthan is famous for .....
- (A) Painting (B) Dance (C) Sculpture (D) Architecture
68. *Pandavani* is a traditional dance | drama | theatre of which one of the following states?
- (A) Chhattisgarh (B) Bihar (C) Jharkhand (D) Telangana
69. *Dada Hari.ni Wav* (Stepwell | Baoli) is located at .....
- (A) Bhavnagar (B) Surat (C) Junagadh (D) Ahmedabad
70. The walls of Nagara style temples are known as .....
- (A) Mandovar (B) Stambh  
 (C) Toran (D) Shrunkhala (Chain)
71. The first female graduate of Gujarat is .....
- (A) Shardagauri Mehta (B) Vinodini Nilkanth (C) Usha Mehata (D) Lilawati Munshi
72. The mansions (Havelis) of Gujarat are influenced by ..... style of Architecture.
- (A) Chaulakya (B) Maru-Gurjar (C) Nagar (D) Neo-Gothic
73. Match the following:
- | List I          | List II                 |
|-----------------|-------------------------|
| a. Sankardev    | 1. Rasik School         |
| b. Chaitanyadev | 2. Veershaiva School    |
| c. Basveshwar   | 3. Gaudiya School       |
| d. Nabhadas     | 4. Mahapurushiya School |
- (A) a-2, b-1, c-4, d-3 (B) a-2, b-3, c-1, d-4 (C) a-4, b-3, c-2, d-1 (D) a-1, b-2, c-3, d-4
74. Famous Gujarati play *Santu Rangili* is inspired from an English play .....
- (A) Antony and Cleopatra (B) Electra  
 (C) The Chairs (D) Pygmalion
75. The lyricist of a song 'Dhanvan Jeevan Mane chhe Koi Anubhavine Poochhi Jo Ke Kon Jeevi Jane Chhe...' of Gujarati Theatre is .....
- (A) Raskavi Raghunath Brahmabhatt (B) Prabhulal Dwivedi  
 (C) Chandrakant Shah (D) Manasvi Prantijwala

76. નીચેની કૃતિઓને તેના લેખકો સાથે જોડી ખરો વિકલ્પ પસંદ કરો.
- |                        |                        |
|------------------------|------------------------|
| કૃતિઓ                  | લેખકો                  |
| a. કાહે કોચલ શોર મચાયે | ૧. સૌમ્ય જોશી          |
| b. ઔરંગઝેબ             | ૨. હરીશ નાગ્રેયા       |
| c. એક લાલની રાણી       | ૩. ચિનુ મોદી           |
| d. આઠમા તારાનું આકાશ   | ૪. લાભશંકર ઠાકર        |
| (A) a-૩, b-૪, c-૧, d-૨ | (B) a-૧, b-૨, c-૩, d-૪ |
| (C) a-૪, b-૩, c-૨, d-૧ | (D) a-૨, b-૧, c-૪, d-૩ |
77. .... કપિલા, સરસ્વતી અને હિરણ્ય નદીના સંગમ ઉપર આવેલું છે.
- (A) યાણોદ (B) દ્વારકા (C) ભાલકા (D) મોઢેરા
78. દૂબળા લોકો ઢીંગલાં બનાવી પોતાનો ..... તહેવાર ઉજવે છે.
- (A) અખાત્રીજ (B) શ્રાવણી પૂનમ (C) દિવાસો (D) હોળી
79. ૨૯ સપ્ટેમ્બર, ૧૯૪૨ના દિવસે બ્રિટીશ-ભારતીય પોલીસ દ્વારા પોલીસ સ્ટેશનની સામે એની ગોળી મારીને હત્યા કરવામાં આવી ત્યાં સુધી તેણે ભારતની સ્વતંત્રતાની ચળવળમાં ભારતીય ક્રાંતિકારી તરીકે સક્રિય કામગીરી કરી હતી. તેમને સ્નેહપૂર્વક 'ગાંધી બૂરી' તરીકે ઓળખવામાં આવતા.
- (A) અરુણા અસફ અલી (B) માતાંગિની હાઝરા (C) મલૂ સ્વરાજ્યમ (D) દુર્ગાવાઈ દેશમુખ
80. પ્રસિધ્ધ ફિલ્મ સંગીતકાર જયકિશનનો જન્મ ગુજરાતના ..... માં થયો હતો.
- (A) ડભોઈ (B) પાલિતાણા (C) વાંસદા (D) વડનગર
81. રાષ્ટ્રીય સાહિત્ય અકાદમીનો વર્ષના શ્રેષ્ઠ પુસ્તકનો એવોર્ડ નીચેનાં પૈકી કયાં પિતા-પુત્રની જોડીને સાહિત્ય ક્ષેત્રે પોતાનાં આગવાં પ્રદાન બદલ આપવામાં આવ્યો હતો?
- (A) હરિવલ્લભ ભાયાણી - ઉત્પલ ભાયાણી (B) ઝવેરચંદ મેઘાણી - મહેન્દ્ર મેઘાણી  
(C) રમણલાલ જોશી - પ્રબોધ જોશી (D) મહાદેવ દેસાઈ - નારાયણ દેસાઈ
82. હૃદયકુંજ શું છે?
- (A) બારડોલીમાં આવેલું સ્થળ (B) ગાંધીઆશ્રમમાં આવેલું સ્થળ  
(C) વડનગરમાં આવેલું સ્થળ (D) લક્ષ્મીવિલાસ પેલેસમાં આવેલું સ્થળ
83. કચ્છી ભાષા કઈ બે ભાષાઓનું મિશ્રણ છે?
- (A) કાકરી અને સિંધી (B) સિંધી અને ગુજરાતી  
(C) પારસી અને કાકરી (D) કાકરી અને કાઠિયાવાડી
84. ગુજરાતીની પ્રથમ નાટ્ય મંડળી, પારસી નાટક મંડળીની સ્થાપના ..... કરી હતી.
- (A) ફરામજી ગુસ્તાદજી દલાલ (B) વાઘજી ઓઝા  
(C) રણછોડલાલ દવે (D) કે. એમ. મુનશી
85. શહીદ ભગતસિંહ નીચેની કઈ સંસ્થા(ઓ)ના હિસ્સારૂપ હતા?
- (A) નૌજવાન ભારત સભા (B) હિંદુસ્તાન સોસ્યાલિસ્ટ રીપબ્લિક એસોસિએશન  
(C) કિર્તી કિસાન પાર્ટી (D) ઉપરની તમામ સંસ્થાઓ
86. સપ્તચતન શૈલીનું મંદિર ગુજરાતમાં .....માં આવેલું છે.
- (A) ધ્રાસનવેલ (B) ચકલુત (C) કાલાવડ (D) સારમા

76. Choose the correct option by matching the following texts with their authors:

Works	Authors
a. Kahe koyal shor machaye	1. Saumya Joshi
b. Aurangzeb	2. Harish Nagrecha
c. Ek lalni rani	3. Chinu Modi
d. Aathama taranu Aakash	4. Labhshankar Thaker

- (A) a-3, b-4, c-1, d-2 (B) a-1, b-2, c-3, d-4  
 (C) a-4, b-3, c-2, d-1 (D) a-2, b-1, c-4, d-3

77. .... is situated at a confluence of rivers - Kapila, Saraswati and Hiranya.

- (A) Chanod (B) Dwarka (C) Bhalka (D) Modhera

78. Doobla people celebrate their festival ..... by making big doll (Dhinglo).

- (A) Akhatreej (B) Shravani Poonam (C) Divaso (D) Holi

79. .... was Indian revolutionary who participated in the Indian independence movement until she was shot dead by the British Indian police in front of police station on 29th September 1942. She was affectionately known as 'Gandhi buri.'

- (A) Aruna Asaf Ali (B) Matangini Hazra  
 (C) Mallu Swarajyam (D) Durgabai Deshmukh

80. Renowned film musician Jaikishan was born in ..... of Gujarat.

- (A) Dabhoi (B) Palitana (C) Vansda (D) Vadnagar

81. Which of the following father-son duo was conferred with National Sahitya Academy year's best book award for their distinctive contributions in the literary field?

- (A) Harivallabh Bhayani-Utpal Bhayani  
 (B) Zhaverchand Meghani-Mahendra Meghani  
 (C) Ramanlal Joshi-Prabodh Joshi  
 (D) Mahadev Desai-Narayan Desai

82. What is *Hridaya Kunj*?

- (A) A place at Bardoli (B) A place at Gandhi Ashram  
 (C) A place at Vadodara (D) A place at Laxmivilas Palace

83. Kutchchi language is a mix of which two languages?

- (A) Kakri and Sindhi (B) Sindhi and Gujarati  
 (C) Parsi and Kakri (D) Kakri and Kathiyawadi

84. The first theatre group of Gujarati, *Parsee Natak Mandali* was founded by .....

- (A) Framjee Gustadjee Dalal (B) Vaghji Oza  
 (C) Ranchhodlal Dave (D) K. M. Munshi

85. Shaheed Bhagat Singh was a part of which of the following organization(s)?

- (A) Naujavan Bharat Sabha (B) Hindustan Socialist Republic Association  
 (C) Kirti Kisan Party (D) All of the above

86. *Saptayatan* style temple is located at ..... in Gujarat.

- (A) Dhrasanvel (B) Chakrabhrut  
 (C) Kalvad (D) Sarama



87. નીચેના પૈકી કોને મંચ નિર્દેશન માટે સંગીત નાટક અકાદેમી (નવી દિલ્હી) એવોર્ડ એનાયત કરવામાં આવ્યો હતો?  
 (A) મોહનલાલજી (B) મૂલચંદ નાયક (C) નાયક કેશવલાલ (D) કાસમભાઈ મીર
88. સ્વામી હરિદાસ તેમની ..... શૈલીમાં ભક્તિ રચનાઓ માટે પ્રસિધ્ધ છે.  
 (A) કુમરી (B) ચારચરી (C) ધ્રુપદ (D) ટપ્પા
89. ભારતમાં ગ્રામીણ ઓલિમ્પિક્સ ..... ખાતે યોજવામાં આવી હતી.  
 (A) કેરળ (B) લખનૌ (C) જેસલમેર (D) કિલા રાયપુર
90. સાર્થ ગુજરાતી જોડણીકોશ ..... દ્વારા પ્રકાશિત કરવામાં આવ્યો છે.  
 (A) ગુજરાતી સાહિત્ય પરિષદ (B) ગુજરાત યુનિવર્સિટી  
 (C) ગુજરાત વિદ્યાપીઠ (D) નર્મદ સાહિત્યસભા
91. નીચે આપેલાં વિધાનોમાંથી કયું(યાં) વિધાન(નો) ખરું(રાં) છે?  
 ૧. લોકપ્રતિનિધિત્વ અધિનિયમ (૧૯૫૦) અનુસાર પ્રથમ વખતના મતદાર તરીકે નોંધણી માટે ૧૮ વર્ષની વયે લાયકાત નક્કી કરવા માટેની સુસંગત તારીખનું વર્ણન આ મુજબ છે: “લાયકી તારીખ એટલે જે વર્ષમાં મતદાર યાદી તૈયાર કરવામાં અથવા સુધારવામાં આવી હોય તેના જાન્યુઆરીનો પ્રથમ દિવસ.”  
 ૨. લોકસભા મતવિસ્તાર વાર મતદારયાદીઓ તૈયાર કરવામાં આવે છે.  
 ૩. જે વ્યક્તિ ‘ભ્રષ્ટ વ્યવહારો’ અથવા ચૂંટણી બાબતના ગુનાઓને કારણે ગેરલાયક ઠર્યો હોય તે મતદાર યાદીમાં નોંધણી માટે હકદાર નથી.  
 ૪. ૯ નવેમ્બર, ૨૦૧૮ના રોજ ૧૮ વર્ષ પૂર્ણ કરતો ભારતનો યુવા નાગરિક ડિસેમ્બર ૨૦૧૮માં યોજનાર વિધાનસભા ચૂંટણીઓમાં મતદાન કરી શકશે.  
 (A) ફક્ત ૧ (B) ફક્ત ૨ અને ૩ (C) ફક્ત ૧ અને ૩ (D) ૧, ૨, ૩ અને ૪
92. નીચે આપેલાં વિધાનોમાંથી કયું(યાં) વિધાન(નો) ખરું(રાં) છે?  
 ૧. સરકારીઆ કમિશને આંતર-રાજ્ય પરિષદની સ્થાપના માટે ભલામણ કરી.  
 ૨. આંતર-રાજ્ય પરિષદની જાહેરાત અને સ્થાપના રાષ્ટ્રપતિ હુકમ દ્વારા થઈ હતી.  
 ૩. આંતર-રાજ્ય પરિષદએ બંધારણ સભાની રાજ્યોની સમિતિની ભલામણ હતી.  
 (A) ફક્ત ૧ (B) ફક્ત ૧ અને ૨ (C) ફક્ત ૨ અને ૩ (D) ૧, ૨ અને ૩
93. નીચે આપેલાં વિધાનોમાંથી કયું વિધાન ખરું નથી?  
 (A) બંધારણ દ્વારા ગૃહની મહત્તમ સંખ્યા પપરની કલ્પના કરવામાં આવી છે.  
 (B) પપર પૈકી, ૫૩૦ સભ્યો રાજ્યોનું અને ૨૦ સભ્યો કેન્દ્રીય પ્રદેશોનું ચૂંટણીઓ મારફતે પ્રતિનિધિત્વ કરે છે.  
 (C) તમામ સંસદીય સમિતિઓના અધ્યક્ષનું નામાંકન અધ્યક્ષ (Speaker) દ્વારા થાય છે.  
 (D) ઉપરના પૈકી કોઈ નહીં
94. નીચે આપેલાં વિધાનોમાંથી કયું(યાં) વિધાન(નો) ખરું(રાં) છે?  
 ૧. ફર્સ્ટ જજીઝ કેસના ચુકાદાએ જાહેર કર્યું કે મુખ્ય ન્યાયમૂર્તિની રાષ્ટ્રપતિને ભલામણોની પ્રાધાન્યતાને સબળ કારણોસર નકારી શકાય છે.  
 ૨. સેકન્ડ જજીઝ કેસના ચુકાદાએ જાહેર કર્યું કે આવી નિમણૂકોના ‘ન્યાયસંગતતા’ અને ‘પ્રાધાન્યતા’ સાંકું મુખ્ય ન્યાયમૂર્તિને પ્રાથમિક ભૂમિકા આપવામાં આવે.  
 ૩. થર્ડ જજીઝ કેસના ચુકાદાએ કારોબારી ઉપર ઉચ્ચતમ ન્યાયતંત્રની ‘પ્રાધાન્યતા’ના ખ્યાલને જાકારો આપ્યો.  
 (A) ફક્ત ૨ (B) ફક્ત ૧ અને ૨ (C) ફક્ત ૨ અને ૩ (D) ફક્ત ૧ અને ૩

87. Who among the following was awarded *Sangeet Natak Akademy Award* (New Delhi) for stage direction?  
 (A) Mohan Lalaji (B) Mulchand Nayak (C) Nayak Keshavlal (D) Kasambhai Mir
88. Swami Haridas is famous for his devotional compositions in \_\_\_\_\_ style.  
 (A) Thumari (B) Charchari (C) Dhrupad (D) Tappa
89. Rural Olympics was organized at ..... in India.  
 (A) Kerala (B) Lucknow (C) Jaisalmer (D) Kila Raypur
90. Sarth Gujarati *Jodanikosh* is published by .....  
 (A) Gujarati Sahitya Parishad (B) Gujarat University  
 (C) Gujarat Vidyapith (D) Narmad Sahityasabha
91. Which of the following statement(s) is(are) correct?  
 1. According to the *Representation of People Act* (1950), the relevant date for determining the age qualification of 18 years to enroll as first time voters is described as follows: "Qualifying Date means the first day of January of the year in which the electoral roll is prepared or revised."  
 2. The electoral rolls are prepared Lok Sabha constituency wise.  
 3. A person disqualified due to 'Corrupt Practices' or offences relating to elections is not entitled to be registered in the electoral rolls.  
 4. A young citizen of India completing 18 years on 9th November 2018 will be able to vote for the assembly elections to be held in December 2018.  
 (A) Only 1 (B) Only 2 and 3 (C) Only 1 and 3 (D) 1, 2, 3 and 4
92. Which of the following statement(s) is(are) correct?  
 1. Sarkaria Commission recommended the establishment of Inter-State Council.  
 2. Inter-State Council was notified and established by the Presidential order.  
 3. Inter-State Council was the recommendation of the States Committee of Constituent Assembly.  
 (A) Only 1 (B) Only 1 and 2 (C) Only 2 and 3 (D) 1, 2 and 3
93. Which statement of the following statements is incorrect?  
 (A) The maximum strength of the House envisaged by the Constitution is 552.  
 (B) Out of 552, 530 members represent the States and 20 members represent the Union Territories through elections.  
 (C) The Chairman of All Parliamentary committees are nominated by the Speaker.  
 (D) None of the above
94. Which of the following statement(s) is(are) correct?  
 1. The judgment in First Judges Case declared that the Primacy of The CJl's recommendations to the President can be refused for cogent reasons.  
 2. The judgment in Second Judges Case declared that "justiciability" and "primacy" required that the CJl be given the "primal" role in such appointments.  
 3. The judgment in Three Judges Case ruled out the concept of "primacy" of the highest judiciary over the executive.  
 (A) Only 2 (B) Only 1 and 2 (C) Only 2 and 3 (D) Only 1 and 3



95. નીચે આપેલાં વિધાનોમાંથી કયાં વિધાનો ખરાં છે?
૧. ગવર્નમેન્ટ ઓફ ઇન્ડિયા એક્ટ (૧૯૧૯) એ ભારતના સંઘ જાહેર સેવા આયોગની સ્થાપના માટેની જોગવાઈ કરી.
  ૨. ભારતમાં સૌપ્રથમવાર સંઘ જાહેર સેવા આયોગ ઈ.સ. ૧૯૨૬માં ઊભું કરવામાં આવ્યું.
  ૩. ઈ.સ. ૧૯૫૦માં ભારતીય બંધારણનાં અસ્તિત્વ સાથે સમવાયી જાહેર સેવા આયોગ, સંઘ જાહેર સેવા આયોગ તરીકે જાણીતું થયું.
  ૪. ભારતીય બંધારણના અનુચ્છેદ ૩૭૮ અન્વયે સમવાયી જાહેર સેવા આયોગના અધ્યક્ષ અને સભ્યો સંઘ જાહેર સેવા આયોગના અધ્યક્ષ અને સભ્યો બન્યા.
- (A) ૧, ૨, ૩ અને ૪ (B) ફક્ત ૧ અને ૨ (C) ફક્ત ૧, ૨ અને ૩ (D) ફક્ત ૨, ૩ અને ૪
96. નીચે આપેલાં વિધાનોમાંથી કયાં વિધાનો ખરાં છે.
૧. મુખ્ય ચૂંટણી આયુક્ત અને ચૂંટણી આયુક્તો ૦૬ વર્ષ અથવા ૬૫ વર્ષની વય સુધી, જે વહેલું હોય, ત્યાં સુધીનો કાર્યકાળ ધરાવે છે.
  ૨. ભારતના નિયંત્રક અને મહાલેખા પરીક્ષક (CAG) ૦૬ વર્ષ, અથવા ૬૫ વર્ષની વયે પહોંચે ત્યાં સુધી, જે વહેલું હોય, ત્યાં સુધીની મુદત માટે હોદ્દા ધરાવે છે.
  ૩. મુખ્ય સતર્કતા આયુક્ત (CVC)ની નિવૃત્તિ વય ૬૫ વર્ષ છે અને તે ૦૪ વર્ષના નિશ્ચિત સમયગાળા સાથે નિમણૂક પ્રાપ્ત કરે છે.
  ૪. જાહેરસેવા આયોગના સભ્ય તરીકે હોદ્દા ધરાવતો વ્યક્તિ તે હોદ્દા ઉપર પુનઃનિયુક્તિ માટે લાયક રહેતા નથી.
- (A) ફક્ત ૧ અને ૩ (B) ફક્ત ૧, ૨ અને ૪ (C) ફક્ત ૨, ૩ અને ૪ (D) ૧, ૨, ૩ અને ૪
97. સાર્ક (SAARC) ચાર્ટર સંદર્ભે નીચે આપેલાં વિધાનોમાંથી કયાં વિધાનો ખરાં નથી?
૧. તેનો હેતુ એશિયાના લોકોનાં કલ્યાણને પ્રોત્સાહન આપવાનું અને તેમનાં જીવનની ગુણવત્તા સુધારવાનો છે.
  ૨. રાજ્ય અથવા સરકારના વડાઓ વર્ષમાં એકવાર અથવા સભ્ય રાજ્યોને જ્યારે પણ જરૂરી લાગે ત્યારે અને વધુ વખત મળી શકે.
  ૩. ભારત પ્રજાસત્તાક વતી ભૂતપૂર્વ વડાપ્રધાન ઈન્દિરા ગાંધીએ સાર્ક (SAARC) ચાર્ટર ઉપર હસ્તાક્ષર કર્યા હતા.
  ૪. સાર્ક (SAARC) ચાર્ટરમાં કુલ ૧૦ અનુચ્છેદો છે.
- (A) ફક્ત ૧ અને ૩ (B) ફક્ત ૨ અને ૩ (C) ફક્ત ૧ અને ૪ (D) ફક્ત ૧, ૨ અને ૪
98. નીચે આપેલાં વિધાનોમાંથી કયું(યાં) વિધાન(નો) ખરું(રાં) છે?
૧. ભૂતપૂર્વ (અગાઉના) લઘુઉદ્યોગ મંત્રાલય અને કૃષિ અને ગ્રામિણ ઉદ્યોગ મંત્રાલયને ભેગા કરી સૂક્ષ્મ, લઘુ અને મધ્યમ સાહસના મંત્રાલયની રચના કરવામાં આવી.
  ૨. સેવાક્ષેત્રમાં સૂક્ષ્મ સાહસ શ્રેણિનું સાધન સરંજામમાં રૂ. ૨૫ લાખથી રોકાણ વધવું ના જોઈએ.
  ૩. ઉત્પાદન ક્ષેત્રમાં મધ્યમ સાહસ શ્રેણિનું સંચંત્ર અને ચંત્રસામગ્રીમાં રોકાણ રૂ. ૫ કરોડથી વધુ પરંતુ રૂ. ૧૦ કરોડથી વધવું ના જોઈએ.
- (A) ફક્ત ૧ અને ૨ (B) ફક્ત ૨ અને ૩ (C) ફક્ત ૧ અને ૩ (D) ફક્ત ૩
99. અ પ્રિપેર્ડ કમ્યુનિટી ઈઝ અ સેફ કમ્યુનિટી - ..... નું સૂત્ર (સ્લોગન) છે.
- (A) કમ્યુનિટી પોલિસિંગ યુનિટ ઓફ ગુજરાત (B) રાષ્ટ્રીય આપદા પ્રબંધન તંત્ર (NDMA)  
(C) આરોગ્ય અને પરિવાર કલ્યાણ મંત્રાલય (D) સ્વચ્છ ભારત અભિયાન
100. શિક્ષિત ભારત - સ્વસ્થ ભારત - સ્વચ્છ ભારત - સ્વાવલંબી ભારત - સંપન્ન ભારત - .....ની ટેગલાઈન છે.
- (A) ઉન્નત ભારત અભિયાન  
(B) સ્કીલ ઇન્ડિયા પ્રોગ્રામ  
(C) આયુષ્યમાન ભારત  
(D) અટલ મિશન ફોર રિજુવિનેશન એન્ડ અર્બન ટ્રાન્સફોર્મેશન



95. Which of the following statements are correct?
1. *Government of India Act (1919)* provided for the establishment of a *Public Service Commission* in India.
  2. The *Public Service Commission* was set up in India for the first time in 1926.
  3. With the existence of Indian Constitution in 1950 the *Federal Public Service Commission* came to be known as the *Union Public Service Commission*.
  4. Chairman and Members of the *Federal Public Service Commission* became Chairman and Members of the *Union Public Service Commission* by Article 378 of Indian Constitution.
- (A) 1, 2, 3 and 4      (B) Only 1 and 2      (C) Only 1, 2 and 3      (D) Only 2, 3 and 4
96. Which of the following statements are correct?
1. Chief Election Commissioner and Election Commissioners have a tenure of 06 years, or up to the age of 65 years, whichever is earlier.
  2. The Comptroller and Auditor General (CAG) of India holds office for a term of 06 years or until attains age of 65 years whichever is earlier.
  3. The retirement age for the Chief Vigilance Commissioner (CVC) is 65 years and comes with a four-year fixed term.
  4. A person who holds office as a member of a *Public Service Commission* shall, on the expiration of his term of office, be ineligible for reappointment to that office.
- (A) Only 1 and 3      (B) Only 1, 2 and 4      (C) Only 2, 3 and 4      (D) 1, 2, 3 and 4
97. Which of the following statements are incorrect regarding SAARC Charter?
1. Its objective is to promote the welfare of the people of ASIA and to improve their quality of life.
  2. The Heads of State or Government shall meet once a year or more often as and when considered necessary by the Member States.
  3. Former Prime Minister Indira Gandhi signed the SAARC Charter on behalf of Republic of India.
  4. Total 10 Articles are there in SAARC Charter.
- (A) Only 1 and 3      (B) Only 2 and 3      (C) Only 1 and 4      (D) Only 1, 2 and 4
98. Which of the following statement(s) is(are) correct?
1. Erstwhile Ministry of Small Scale Industries and the Ministry of Agro and Rural Industries were merged to form the Ministry of Micro, Small and Medium Enterprises.
  2. In Service Sector, Micro Enterprise Category investment should not exceed INR 25 lakhs in Equipments.
  3. In Manufacturing Sector, Medium Enterprise Category investment should be more than INR 5 crores but should not exceed INR 10 crores in plant and machinery.
- (A) Only 1 and 2      (B) Only 2 and 3      (C) Only 1 and 3      (D) Only 3
99. *A Prepared Community is A Safe Community* is the slogan of .....
- (A) Community Policing Unit of Gujarat      (B) National Disaster Management Authority  
(C) Ministry of Health and Family Welfare      (D) Swachh Bharat Abhiyan
100. *Sikshit Bharat - Swasth Bharat - Swachh Bharat - Swavalambi Bharat - Sampann Bharat* is the Tagline of \_\_\_\_\_.
- (A) Unnat Bharat Abhiyaan  
(B) Skill India Programme  
(C) Ayushman Bharat  
(D) Atal Mission For Rejuvenation And Urban Transformation

101. નીચેનાં પૈકી કયાં વિધાનો ભારતના ઉપરાષ્ટ્રપતિના સંદર્ભે ખરાં છે?
૧. જ્યારે ભારતના ઉપરાષ્ટ્રપતિ, રાષ્ટ્રપતિ તરીકે કાર્યરત હોય છે ત્યારે, તેઓ રાજ્યસભાના અધ્યક્ષની ફરજ બજાવતા નથી.
  ૨. ભારતના ઉપરાષ્ટ્રપતિને વેતન અને અન્ય ભથ્થાં ઉપરાષ્ટ્રપતિ તરીકે નહીં પણ રાજ્યસભાના એક્સ-ઓફિસ્યો (Ex-officio) અધ્યક્ષ તરીકે મળે છે.
  ૩. જ્યારે ભારતના ઉપરાષ્ટ્રપતિ, રાષ્ટ્રપતિ તરીકે કાર્ય કરે છે ત્યારે તેઓને ભારતના રાષ્ટ્રપતિ જેવી સત્તા, પ્રતિરક્ષા અને વિશેષાધિકાર મળતા નથી.
  ૪. ઉપરાષ્ટ્રપતિની જગ્યા જ્યારે ખાલી પડે છે ત્યારે તેઓના સ્થાને કોણ ફરજ બજાવશે તે બાબતે બંધારણ મૌન છે.
- (A) ફક્ત ૧ અને ૩ (B) ફક્ત ૨ અને ૪ (C) ફક્ત ૧, ૨ અને ૪ (D) ૧, ૨, ૩ અને ૪
102. નીચેના પૈકી કયાં વિધાનો ભારતના 'પક્ષાંતર કાયદા' સંદર્ભે ખરાં છે?
૧. જો વ્યક્તિ નામાંકનના છ મહિનામાં જ અન્ય રાજકીય પક્ષમાં જોડાય તો, સંસદના એવા નામાંકિત સભ્યને ગેરલાયક ઠેરવવામાં આવે છે.
  ૨. જો એક અપક્ષ વિધાયક કોઈ રાજકીય પક્ષમાં જોડાય તો તે વ્યક્તિ સભ્યપદ ગુમાવશે.
  ૩. અપક્ષ કોઈ પણ રાજકીય પક્ષને સમર્થન આપી શકે પણ કોઈ પણ રાજકીય પક્ષમાં જોડાઈ શકે નહીં.
  ૪. વિધાનસભામાં કોઈ રાજકીય પક્ષના એકમાત્ર સદસ્ય અન્ય રાજકીય પક્ષમાં જોડાશે તો તેને ગેરલાયક ઠેરવવામાં આવશે.
- (A) ૧, ૨, ૩ અને ૪ (B) ફક્ત ૨, ૩ અને ૪ (C) ફક્ત ૩ અને ૪ (D) ફક્ત ૧ અને ૪
103. ભારતની સર્વોચ્ચ અદાલતમાં વકીલાત કરવા માટે વકીલોની ત્રણ શ્રેણિ હકદાર છે. નીચેની પૈકી કઈ શ્રેણિ આ સૂચિમાં સામેલ નથી?
- (A) સંવૈધાનિક વકીલો (B) વરિષ્ઠ વકીલો  
(C) નોંધણી ઉપરના વકીલો (D) અન્ય વકીલો
104. ભારતના સર્વોચ્ચ ન્યાયાલય અને ઉચ્ચ ન્યાયાલય દ્વારા જારી કરવામાં આવેલ યાચિકાઓ સંદર્ભે નીચે આપેલાં વિધાનોમાંથી કયું(યાં) વિધાન(નો) ખરું(રાં) છે?
૧. બંદી પ્રત્યક્ષીકરણ આજ્ઞાપત્ર (The writ of Habeas Corpus) માત્ર જાહેર સંસ્થાઓ વિરુદ્ધ જારી કરી શકાય.
  ૨. પરમાદેશ (મંડમ) (The writ of Mandamus) કોઈ વ્યક્તિ અથવા સંસ્થા વિરુદ્ધ જારી કરી શકાય નહીં.
  ૩. પ્રતિષેધ યાચિકા (The writ of prohibition) ફક્ત ન્યાયિક અથવા અર્ધ ન્યાયિક સત્તાધિકારી વિરુદ્ધ જ જારી કરી શકાય.
  ૪. ઉત્પ્રેષણાદેશ (The writ of Certiorari) કાયદાકીય સંસ્થા અને વ્યક્તિઓ સામે ઉપલબ્ધ છે.
- (A) ફક્ત ૧ અને ૨ (B) ફક્ત ૧ અને ૪ (C) ફક્ત ૨ અને ૩ (D) ફક્ત ૩ અને ૪
105. ભારતીય બંધારણમાં પ્રતિસ્થાપિત મૂળભૂત અધિકારો સંદર્ભે નીચે આપેલાં વિધાનોમાંથી કયું(યાં) વિધાન(નો) ખરું(રાં) નથી?
૧. તમામ મૂળભૂત અધિકારો રાજ્યના યદુચ્છિત પગલાં સામે જ ઉપલબ્ધ છે.
  ૨. તેમના કેટલાક કાયદેસર રીતે લાગુ પાડી શકાય છે, જ્યારે કેટલાક લાગુ પાડી શકાય નહીં.
  ૩. સંસદ તેને ઘટાડી શકે છે અથવા દૂર કરી શકે છે, પરંતુ તે માત્ર બંધારણીય સુધારા દ્વારા શક્ય છે.
- (A) ફક્ત ૧ (B) ફક્ત ૨ (C) ફક્ત ૧ અને ૨ (D) ફક્ત ૧, ૨ અને ૩
106. ભારતના પ્રધાનમંત્રી સંસદનાં ઉપલાં ગૃહમાં હોય એ સંદર્ભે નીચે આપેલાં વિધાનોમાંથી કયું(યાં) વિધાન(નો) ખરું(રાં) છે?
૧. તેઓ અવિશ્વાસની ગતિવિધિની ઘટનામાં તેમની તરફેણમાં મતદાન કરી શકશે નહીં.
  ૨. તેઓ લોકસભામાં, નીચલા ગૃહમાં અંદાજપત્ર પર બોલી શકતા નથી.
  ૩. તેઓ રાજ્યસભા, ઉપલા સદનમાં નિવેદન કરી શકે છે.
  ૪. પ્રધાનમંત્રીની શપથવિધિના છ મહિનાની અંદર તેઓ લોકસભાના સભ્ય બનવા જોઈએ.
- (A) ફક્ત ૧ (B) ફક્ત ૧ અને ૨ (C) ફક્ત ૧, ૨ અને ૩ (D) ૧, ૨, ૩ અને ૪



101. Which of the following statements are correct with reference to the Vice-President of India?
1. When Vice-President of India acts as President of India, he doesn't perform the duties of the Chairperson of the Council of States.
  2. Vice-President receives salary and other allowances as Ex-officio Chairman of the Rajya Sabha not as Vice-President of India.
  3. Whenever Vice-President acts as President of India, he will not enjoy the powers, immunities and privileges of President of India.
  4. The Constitution is silent on who performs the duties of Vice-President, when a vacancy occurs in the office of Vice-President.
- (A) Only 1 and 3      (B) Only 2 and 4      (C) Only 1, 2 and 4      (D) 1, 2, 3 and 4
102. Which of the following statements are correct about Anti Defection Law?
1. A nominated member of a House will be disqualified if he joins any political party within six months of his/her nomination.
  2. If an independent legislator joins a political party he would lose membership.
  3. An independent can choose to support any political party but should not attach himself to any political party.
  4. If a sole member of a political party in an Assembly joins another political party, he will be disqualified.
- (A) 1, 2, 3 and 4      (B) Only 2, 3 and 4      (C) Only 3 and 4      (D) Only 1 and 4
103. There are three categories of Advocates who are entitled to practice law before the Supreme Court of India. Which of the following category is not in the list?
- (A) Constitutional Advocates      (B) Senior Advocates  
(C) Advocates on record      (D) Other Advocates
104. Which of the following statements are correct with reference to writs issued by the Supreme Court and High Courts in India?
1. The writ of Habeas Corpus can be issued against public authorities only.
  2. The writ of Mandamus cannot be issued against a private individual or body.
  3. The writ of prohibition can be issued only against judicial and quasi-judicial authorities.
  4. The writ of Certiorari is available against legislative bodies and private individuals.
- (A) Only 1 and 2      (B) Only 1 and 4      (C) Only 2 and 3      (D) Only 3 and 4
105. Which of the following statement(s) is(are) incorrect with reference to the fundamental rights as enshrined in the Indian Constitution?
1. All fundamental rights are available against the arbitrary action of the State only.
  2. Some of them are legally enforceable while others are not.
  3. Parliament can curtail or repeal them, but only through a constitutional amendment.
- (A) Only 1      (B) Only 2      (C) Only 1 and 2      (D) 1, 2 and 3
106. Which of the following statement(s) is(are) correct in the case when the Prime Minister of India belongs to the Upper House of Parliament?
1. He will not be able to vote in his favour in the event of a no-confidence motion.
  2. He will not be able to speak on the budget in the Lower House.
  3. He can make statements only in the Upper House.
  4. He has to become a member of the Lower House within six months after being sworn-in as the Prime Minister.
- (A) Only 1      (B) Only 1 and 2      (C) Only 1, 2 and 3      (D) 1, 2, 3 and 4



107. રાજ્યસભાના અધ્યક્ષ સંદર્ભે નીચે આપેલાં વિધાનોમાંથી કયું(યાં) વિધાન(નો) ખરું(રાં) છે?
- તેઓ સંસદના બે ગૃહોની સંયુક્ત બેઠકની અધ્યક્ષતા કરી શકતા નથી.
  - તેઓ ગૃહના સભ્ય છે પણ પ્રથમ દૃષ્ટાંતે મત આપી શકે નહીં.
  - જ્યારે તેમના નિરસન માટેનો ઠરાવ વિચારણા હેઠળ હોય, ત્યારે તેઓ નિવેદન કરી શકે છે અને કાર્યવાહીમાં ભાગ લઈ શકે છે, પરંતુ તેમને મતાધિકાર મળતો નથી.
- (A) ફક્ત ૧ અને ૨ (B) ફક્ત ૨ અને ૩ (C) ફક્ત ૩ (D) ફક્ત ૧ અને ૩
108. સંસદના સત્ર સંદર્ભે નીચેનાં પૈકી કયું વિધાન ખરું નથી?
- તે અનિશ્ચિત કાળ માટે મોકુફ રાષ્ટ્રપતિ દ્વારા થાય છે. જ્યારે માત્ર મોકુફ અધ્યક્ષ | સ્પીકર દ્વારા થાય છે.
  - સત્રસમાપ્તિથી ગૃહનું સત્ર સમાપ્ત થાય છે, જ્યારે મોકુફથી માત્ર બેઠક સમાપ્તિ થાય છે.
  - લોકસભાનું વિસર્જન ક્યાં તો આપમેળે અથવા રાષ્ટ્રપતિ દ્વારા થાય છે.
  - રાજ્યસભાનું વિઘટન થતું નથી કારણ કે તે કાયમી ગૃહ છે.
109. બંધારણીય સુધારા સંદર્ભે નીચે આપેલાં વિધાનોમાંથી કયું(યાં) વિધાન(નો) ખરું(રાં) છે?
- ખાનગી સભ્યો સંસદમાં બંધારણીય સુધારા અધિનિયમ રજૂ કરી શકતા નથી.
  - સંસદ દ્વારા પસાર કરવામાં આવેલા બંધારણીય સુધારા અધિનિયમને રાષ્ટ્રપતિ પુનર્વિચારણા માટે પરત મોકલી શકતા નથી.
  - બંધારણીય સુધારા અધિનિયમને તેની મંજૂરી માટે વિશેષ બહુમતીની જરૂર છે.
  - બંધારણીય સુધારા અધિનિયમ પસાર કરવા માટે સંસદનું સંયુક્ત સત્ર ન હોઈ શકે.
- (A) ફક્ત ૧ અને ૨ (B) ફક્ત ૨, ૩ અને ૪ (C) ફક્ત ૨ અને ૩ (D) ફક્ત ૧, ૨ અને ૩
110. ભારતીય સંસદ સંદર્ભે નીચેનાં પૈકી કયું વિધાન ખરું નથી?
- વિનિયોગ વિધેયક થકી કાયદો ઘડવામાં આવે તે પહેલા તે સંસદના બંને ગૃહોમાંથી પસાર થયો હોવો જોઈએ.
  - વિનિયોગ અધિનિયમ દ્વારા કરવામાં આવેલા વિનિયેત સિવાય, ભારતના એકત્રીકરણ ભંડોળમાંથી કોઈ નાણાં પાછાં ખેંચી શકાય નહીં.
  - જ્યારે તે પહેલેથી જ કાર્યરત હોય છે ત્યારે, નવા કરના પ્રસ્તાવ કરાવવા માટે નાણાં વિધેયક જરૂરી છે પરંતુ કરના દરમાં ફેરફાર કરવા માટે કોઈ અન્ય અધિનિયમ | વિધેયકની જરૂર નથી.
  - ઉપરના પૈકી કોઈ નહીં.
111. નીચે આપેલાં વિધાનોમાંથી કયું(યાં) વિધાન(નો) ખરું(રાં) છે?
- વિધાનસભાની ઓછામાં ઓછી એક તૃતીયાંશ સંખ્યાને આધીન વિધાન પરિષદનું કુલ સંખ્યાબળ ૪૦ સભ્યોથી વધવું ન જોઈએ.
  - વિધાન પરિષદમાં મહત્તમ છઠ્ઠા ભાગના નામાંકિત સભ્યો હોઈ શકે છે. આ સભ્યોને રાષ્ટ્રપતિની ભલામણથી ગવર્નર દ્વારા નામાંકિત કરવામાં આવે છે.
- (A) ફક્ત ૧ (B) ફક્ત ૨ (C) બંને ૧ અને ૨ (D) ૧ અને ૨માંથી કોઈ નહીં
112. નીચેના પૈકી કેવા સંજોગોમાં ચૂંટણીની બાબતોમાં અદાલતોની દખલને બાકાત રાખવામાં આવે છે?
- મતવિસ્તારોનું સીમાંકન
  - મતવિસ્તારો માટે બેઠકોની ફાળવણી
- (A) ફક્ત ૧ (B) ફક્ત ૨ (C) બંને ૧ અને ૨ (D) ૧ અને ૨માંથી કોઈ નહીં
113. નીચેના પૈકી કયા સંજોગો રાજ્યમાં રાષ્ટ્રપતિ શાસનની ઘોષણા માટે જરૂરી નથી?
- રાજ્ય વિધાનસભાનું વિઘટન
  - રાજ્યમાં મંત્રીપરિષદનું નિરસન
  - સ્થાનિક મંડળનું વિઘટન
- (A) ફક્ત ૧ અને ૨ (B) ફક્ત ૧ અને ૩ (C) ફક્ત ૨ અને ૩ (D) ૧, ૨ અને ૩

107. Which of the following statement(s) is(are) correct with reference to the Chairman of the Rajya Sabha?
1. He cannot preside over a joint sitting of the two Houses of Parliament.
  2. He is a member of the House but cannot vote in the first instance.
  3. When a resolution for his removal is under consideration, he can speak and take part in the proceedings but without right to vote.
- (A) Only 1 and 2            (B) Only 2 and 3            (C) Only 3            (D) Only 1 and 3
108. Which of the following statements regarding sessions of Parliament is incorrect?
- (A) Adjourned *sine die* is done by the President, while Adjournment is done by the Speaker.
- (B) Prorogation ends a session of the House, while Adjournment only ends a sitting.
- (C) Dissolution of the Lok Sabha happens either automatically or by the President.
- (D) Dissolution of the Rajya Sabha can't take place because it is a permanent body.
109. Which of the following statements are correct with reference to constitutional amendments?
1. Private members can't introduce Constitutional Amendment Bill in Parliament.
  2. President can't refer back Constitutional Amendment Bill passed by Parliament for reconsideration.
  3. Constitutional Amendment Bill requires special majority for its approval.
  4. There can't be a Joint Session of Parliament for passing a Constitutional Amendment Bill.
- (A) Only 1 and 2            (B) Only 2, 3 and 4            (C) Only 2 and 3            (D) Only 1, 2 and 3
110. Which of the following statement is incorrect with reference to Indian Parliament?
- (A) The Appropriation Bill must be passed by both the Houses of Parliament before it can be enacted into law.
- (B) No money shall be withdrawn from the Consolidated Fund of India except under the appropriation made by the Appropriation Act.
- (C) Finance Bill is required for proposing new taxes but no another Bill/Act is required for making changes in the rates of taxes which are already under operation.
- (D) None of the above
111. Which of the following statement(s) is(are) correct?
1. The total strength of a Legislative Council shall not exceed 40 members subject to minimum of one-third strength of Legislative Assembly.
  2. The Legislative Council can have maximum of one-sixth nominated members. These members are nominated by Governor on the recommendation of President.
- (A) Only 1            (B) Only 2            (C) Both 1 and 2            (D) Neither 1 nor 2
112. In which of the following circumstances, courts are debarred to interfere in electoral matters?
1. Delimitation of constituencies
  2. Allotment of seats to the constituencies
- (A) Only 1            (B) Only 2            (C) Both 1 and 2            (D) Neither 1 nor 2
113. Which of the following are not necessarily the consequences of the proclamation of President's rule in a State?
1. Dissolution of the State Legislative Assembly
  2. Removal of the Council of Ministers in the State
  3. Dissolution of the local bodies
- (A) Only 1 and 2            (B) Only 1 and 3            (C) Only 2 and 3            (D) 1, 2 and 3



114. ભારતમાં 'અધિકૃત ભાષા'ના દરજ્જાના સંદર્ભે નીચે આપેલાં વિધાનોમાંથી કયું(યાં) વિધાન(નો) ખરું(રાં) છે?
૧. હિંદી દેવનાગરી લિપિમાં એ ભારત સંઘની અધિકૃત ભાષા છે.
  ૨. બંધારણ વિવિધ રાજ્યોની અધિકૃત ભાષાઓને સ્પષ્ટ કરે છે.
  ૩. જ્યાં સુધી સંસદ અન્યથા પ્રદાન કરે નહીં ત્યાં સુધી, ઉચ્ચ ન્યાયાલય અને સર્વોચ્ચ ન્યાયાલયની તમામ કાર્યવાહી અંગ્રેજીમાં જ ચાલશે.
- (A) ફક્ત ૧ અને ૨ (B) ફક્ત ૧ અને ૩ (C) ફક્ત ૨ અને ૩ (D) ૧, ૨ અને ૩
115. મંત્રીપરિષદ ભલે સામૂહિક રીતે લોકસભાને જવાબદાર હોય; પરંતુ વ્યક્તિગત રીતે મંત્રીઓ બંધારણીય રીતે કોને જવાબદાર છે?
- (A) પ્રધાનમંત્રી (B) રાષ્ટ્રપતિ (C) અધ્યક્ષ | સ્પીકર (D) ઉપરના પૈકી કોઈ નહીં
116. 'લેખાનુદાન' અને 'વચગાળાના અંદાજપત્ર' વચ્ચે શું ભેદ છે?
૧. લેખાનુદાનની જોગવાઈ કાયદેસરની નિયમિત સરકાર દ્વારા કરવામાં આવે છે; જ્યારે વચગાળાના અંદાજપત્રની જોગવાઈ રખેવાળ સરકાર દ્વારા કરવામાં આવે છે.
  ૨. લેખાનુદાન સરકારના અંદાજપત્રનાં ખર્ચ સાથે સંબંધિત છે; જ્યારે વચગાળાના અંદાજપત્રમાં ખર્ચ અને વસૂલી બંને સમાવિષ્ટ હોય છે.
- (A) ફક્ત ૧ (B) ફક્ત ૨ (C) બંને ૧ અને ૨ (D) ૧ અને ૨માંથી કોઈ નહીં
117. જી.એસ.ટી. કાઉન્સિલ સંદર્ભે નીચેનાં પૈકી કયાં વિધાનો ખરાં છે?
૧. તેની બેઠકનું કોરમ કુલ સભ્યોની સંખ્યાના ૫૦% હોવું જોઈએ.
  ૨. કેન્દ્ર સરકારના તેમાં બે તૃતીયાંશ મત અને રાજ્ય સરકારના એક તૃતીયાંશ મત હોવા જોઈએ.
  ૩. કાઉન્સિલના નિર્ણયો હાજર રહેલા અને મતદાન કરતા સભ્યોની ત્રણ ચતુર્થાંશથી ઓછી નહીં એવી બહુમતિથી થાય છે.
  ૪. રાજ્યના ફક્ત નાણામંત્રી જ જી.એસ.ટી. બેઠકમાં રાજ્યનું પ્રતિનિધિત્વ કરી શકે છે.
- (A) ફક્ત ૧ અને ૨ (B) ફક્ત ૨ અને ૩ (C) ફક્ત ૧ અને ૩ (D) ૧, ૨, ૩ અને ૪
118. કેન્દ્રીય સૂચના આયોગ ભારત સરકારના ..... મંત્રાલય હેઠળ આવે છે.
- (A) ગૃહ (B) મહેકમ, જાહેર ફરિયાદ અને પેન્શન  
(C) માહિતી અને પ્રસારણ (D) કાયદા
119. નીચેનું પૈકી કયું વિધાન ભારતના રાષ્ટ્રપતિ | રાજ્યપાલો સંદર્ભે વ્યક્તિગત કાનૂની કાર્યવાહીની પ્રતિરક્ષા બાબતે ખરું નથી?
- (A) રાજ્યના વડાને કોઈ ફરજ બજાવવા માટે ન્યાયાલય ફરજ પાડી શકે નહીં.
- (B) રાજ્યના વડા તેના ફરજ પાલન માટે કોઈ પણ ન્યાયાલયને જવાબ આપવા બંધાયેલા નથી.
- (C) રાજ્યના વડા પાસેથી ઉત્તર મેળવવા માટે ન્યાયાલય પર નોટીસ જારી કરવા માટે પ્રતિબંધ મૂકવામાં આવ્યો છે.
- (D) વ્યક્તિગત પ્રતિરક્ષા વ્યક્તિને ન્યાયાલયમાં રાજ્યના વડાની કાર્યવાહીને પડકારવા માટે બાધિત કરે છે.
120. પંચાયતી રાજમાં ચોક્કસ વર્ગોની બેઠકોનાં આરક્ષણનાં પ્રતિનિધિત્વ સંદર્ભે નીચેના પૈકી કયાં વિધાનો ખરાં છે?
૧. અનુસૂચિત જાતિની વસ્તીની સંખ્યા પ્રમાણે રાજ્યમાં બેઠકોનું આરક્ષણ.
  ૨. અનુસૂચિત જનજાતિ માટે બેઠકોનું આરક્ષણ તેમની વસ્તી સંખ્યા સાથે સંકળાયેલું છે.
  ૩. પછાત વર્ગની બેઠકોનું આરક્ષણ તેમની વસ્તી સંખ્યા સાથે સંકળાયેલું હોય એ જરૂરી નથી.
- (A) ૧, ૨ અને ૩ (B) ફક્ત ૧ અને ૨ (C) ફક્ત ૧ અને ૩ (D) ફક્ત ૨ અને ૩
121. .... સંબંધિત બાબતોમાં ભારતીય સંઘ લોકસેવા આયોગ (યુ.પી.એસ.સી.)નો મત લેવામાં આવતો નથી.
- (A) નાગરિક સેવાઓ માટે ભરતી પધ્ધતિઓ
- (B) સનદી ક્ષમતામાં ભારત સરકાર હેઠળ સેવાઓ બજાવતા વ્યક્તિને અસર કરતી શિસ્તવિષયક બાબતો
- (C) સનદી ક્ષમતામાં રાજ્ય સરકાર હેઠળ સેવાઓ બજાવતા વ્યક્તિને અસર કરતી શિસ્તવિષયક બાબતો
- (D) અનુચ્છેદ ૩૩૫ની જોગવાઈઓની અસર આપી શકાતી રીત



114. Which of the following statements are correct with reference to the status of 'official language' in India?
- Hindi written in Devanagari script is the official language of the Union.
  - The Constitution specifies the official languages of different states.
  - All proceedings in the Supreme Court and in every High Court shall be conducted in English only, until Parliament provides otherwise.
- (A) Only 1 and 2      (B) Only 1 and 3      (C) Only 2 and 3      (D) 1, 2 and 3
115. Though the Council of Ministers is collectively responsible to the Lok Sabha, the individual Ministers are constitutionally responsible to :
- (A) The Prime Minister      (B) The President  
(C) The Speaker      (D) None of the above
116. What is the difference between 'Vote-on-Account' and 'Interim Budget'?
- The provision of a vote-on-account is used by a regular Government, while an interim budget is a provision used by a care-taker Government.
  - A vote-on-account only deals with the expenditure in Government's budget, while an interim budget includes both expenditure and receipts.
- (A) Only 1      (B) Only 2      (C) Both 1 and 2      (D) Neither 1 nor 2
117. Which of the following statements are true about GST Council?
- The quorum for its meeting is 50% of the total members.
  - Central Government shall have weightage of 2/3rd of the votes and State Governments shall have 1/3rd weightage of the votes.
  - Council's decisions are taken by the majority of not less than 3/4th of the weightage votes of the members present and voting.
  - Only the finance minister of the States can represent the State in the GST meetings.
- (A) Only 1 and 2      (B) Only 2 and 3      (C) Only 1, 2 and 3      (D) 1, 2, 3 and 4
118. Central Information Commission falls under..... Ministry of Government of India.
- (A) Home Affairs      (B) Personnel, Public Grievances and Pensions  
(C) Information and Broadcasting      (D) Law
119. Which of the following statement is not correct regarding personal immunity from legal action to the President | Governors?
- (A) The court can't compel the head of the state to perform any duty.  
(B) The head of the state is not answerable to any court for the exercise of his duty.  
(C) The court is barred from issuing a notice to make the head of the state answerable.  
(D) Personal immunity bars a person to challenge the action of the head of the state in the court of law.
120. Which of the following statements are correct with reference to the reservation of seats for representation of certain sections of population in Panchayati Raj Institutions?
- Reservation of seats for Scheduled Castes as per the proportion of their population size in the State.
  - Reservation of seats for Scheduled Tribes is linked with their population size.
  - Reservation of seats for Backward Classes is not necessarily linked with their population size.
- (A) 1, 2 and 3      (B) Only 1 and 2      (C) Only 1 and 3      (D) Only 2 and 3
121. *Union Public Service Commission* is not consulted in the matters related to the .....
- (A) Methods of recruitment to civil services.  
(B) Disciplinary matters affecting a person serving under government of India in civil capacity.  
(C) Disciplinary matters affecting a person serving under government of a state in a civil capacity.  
(D) The manner in which effect may be given to the provisions of Article 335.

122. ભારતમાં રાષ્ટ્રીય પેન્શન યોજના (એન.પી.એસ.) સંદર્ભે નીચેનાં પૈકી કયું વિધાન ખરું નથી?  
 (A) તે નિશ્ચિત પેન્શન લાભ યોજનાની ફેરબદલીમાં આવેલી છે.  
 (B) તમામ નાગરિકોને સ્વૈચ્છિક રીતે ઉપલબ્ધ કરાવવામાં આવી છે.  
 (C) તેનું નિયમન પેન્શન નિધિ વિનિયામક અને વિકાસ પ્રાધિકરણ દ્વારા થાય છે.  
 (D) પેન્શન નિધિ વિનિયામક અને વિકાસ પ્રાધિકરણ અધિનિયમ ઈ.સ. ૨૦૦૩માં ઘડવામાં આવ્યો.
123. તાજેતરમાં સુધારેલ બાળમજૂરી (Prohibition and Regulation) સુધારા અધિનિયમ (૧૯૮૬) સંદર્ભે નીચેનાં પૈકી કયાં વિધાનો ખરાં છે?  
 ૧. ૧૪ વર્ષથી નાના બાળકો પાસે મજૂરી કરાવવા પર પ્રતિબંધ.  
 ૨. તમામ ક્ષેત્રોમાં ૧૪થી ૧૬ વર્ષના તરૂણો પાસે મજૂરી કરાવવા પર પ્રતિબંધ.  
 ૩. તમામ જોખમી ક્ષેત્રોમાં ૧૪થી ૧૮ વર્ષના તરૂણો પાસે મજૂરી કરાવવા પર પ્રતિબંધ.  
 ૪. બિનજોખમી ક્ષેત્રોમાં તેઓની રોજગારીનું નિયંત્રણ કરવું.  
 (A) ફક્ત ૧, ૨ અને ૩ (B) ફક્ત ૧, ૩ અને ૪ (C) ફક્ત ૨, ૩ અને ૪ (D) ૧, ૨, ૩ અને ૪
124. નીચે આપેલ વિધાનોમાંથી કયાં વિધાનો ખરાં છે?  
 ૧. લોકસભા અને રાજ્યસભા સભ્યોની ચૂંટણી માટે પ્રમાણસર પ્રતિનિધિત્વની પદ્ધતિને અનુસરે છે.  
 ૨. રાજ્યસભાના સભ્યોની ચૂંટણી રાજ્ય વિધાનસભાના ચૂંટાયેલા સભ્યો દ્વારા થાય છે.  
 ૩. લોકસભાનું મહત્તમ સંખ્યાબળ ૫૫૨ નિશ્ચિત કરવામાં આવ્યું છે.  
 ૪. ૬૧મા બંધારણીય સુધારા અધિનિયમ (૧૯૮૮) દ્વારા મતદાનની વય ૨૧ વર્ષથી ઘટાડીને ૧૮ વર્ષ કરવામાં આવી છે.  
 (A) ફક્ત ૧ અને ૩ (B) ફક્ત ૨ અને ૩ (C) ફક્ત ૧, ૩ અને ૪ (D) ફક્ત ૨, ૩ અને ૪
125. નીચે આપેલ વિધાનોમાંથી કયાં વિધાન ખરાં છે?  
 ૧. રાજ્યપાલ, રાજ્ય વિધાનસભા દ્વારા પસાર કરવામાં આવેલા ચોક્કસ પ્રકારના વિધેયક રાષ્ટ્રપતિની વિચારણા માટે અનામત રાખી શકે છે.  
 ૨. રાષ્ટ્રપતિ, રાજ્ય સરકારને નાણાકીય કટોકટી દરમિયાન નાણાં અને તેને લગતા અધિનિયમ વિચારણા માટે મોકલવા નિર્દેશ આપી શકે છે.  
 ૩. રાજ્યપાલ, ભારતના રાષ્ટ્રપતિની જેમ જ 'અબાધિત અને કાયદો મોકુફી' વીટો ધરાવે છે.  
 (A) ફક્ત ૧ (B) ફક્ત ૨ અને ૩ (C) ફક્ત ૧ અને ૩ (D) ૧, ૨ અને ૩
126. નાણાકીય વિધેયકો સંદર્ભે નીચે આપેલ વિધાનોમાંથી કયાં વિધાનો ખરાં છે?  
 ૧. બધાં નાણા-વિધેયકો (money bills) નાણાકીય વિધેયકો (financial bills) છે પરંતુ બધાં નાણાકીય વિધેયકો (financial bills), નાણા-વિધેયકો (money bills) હોતાં નથી.  
 ૨. કેટલાંક પ્રકારનાં નાણાકીય વિધેયકો રાજ્યસભા દ્વારા બદલી અથવા અસ્વીકારી શકાય છે.  
 ૩. કેટલાંક પ્રકારનાં નાણાકીય વિધેયકો લોકસભા અથવા રાજ્યસભા, કોઈ પણ ગૃહમાં રજૂ કરી શકાય છે.  
 ૪. તમામ પ્રકારનાં નાણાકીય વિધેયકો ફક્ત લોકસભામાં જ રજૂ કરી શકાય છે.  
 (A) ફક્ત ૧ અને ૩ (B) ફક્ત ૨ અને ૪ (C) ફક્ત ૧, ૨ અને ૪ (D) ફક્ત ૧, ૨ અને ૩
127. ભારતનાં બંધારણની મૂળભૂત રચનામાં નીચેનાં પૈકી કયું(યાં) લક્ષણ(ણો) સમાવિષ્ટ કરવામાં આવ્યાં છે?  
 ૧. ન્યાયિક સમીક્ષા  
 ૨. સર્વોચ્ચ અદાલત દ્વારા અપીલ કરવા માટે ખાસ રજા  
 ૩. સમવાયી ગુણ  
 ૪. મુક્ત અને ન્યાયી ચૂંટણી  
 (A) ફક્ત ૧ (B) ફક્ત ૩ અને ૪ (C) ફક્ત ૧ અને ૪ (D) ફક્ત ૧, ૩ અને ૪
128. નીચેનાં પૈકી કયાં વિધાનો બંધારણના ૪૪મા સુધારા અધિનિયમ (૧૯૭૮)ની જોગવાઈઓ છે?  
 ૧. ન્યાયિક સમીક્ષા અને રિટના સંદર્ભે સર્વોચ્ચ અદાલત અને ઉચ્ચ અદાલતોના અધિકારક્ષેત્રને પુનઃસ્થાપિત કર્યાં.  
 ૨. રાષ્ટ્રીય કટોકટીના સંદર્ભે 'આંતરિક વિરોધ'ના સ્થાને 'સશસ્ત્ર બળવો' શબ્દ પ્રયોગ.  
 ૩. પ્રધાનમંડળની લેખિત ભલામણથી જ રાષ્ટ્રપતિ કટોકટી જાહેર કરી શકે છે.  
 ૪. મૂળભૂત અધિકારોની સૂચિમાંથી સંપત્તિનો અધિકાર કાઢી નાખ્યો છે અને તેને માત્ર કાનૂની અધિકાર બનાવવામાં આવ્યો છે.  
 (A) ફક્ત ૨ અને ૩ (B) ફક્ત ૧ અને ૨ (C) ફક્ત ૨, ૩ અને ૪ (D) ફક્ત ૧, ૨ અને ૩



122. Which of the following sentence is not correct with reference to the National Pension System in India?
- It replaced the defined benefit pension system.
  - It has been offered to all the citizens on voluntary basis.
  - It is regulated by the Pension Fund Regulatory and Development Authority.
  - The Pension Fund Regulatory and Development Authority Act was enacted in the year 2003.
123. Which of the following statements are correct with reference to the Child Labour (*Prohibition and Regulation*) Amendment Act (1986) amended recently?
- To ban child labour below 14 years.
  - To prohibit employment of adolescent labour aged 14-16 years in all sectors.
  - To prohibit employment of adolescent labour aged 14-18 years in hazardous sector.
  - To regulate their employment in non-hazardous sections.
- (A) Only 1, 2 and 3       Only 1, 3 and 4      (C) Only 2, 3 and 4      (D) 1, 2, 3 and 4
124. Which of the following statements are correct?
- Lok Sabha and Rajya Sabha both follow the method of proportional representation for electing members.
  - Members of Rajya Sabha are elected by the elected members of the State Legislative Assemblies.
  - Maximum strength of Lok Sabha is fixed at 552.
  - The voting age was reduced from 21 to 18 by the 61st Constitutional Amendment Act, (1988)
- (A) Only 1 and 3      (B) Only 2 and 3      (C) Only 1, 3 and 4       Only 2, 3 and 4
125. Which of the following statements are correct?
- The Governor can reserve certain types of bills passed by the State Legislature for the consideration of the President.
  - During Financial Emergency the President may direct the State Government to send money bills and related bills for his consideration.
  - The Governor also enjoys 'Absolute and Suspensive' veto like President of India.
- (A) Only 1      (B) Only 2 and 3      (C) Only 1 and 3       1, 2 and 3
126. Which of the following statements are correct with reference to the *Financial Bill*?
- All money bills are financial bills but not all financial bills are money bills.
  - Some types of financial bills can be changed or rejected by the Rajya Sabha.
  - Some types of financial bills can be introduced in either of the Houses, Lok Sabha or Rajya Sabha.
  - All types of financial bills can only be introduced in the Lok Sabha.
- (A) Only 1 and 3      (B) Only 2 and 4      (C) Only 1, 2 and 4       Only 1, 2 and 3
127. Which of the following feature(s) is(are) included in the fundamental structure of the *Indian Constitution*?
- Judicial Review
  - Special leave to appeal by the Supreme Court
  - Federal Character
  - Free and Fair elections
- (A) Only 1      (B) Only 3 and 4      (C) Only 1 and 4       Only 1, 3 and 4
128. Which of the following statements are the provisions of the 44th *Constitutional Amendment Act* (1978)?
- Restored the jurisdiction of the Supreme Court and High Courts in respect of Judicial Review and issues of writs.
  - Replaced the term 'internal disturbance' by 'armed rebellion' with respect of national emergency.
  - The President can declare national emergency only on written recommendation of the Cabinet.
  - Deleted the right to property from the list of Fundamental Rights and made it only a legal right.
- (A) Only 2 and 3      (B) Only 1 and 2       Only 2, 3 and 4      (D) Only 1, 2 and 3



129. મુદત પૂર્ણ ના થઈ હોય એવી પંચાયતના વિઘટનથી રચવામાં આવેલી નવી પંચાયત ..... સમય માટે ચાલુ રહેશે.
- (A) તેની પ્રથમ બેઠકની તારીખથી આગામી ૫ વર્ષ સુધી અને તેથી વધુ નહીં  
**(B)** જો વિઘટીત પંચાયતનું વિઘટન થયું ના હોત અને ચાલુ રહી હોત તો તેના બાકી રહેલા  
(C) રાજ્યપાલની મરજી હોય ત્યાં સુધી  
(D) રાજ્ય વિધાનસભા તેને ચાલુ રહેવા દે ત્યાં સુધી
130. નીચેનાં પૈકી કયું યુનિટ પ્રધાનમંત્રી કાર્યાલય (પી.એમ.ઓ.) હેઠળ કાર્યરત નથી?
- (A) પરમાણુ ઊર્જા વિભાગ (B) અંતરિક્ષ વિભાગ  
(C) રાષ્ટ્રીય સુરક્ષા પરિષદ **(D)** રાષ્ટ્રીય રાજધાની ક્ષેત્ર યોજના બોર્ડ
131. નવનિર્મિત રાષ્ટ્રીય એસ.સી./એસ.ટી. હબ (NSSH) ..... હેઠળ કામગીરી કરે છે.
- (A) અલ્પસંખ્યક બાબતોનું મંત્રાલય  
(B) કૌશલ્ય વિકાસ અને ઉદ્યમતા મંત્રાલય  
**(C)** સૂક્ષ્મ, લઘુ અને મધ્યમ ઉદ્યમ મંત્રાલય (MSME)  
(D) જનજાતીય બાબતોનું મંત્રાલય
132. નીચે આપેલ વિધાનોમાંથી કયું(યાં) વિધાન(નો) ખરું(રાં) નથી?
૧. ડૉ. બી. આર. આંબેડકર ડ્રાફ્ટિંગ સમિતિના અધ્યક્ષ હતા.  
૨. જવાહરલાલ નેહરુએ સંઘ બંધારણ સમિતિની અધ્યક્ષતા કરી હતી.  
૩. સરદાર પટેલે પ્રાંતીય બંધારણ સમિતિની અધ્યક્ષતા કરી હતી.  
૪. સરદાર પટેલે રાજ્યોની સમિતિઓની અધ્યક્ષતા કરી હતી. (રાજ્યો સાથે વાઠાઘાટ માટેની સમિતિ)
- (A) ફક્ત ૧ અને ૨ (B) ફક્ત ૩ **(C)** ફક્ત ૪ (D) ફક્ત ૨
133. સર્વોચ્ચ અદાલતના અધિકારક્ષેત્રના સંદર્ભે નીચે આપેલાં વિધાનોમાંથી કયાં વિધાન ખરાં છે?
૧. ભારતના રાષ્ટ્રપતિ જાહેર હિતની કોઈ પણ બાબત અંગે અભિપ્રાય મેળવવા ભારતની સર્વોચ્ચ અદાલત પાસે મંતવ્ય નિમંત્રી શકે છે.  
૨. સર્વોચ્ચ અદાલત દ્વારા સલાહકારી અધિકારક્ષેત્ર હેઠળ આપવામાં આવેલા અભિપ્રાય સરકારને બંધનકર્તા નથી.  
૩. અનુચ્છેદ ૩૨ હેઠળ સર્વોચ્ચ અદાલત, નાગરિકોના મૂળભૂત અધિકારો અમલમાં મૂકવા અને અન્ય કોઈ હેતુ માટે સમાદેશ (રીટ) લાગુ કરી શકે છે.
- (A) ફક્ત ૧ અને ૩ **(B)** ફક્ત ૧, ૨ અને ૩ (C) ફક્ત ૨ અને ૩ (D) ફક્ત ૨
134. આંતરરાષ્ટ્રીય સંધિઓના અમલ માટે ભારતીય સંસદ સમગ્ર ભારત અથવા તેના કોઈ પણ ભાગ માટે કોઈ પણ કાયદો ..... થી બનાવી શકે છે.
- (A) તમામ રાજ્યોની સંમતિ (B) બહુમતી રાજ્યોની સંમતિ  
(C) સંબંધિત રાજ્યોની સંમતિ **(D)** ઉપરોક્ત પૈકી કોઈ નહીં
135. સંસદમાં અવિશ્વાસની દરખાસ્ત બાબતે નીચેનાં વિધાનોમાંથી કયાં વિધાનો ખરાં છે?
૧. અવિશ્વાસની દરખાસ્ત અંગે બંધારણમાં કોઈ ઉલ્લેખ નથી.  
૨. બે અવિશ્વાસની દરખાસ્ત વચ્ચે છ માસનો ગાળો પસાર થયેલો હોવો જોઈએ.  
૩. ઓછામાં ઓછા એક સો સદસ્યોએ અવિશ્વાસની દરખાસ્તને ટેકો આપેલો હોવો જોઈએ.  
૪. અવિશ્વાસની દરખાસ્ત માત્ર લોકસભામાં જ રજૂ થઈ શકે.
- (A) ૧, ૨, ૩ અને ૪ (B) ફક્ત ૨ અને ૪ **(C)** ફક્ત ૧, ૨ અને ૪ (D) ફક્ત ૧ અને ૪

129. A new Panchayat constituted upon the dissolution of a Panchayat before the expiration of its term shall continue .....
- (A) For next 5 years from the date of its first meeting and no longer.  
 (B) For the remainder of the period for which the dissolved Panchayat would have continued had it not been dissolved.  
 (C) Till it enjoys the pleasure of the Governor.  
 (D) Till State Legislative Assembly allows it to continue.
130. Which unit of the following units is not functioning under *Prime Minister's Office* (PMO)?
- (A) Department of Atomic Energy (B) Department of Space  
 (C) National Security Council  (D) National Capital Region Planning Board.
131. Recently constituted *National SC/ST Hub* (NSSH) is functioning under the .....
- (A) Ministry of Social Justice  
 (B) Ministry of Skill Development and Entrepreneurship  
 (C) Ministry of Micro, Small and Medium Enterprises (MSME)  
 (D) Ministry of Tribal Affairs
132. Which of the following statement(s) is(are) incorrect?
1. Dr. B. R. Ambedkar was the chairman of Drafting Committee.
  2. Jawaharlal Nehru chaired the Union Constitution Committee.
  3. Sardar Patel chaired Provincial Constitution Committee.
  4. Sardar Patel chaired States Committee. (committee for negotiating with States)
- (A) Only 1 and 2 (B) Only 3  (C) Only 4 (D) Only 2
133. Which of the following statements with reference to the jurisdiction of the *Supreme Court* are correct?
1. The President can refer any matter of public interest to the *Supreme Court* of India to seek its opinion.
  2. The opinion given by the *Supreme Court* on a reference under advisory jurisdiction is not binding on the Government.
  3. The *Supreme Court* under Article 32 can issue Writs for the enforcement of the fundamental rights of the citizens and for any other purpose.
- (A) Only 1 and 3  (B) Only 1, 2 and 3 (C) Only 2 and 3 (D) Only 2
134. *The Indian Parliament* can make any law for whole or any part of India for implementing international treaties .....
- (A) With the Consent of all States (B) With the Consent of majority of States  
 (C) With the Consent of States concerned  (D) None of the above
135. Which of the following statements with reference to the no-confidence motion in Parliament are correct?
1. There is no mention of a no-confidence motion in the *Constitution*.
  2. A period of six months must elapse between the introduction of one no-confidence motion and another.
  3. At least one hundred members must support a motion of no-confidence motion.
  4. A motion of no-confidence motion can be introduced in the Lok Sabha only.
- (A) 1, 2, 3 and 4 (B) Only 2 and 4  (C) Only 1, 2 and 4 (D) Only 1 and 4



136. ભારતનાં બંધારણના આરંભથી, દરેક વ્યક્તિ ભારતના નાગરિક બનશે, જેઓ ભારત પ્રદેશમાં પોતાનું અધિનિવાસ ધરાવે છે અને .....
- (A) જેમનો જન્મ ભારત પ્રદેશમાં થયેલો છે.  
 (B) જેમના માતા અથવા પિતાનો જન્મ ભારત પ્રદેશમાં થયેલો છે.  
 (C) જેઓ ભારતના બંધારણના આરંભના તુરત પૂર્વ ઓછામાં ઓછા પાંચ વર્ષ માટે ભારત પ્રદેશના સામાન્ય રહેવાસી છે.  
 (D) ઉપરોક્ત તમામ
137. ભારતીય બંધારણના અનુચ્છેદ ૧૮ અન્વયે નીચે આપેલાં વિધાનોમાંથી કયાં વિધાન(નો) ખરું(રાં) છે?
- (A) રાજ્ય, સેના અથવા વિદ્યા સંબંધિત સમ્માન સિવાય કોઈ ઉપાધિ પ્રદાન કરશે નહીં.  
 (B) ભારતના કોઈ નાગરિક કોઈ વિદેશી રાજ્યની ઉપાધિનો સ્વીકાર નહીં કરે.  
 (C) કોઈ વ્યક્તિ જે ભારતનો નાગરિક નથી, રાજ્યને આધિન લાભ અથવા કોઈ વિશ્વાસનું પદ ધારણ કરે છે ત્યારે વિદેશી રાજ્ય પાસે કોઈ ઉપાધિ રાષ્ટ્રપતિની સહમતી વિના સ્વીકારશે નહીં.  
 (D) ઉપરોક્ત તમામ.
138. નીચે આપેલાં વિધાનોમાંથી કયું(યાં) વિધાન(નો) ખરું(રાં) છે?
૧. અનુચ્છેદ ૩૬૮માં અંકિત સત્તામાં સુધારો કરતું બંધારણ સર્વોચ્ચ અદાલત દ્વારા આપવામાં આવેલા 'મૂળભૂત માળખા'ના સિધ્ધાંતને આધિન છે, જે સર્વોચ્ચ અદાલતે કેશવનંદ ભારતી વિરુદ્ધ કેરળ રાજ્યના પ્રકરણ થકી પ્રતિપાદિત કરેલ છે.  
 ૨. બંધારણમાં સુધારા કરવા માટે રાષ્ટ્રપતિની પૂર્વમંજૂરી જરૂરી છે.  
 ૩. બંધારણીય સુધારા વિધેયકનો પ્રારંભ લોકસભામાં થવો જોઈએ.  
 (A) ફક્ત ૧ (B) ફક્ત ૧ અને ૨ (C) ફક્ત ૩ (D) ફક્ત ૧ અને ૩
139. ભારતમાં જો કોઈ ધાર્મિક સમુદાયને રાષ્ટ્રીય લઘુમતિનો દરજ્જો અપાય, તો તેના અધિકારો કયાં છે?
૧. તેઓ અનન્ય શિક્ષણ સંસ્થાઓની સ્થાપના અને વહીવટ કરી શકે છે.  
 ૨. રાષ્ટ્રપતિ લોકસભામાં આપોઆપ સભ્યનું નામાંકન કરે છે.  
 ૩. તેઓ પ્રધાનમંત્રીના ૨૦૦૬ના ૧૫ મુદ્દાના કાર્યક્રમના લાભો લઈ શકે છે.  
 (A) ફક્ત ૧ (B) ફક્ત ૨ (C) ફક્ત ૧ અને ૨ (D) ફક્ત ૧ અને ૩
140. આંતર-રાજ્ય પરિષદ સંદર્ભે નીચે આપેલાં વિધાનોમાંથી કયું(યાં) વિધાન(નો) ખરું(રાં) છે?
૧. તેની સ્થાપના રાષ્ટ્રપતિના આદેશથી થાય છે.  
 ૨. તેની ફરજનો પ્રકાર સંસદ દ્વારા વ્યાખ્યાયિત થાય છે.  
 ૩. તેની સ્થાપના લોકહિતની સેવા કરવા માટે થયેલી છે.  
 (A) ફક્ત ૧ અને ૩ (B) ફક્ત ૨ (C) ફક્ત ૨ અને ૩ (D) ૧, ૨ અને ૩
141. નીચેનું પૈકી કયું કાર્ય જાહેર નીતિ નિર્માણ પ્રક્રિયાના ભાગ તરીકે ગણવામાં આવતું નથી?
- (A) જાહેર સમસ્યાઓની ઓળખ  
 (B) જાહેર સમસ્યાઓની નીતિ કાર્યસૂચિ ઉપર મૂકવી  
 (C) સમસ્યાઓના ઉકેલ માટે નીતિ પ્રસ્તાવ ઘડવા  
 (D) રાજશાસન પદ્ધતિનું મૂલ્યાંકન
142. નીચે આપેલાં વિધાનોમાંથી કયું(યાં) વિધાન(નો) ખરું(રાં) છે?
૧. સૂચના ટેકનોલોજી અધિનિયમ (૨૦૦૦) દ્વારા ભારતમાં ડિજિટલ શાસનને માન્ય કરવામાં આવ્યું છે.  
 ૨. પ્રશાસનિક સુધારાની વિભાવના નિર્માણની પ્રક્રિયામાં સૂચના ટેકનોલોજી અધિનિયમ મહત્વનું સીમાચિહ્ન બન્યું છે.  
 ૩. ડિજિટલ શાસન નોકરશાહીની તુમારશાહી ઉપર પ્રહાર છે.  
 (A) ફક્ત ૨ અને ૩ (B) ફક્ત ૨ (C) ફક્ત ૧ અને ૩ (D) ૧, ૨ અને ૩



136. At the commencement of the Constitution of India, every person shall be a citizen of India who has his domicile in the territory of India and .....
- Who was born in the territory of India.
  - Either of whose parents was born in the territory of India.
  - Who has been ordinarily residing in the territory of India for not less than five years immediately preceding such commencement.
  - All of the above.
137. Which of the following is correct under Article 18 of the *Indian Constitution*?
- No title, not being a military or academic distinction, shall be conferred by the State.
  - No citizen of India shall accept any title from any foreign State.
  - No person who is not a citizen of India shall, while he holds any office of profit or trust under the State, accept without the consent of the President any title from any foreign State.
  - All of the above.
138. Which of the following statement(s) is(are) correct?
- The Constitution amending power embodied in Article 368 is subject to the doctrine of 'Basic structure' propounded by the Supreme Court in *Kesavananda Bharati V. State of Kerala*.
  - For Constitution amendment prior permission of the President of India is required.
  - The Constitution amendment Bill should initiate in Lok Sabha.
- Only 1                      (B) Only 1 and 2                      (C) Only 3                      (D) Only 1 and 3
139. In India, if a religious community is accorded status of national minority, then which are the entitlements?
- They can establish and administer exclusive educational institutions.
  - President automatically nominates a member in Lok Sabha.
  - They can derive benefit from PM's 15-point Programme of 2006.
- Only 1                      (B) Only 2                      (C) Only 1 and 2                       Only 1 and 3
140. Which of the following statement(s) is(are) correct with reference to the Inter-state council?
- It is established by the order of the President.
  - Its nature of duties is defined by Parliament.
  - Its establishment is meant to serve the public interests.
- Only 1 and 3                      (B) Only 2                      (C) Only 2 and 3                      (D) 1, 2 and 3
141. Which of the following Act is not considered as a part of the Public Policy formulation process?
- Identification of public problems
  - Putting of public problems on policy agenda
  - Formulation of policy proposal to deal the problems
  - Evaluation of the policy
142. Which of the following statement(s) is(are) correct?
- Digital governance has been legalized by the *Information Technology Act* (2000) in India.
  - Information Technology Act* is a watershed in conceptualizing administrative reforms in India.
  - Digital Governance is an attack on bureaucratic red-tapism.
- Only 2 and 3                      (B) Only 2                      (C) Only 1 and 3                       1, 2 and 3

143. નીચેનામાંથી કયું(યાં) માનવઅધિકારનાં લક્ષણ(ણો) છે?
૧. અવિચ્છેદ્યતા (Inalienability)
  ૨. વિભાજકતા (Divisibility)
  ૩. અન્યોન્યતા (Interdependence)
- (A) ફક્ત ૨ અને ૩ (B) ફક્ત ૧ અને ૩ (C) ફક્ત ૨ (D) ૧, ૨ અને ૩
144. ભારતસંઘની વિભિન્ન રાજ્યોની પરિષદમાં બેઠકોની ફાળવણીની નીચેના પૈકી બંધારણની કઈ અનુસૂચિમાં જોગવાઈ કરેલી છે?
- (A) પ્રથમ અનુસૂચિ (B) દ્વિતીય અનુસૂચિ (C) તૃતીય અનુસૂચિ (D) ચતુર્થ અનુસૂચિ
145. કિશોરીઓ અને યુવતીઓના સામાજિક-આર્થિક સશક્તિકરણ માટે ભારત સરકાર દ્વારા કઈ યોજના શરૂ કરવામાં આવી?
- (A) કિશોરી (B) તેજસ્વિની (C) સક્ષમ (D) સશક્તિકરણ
146. નીચેના પૈકી કયા દરમિયાન સંસદના બંને ગૃહોની સંયુક્ત બેઠકની મંજૂરી આપવામાં આવે છે?
૧. સામાન્ય વિધેયક
  ૨. નાણા વિધેયક (Money Bill)
  ૩. બંધારણીય સુધારા વિધેયક
- (A) ફક્ત ૧ અને ૩ (B) ફક્ત ૧ (C) ફક્ત ૨ અને ૩ (D) ફક્ત ૩
147. સર્વોચ્ચ અદાલતના ઐતિહાસિક ચૂકાદાએ ભારતના બંધારણના અનુચ્છેદ ૨૧ હેઠળ, કે જે જીવન જીવવાનો અને વ્યક્તિગત સ્વતંત્રતાનો હક્ક નિશ્ચિત કરે છે, ગોપનીયતાના અધિકારને મૂળભૂત અધિકાર તરીકે સ્વીકાર્યો છે. આ ચૂકાદો નીચેના પૈકી કયાં ક્ષેત્રોને અસર કરશે?
૧. આઈ.પી.સી. કલમ ૩૭૭
  ૨. ઈચ્છામૃત્યુ
- (A) ફક્ત ૧ (B) ફક્ત ૨ (C) બંને ૧ અને ૨ (D) ૧ અને ૨ પૈકી એક પણ નહીં
148. ગવર્નમેન્ટ ઓફ ઇન્ડિયા એક્ટ (૧૮૫૮)ની જોગવાઈઓ બાબતે નીચેના પૈકી કયું ખરું છે?
- (A) બોર્ડ ઓફ કંટ્રોલ અને કોર્ટ ઓફ ડાયરેક્ટરની નાબુદી દ્વારા બેવડી સરકાર પ્રથાનો અંત થયો.
- (B) બંગાળ માટે નવીન વિધાન પરિષદોની રચના માટેની જોગવાઈ પણ કરવામાં આવી.
- (C) વિકલ્પ A અને B બંને.
- (D) ઉપરના પૈકી કોઈ નહીં.
149. વૈધાનિક સંસ્થાઓ બાબતે નીચે આપેલાં વિધાનોમાંથી કયું વિધાન ખરું છે?
- (A) વૈધાનિક સંસ્થાઓ એવા કાનૂન દ્વારા ઘડવામાં આવી છે કે જે સંસદ અને રાજ્ય વિધાનસભાઓ પસાર કરી શકાય.
- (B) વૈધાનિક સંસ્થાઓ બંધારણના કાનૂન દ્વારા ઘડવામાં આવી છે.
- (C) વૈધાનિક સંસ્થાઓ એવા કાનૂન દ્વારા ઘડવામાં આવી છે કે જે સંસદ અને રાજ્ય વિધાનસભાઓ પસાર કરી ના શકે.
- (D) ઉપરના પૈકી કોઈ નહીં.
150. ભારતીય બંધારણના અનુચ્છેદ ૩૭૧ બાબતે નીચેના પૈકી કયાં વિધાનો ખરાં છે?
૧. અનુચ્છેદ ૩૭૧ વિદર્ભ, મરાઠવાડા અને બાકીના મહારાષ્ટ્ર માટે અલગ વિકાસબોર્ડની સ્થાપના માટેની જોગવાઈ કરે છે.
  ૨. અનુચ્છેદ ૩૭૧ કચ્છ અને બાકીના ગુજરાત માટે અલગ વિકાસ બોર્ડની સ્થાપના માટેની જોગવાઈ કરે છે.
  ૩. અનુચ્છેદ ૩૭૧ અનુસાર વડાપ્રધાન મહારાષ્ટ્ર અને ગુજરાતના રાજ્યપાલોને ઉપરોક્ત જોગવાઈઓ માટે ખાસ જવાબદારીઓ સોંપવા અધિકૃત છે.
- (A) ફક્ત ૧ અને ૨ (B) ૧, ૨ અને ૩ (C) ફક્ત ૧ અને ૩ (D) ફક્ત ૨ અને ૩
151. જો 601 થી 800 વચ્ચેની તમામ સંખ્યાઓ લખવામાં આવે તો અંક 7 કેટલી વખત આવશે?
- (A) 138 (B) 139 (C) 140 (D) 141



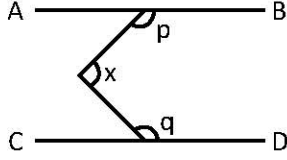
143. Which of the following is(are) the attribute(s) of Human Rights?
1. Inalienability
  2. Divisibility
  3. Interdependence
- (A) Only 2 and 3      (B) Only 1 and 3      (C) Only 2      (D) 1, 2 and 3
144. The allocation of seats in the council of states from the different states of the Union of India has been provided in which of the following Schedule of the Constitution?
- (A) First Schedule      (B) Second Schedule      (C) Third Schedule      (D) Fourth Schedule
145. Which scheme was launched for the socio-economic empowerment of adolescent girls and young women (AGYW)?
- (A) Kishori      (B) Tejaswini      (C) Saksham      (D) Sashaktikaran
146. Joint sitting of both the Houses of Parliament is allowed during which of the following?
1. Ordinary Bill
  2. Money Bill
  3. Constitution Amendment Bill
- (A) Only 1 and 3      (B) Only 1      (C) Only 2 and 3      (D) Only 3
147. The historic decision of the Supreme Court has accepted the right to Privacy, under the Article 21 of Indian Constitution, which guarantees right to life and personal liberty, as a fundamental right. Which of the following areas will get affected because of this decision?
1. IPC Section 377
  2. Euthanasia
- (A) Only 1      (B) Only 2      (C) Both 1 and 2      (D) Neither 1 nor 2
148. Which sentence of the following sentences is correct with reference to the provisions of the *Government of India Act (1858)*?
- (A) It ended the system of double government by abolishing the Board of Control and Court of Director.
- (B) It also catered to the establishment of new legislative councils for Bengal.
- (C) Both A and B
- (D) None of the above
149. Which sentence of the following sentences is correct about the statutory bodies?
- (A) Statutory bodies are set up by statutes which Parliament and State Legislatures can pass.
- (B) Statutory bodies are set up by statutes of the Constitution.
- (C) Statutory bodies are set up by statutes which Parliament and State Legislatures can't pass.
- (D) None of the above.
150. Which of the following statements are correct with reference to the Article 371 of *Indian Constitution*?
1. Article 371 provides the establishment of separate Development Boards for Vidharbha, Marthwada and rest of Maharashtra.
  2. Article 371 provides the establishment of separate Development Boards for Kutch and rest of Gujarat.
  3. According to Article 371 Prime Minister is authorized to assign Governors of Maharashtra and Gujarat would have special responsibilities for the above provisions.
- (A) Only 1 and 2      (B) 1, 2 and 3      (C) Only 1 and 3      (D) Only 2 and 3
151. If all the numbers from 601 to 800 are written, what is the total number of times the digit 7 appears?
- (A) 138      (B) 139      (C) 140      (D) 141



152. સમબાજુ ત્રિકોણના બહિર્વર્તુળ અને અંત:વર્તુળના ક્ષેત્રફળનો ગુણોત્તર કેટલો થશે?  
 (A) 2:1 (B) 1:3 (C) 1:4 (D) ઉપરના પૈકી કોઈ નહીં

153. બે સુરેખ સમીકરણો:  $x + y = 3$  and  $-15 - 3y = 3x$  ને  
 (A) અનન્ય ઉકેલ છે (B) એકપણ ઉકેલ નથી (C) બે ઉકેલ છે (D) અનંત ઉકેલ છે

154. નીચેની આકૃતિમાં  $\angle p$   $135^\circ$  અને  $\angle q$   $143^\circ$  છે. જો AB અને CD સમાંતર હોય તો,  $\angle x$  કેટલો થશે?



(A)  $45^\circ$  (B)  $68^\circ$  (C)  $78^\circ$  (D) ઉપરના પૈકી કોઈ નહીં

(155 થી 159 માટે નિર્દેશ) – નીચેની વિગતો કાળજીપૂર્વક વાંચી આપેલા પ્રશ્નો માટે સાચો વિકલ્પ પસંદ કરો:

A, B, C, D, E, F અને G એ સાત તજજ્ઞો ત્રણ વાહનોમાં પ્રવાસ કરે છે – મારુતિ, હ્યુન્ડાઇ અને ટોયોટા. પ્રત્યેક વાહનમાં પ્રવાસ કરનારા પૈકી માત્ર એક વ્યક્તિ પુરુષ છે. ઉક્ત સાત તજજ્ઞો પૈકી બે એજિનિયર, બે ડોક્ટર અને ત્રણ શિક્ષક છે.

1. C એક મહિલા ડોક્ટર છે, અને તે હંમેશા સાથે પ્રવાસ કરતી બે બહેનો A અને F સાથે પ્રવાસ કરતી નથી.
2. B એક પુરુષ એજિનિયર છે, જે માત્ર શિક્ષક G સાથે જ મારુતિમાં પ્રવાસ કરે છે.
3. D એક પુરુષ ડોક્ટર છે.
4. સમાન પ્રકારનો વ્યવસાય કરતા લોકો એક જ વાહનમાં પ્રવાસ કરતા નથી.
5. A એજિનિયર નથી અને તે હ્યુન્ડાઇમાં પ્રવાસ કરે છે.

155. F નો વ્યવસાય કયો છે?

(A) શિક્ષક (B) ડોક્ટર (C) એજિનિયર (D) ઉપરના પૈકી કોઈ નહીં

156. કયા વાહનમાં પ્રવાસ કરે છે?

(A) મારુતિ (B) હ્યુન્ડાઇ (C) ટોયોટા (D) વિગતો અપૂરતી છે

157. ત્રણ શિક્ષકો કોણ છે?

(A) FGE (B) EGA (C) BGF (D) ઉપરના પૈકી કોઈ નહીં

158. નીચે પૈકી કયું વિધાન સાચું છે?

- (A) E એક પુરુષ શિક્ષક છે જે ટોયોટામાં પ્રવાસ કરે છે
- (B) E એક મહિલા શિક્ષક છે જે ટોયોટામાં પ્રવાસ કરે છે
- (C) G એક પુરુષ શિક્ષક છે જે મારુતિમાં પ્રવાસ કરે છે
- (D) A એક પુરુષ ડોક્ટર છે જે હ્યુન્ડાઇમાં પ્રવાસ કરે છે.

159. નીચે પૈકી કયું વિધાન ખરું નથી?

- (A) E અને B એજિનિયર છે (B) A અને E શિક્ષક છે
- (C) C અને D ડોક્ટર છે (D) F અને B એજિનિયર છે

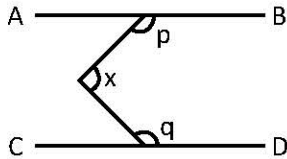
160. નીચે આપેલાં વિધાનોમાંથી કયું(યાં) વિધાન(નો) ખરું(રાં) છે?

1.  $\sqrt{51}$  એક સંમેય સંખ્યા છે
  2.  $\pi$  એક અસંમેય સંખ્યા છે
  3. પ્રત્યેક અસંમેય સંખ્યા વાસ્તવિક સંખ્યા છે.
- (A) ફક્ત ૧ અને ૩ (B) ફક્ત ૨ (C) ફક્ત ૨ અને ૩ (D) ૧, ૨ અને ૩

152. The ratio of areas of circumcircle and incircle of an equilateral triangle is?  
 (A) 2:1 (B) 1:3  
 (C) 1:4 (D) None of the above

153. Two linear equations:  $x + y = 3$  and  $-15 - 3y = 3x$  has  
 (A) Unique solution (B) No solution  
 (C) Two solutions (D) Infinite number of solutions

154. In the figure below  $\angle p$  is  $135^\circ$  and angle  $\angle q$  is  $143^\circ$ . If AB is parallel to CD, the value of  $\angle x$  is?



- (A)  $45^\circ$  (B)  $68^\circ$  (C)  $78^\circ$  (D) None of the above

Directions for (155 to 159) – Read the following information carefully and choose correct option for given questions:

A, B, C, D, E, F and G are seven professionals who travel in three different vehicles – Maruti, Hyundai and Toyota. Among travellers in each vehicle, only one person is male. Out of the seven professionals there are two engineers, two doctors and three teachers.

1. C is a lady doctor and she does not travel with pair of sisters A and F, who always travel together.
2. B, a male engineer, travels with only G, a teacher in Maruti.
3. D is a male doctor.
4. Persons having same profession don't travel in same vehicle.
5. A is not an engineer and travels in Hyundai.

155. What is F's profession?

- (A) Teacher (B) Doctor  
 (C) Engineer (D) None of the above

156. In which vehicle C travels?

- (A) Maruti (B) Hyundai (C) Toyota (D) Data Inadequate

157. Who are three teachers?

- (A) FGE (B) EGA (C) BGF (D) None of the above

158. Which of following is correct?

- (A) E is a male teacher who travels in Toyota (B) E is a lady teacher who travels in Toyota  
 (C) G is a male teacher who travels in Maruti (D) A is a male doctor who travels in Hyundai

159. Which of the following is not correct?

- (A) E and B are engineers (B) A and E are teachers  
 (C) C and D are doctors (D) F and B are engineers

160. Which of the following statement(s) is(are) correct?

1.  $\sqrt{51}$  is a rational number
2.  $\pi$  is an irrational number
3. Every irrational number is a real number

- (A) 1 and 3 (B) 2 (C) 2 and 3 (D) 1, 2 and 3

161. 4 ડોક્ટર, 3 શિક્ષક અને 5 વકીલ વચ્ચે રૂ.7300 એવી રીતે વહેંચવામાં આવે છે કે 3 વકીલોને જે રકમ મળે છે તે 2 શિક્ષકોને મળતી રકમ જેટલી છે, તથા 3 ડોક્ટરને મળતી રકમ 2 વકીલોને મળતી રકમ જેટલી છે. તો પ્રત્યેક શિક્ષકને કેટલી રકમ મળશે?
- (A) રૂ. 500 (B) રૂ. 700 (C) રૂ. 730 (D) ઉપરના પૈકી કોઈ નહીં
162. એક વિદ્યાર્થીને એક પરીક્ષામાં આ મુજબ ગુણ પ્રાપ્ત થયા : અંગ્રેજી-55, ગુજરાતી-73, ગણિત-58, ભૌતિક વિજ્ઞાન-64, રસાયણ વિજ્ઞાન-62. જો પ્રત્યેક વિષયને અનુક્રમે 1, 2, 1, 3, 3 જેટલા ભાર આપવામાં આવ્યા હોય તો ભારિત મધ્યક કેટલો થશે?
- (A) 61.5 (B) 62.6 (C) 63.7 (D) 64.9
163. લીપ વર્ષમાં 53 રવિવાર આવે તેની સંભાવના ..... છે.
- (A) 1/7 (B) 2/7 (C) 3/7 (D) 4/7
164. જો રૂ. 1000 5% ના દરે રોકવામાં આવે તથા દર 10 વર્ષે વ્યાજ મુદ્દલમાં ઉમેરવામાં આવે તો ..... વર્ષ પછી વ્યાજમુદ્દલ રૂ. 2000 થશે.
- (A) 16 વર્ષ (B) 16½ વર્ષ (C) 16⅔ વર્ષ (D) 16⅘ વર્ષ
165. જો  $\frac{3x}{2 + \frac{1}{1 + \frac{x}{1-x}}} = 3$ , તો x ની કિંમત ..... થશે.
- (A) 3/2 (B) 3/4 (C) 1/2 (D) 1/4
166. જો બે સંખ્યાઓનો સરવાળો 48 હોય તથા તેમનો ગુ.સા.અ અને લ.સા.અ અનુક્રમે 2 અને 286 હોય તો તે સંખ્યાઓની વ્યસ્ત સંખ્યાઓનો સરવાળો ..... થશે.
- (A) 1/143 (B) 12/143 (C) 24/143 (D) ઉપરના પૈકી કોઈ નહીં
167. એક વ્યક્તિ 1 કિમિ/કલાક, 2 કિમિ/કલાક અને 4 કિમિ/કલાકની ઝડપે એકસરખું અંતર કાપે છે અને તે માટે કુલ 3 કલાક અને 30 મિનિટનો સમય લે છે. તો તે વ્યક્તિએ કુલ કેટલું અંતર કાપ્યું હશે?
- (A) 3 કિ.મી. (B) 6 કિ.મી. (C) 12 કિ.મી. (D) ઉપરના પૈકી કોઈ નહીં
168. જો રૂ 481 ત્રણ વ્યક્તિઓમાં  $\frac{1}{4} : \frac{4}{6} : \frac{5}{8}$  ના પ્રમાણમાં વેચવામાં આવે તો ઓછામાં ઓછો ભાગ ..... થશે.
- (A) 48 (B) 52 (C) 78 (D) ઉપરના પૈકી કોઈ નહીં
169. આપેલા વર્તુળ માટે એક વૃતખંડ નો ખૂણો 60° છે. જો તે વૃતખંડનું ક્ષેત્રફળ 132/7 ચો.સે.મી. હોય તો વર્તુળની ત્રિજ્યા કેટલી હશે?
- (A) 6 સે.મી. (B) 7 સે.મી. (C) 8 સે.મી. (D) 9 સે.મી.
170. એક સમદ્વિબાજુ કાટકોણ ત્રિકોણની પરિમિતી  $(6 + 3\sqrt{2})$  મીટર હોય, તો તે ત્રિકોણનું ક્ષેત્રફળ કેટલું થશે?
- (A) 6 ચો.મી. (B) 36 ચો.મી. (C) 48 ચો.મી. (D) ઉપરના પૈકી કોઈ નહીં
171. A, B અને C ની હાલની ઉંમરનો સરવાળો 180 વર્ષ છે. 12 વર્ષ પહેલા તેમની ઉંમરનો ગુણોત્તર 1:2:3 હતો. તો C ની હાલની ઉંમર કેટલી હશે?
- (A) 66 (B) 72 (C) 84 (D) ઉપરના પૈકી કોઈ નહીં



161. Rs. 7300 is divided among 4 doctors, 3 teachers and 5 lawyers in such a way that 3 lawyers get as much amount as 2 teachers and 3 doctors get as much amount as 2 lawyers. How much amount would each teacher get?
- (A) Rs. 500 (B) Rs. 700  
(C) Rs. 730 (D) None of the above
162. A student obtained following marks in an examination: English-55, Gujarati-73, Maths-58, Physics-64 and Chemistry-62. What is the weighted Arithmetic mean if weights 1, 2, 1, 3, 3 are allotted to above subjects respectively?
- (A) 61.5 (B) 62.6 (C) 63.7 (D) 64.9
163. The probability that a leap year has 53 Sundays is .....
- (A)  $1/7$  (B)  $2/7$  (C)  $3/7$  (D)  $4/7$
164. If Rs 1000 be invested at an interest rate of 5% and the interest be added to the principal every 10 years, then the number of years in which it will amount to Rs 2000 is .....
- (A) 16 years (B)  $16\frac{1}{4}$  year (C)  $16\frac{3}{4}$  years (D)  $16\frac{5}{8}$  years
165. If  $\frac{3x}{2 + \frac{1}{1 + \frac{x}{1-x}}} = 3$ , then the value of  $x$  is .....
- (A)  $3/2$  (B)  $3/4$  (C)  $1/2$  (D)  $1/4$
166. If the sum of two numbers is 48 and the highest common factor (HCF) and lowest common factor (LCM) are 2 and 286 respectively. Then the sum of the reciprocals of the numbers is .....
- (A)  $1/143$  (B)  $12/143$   
(C)  $24/143$  (D) None of the above
167. A person travels equal distances with speeds of 1 km/hr, 2 km/hr and 4 km/hr and takes a total time 3 hours and 30 minutes. What is the total distance the person covers?
- (A) 3 kms (B) 6 kms  
(C) 12 kms (D) None of the above
168. If Rs. 481 is divided among three persons in the ratio of  $\frac{1}{4} : \frac{4}{6} : \frac{5}{8}$ , then the least share is .....
- (A) 48 (B) 52  
(C) 78 (D) None of the above
169. For a given circle, the angle of a sector is  $60^\circ$ . If the area of this sector is  $132/7 \text{ cm}^2$ , what is the radius of the circle?
- (A) 6 cm (B) 7 cm (C) 8 cm (D) 9 cm
170. If the perimeter of an isosceles right triangle is  $(6 + 3\sqrt{2})$  meter, then the area of the triangle is
- (A)  $6 \text{ m}^2$  (B)  $36 \text{ m}^2$   
(C)  $48 \text{ m}^2$  (D) None of the above
171. The sum of the present age of A, B and C is 180 years. 12 years ago their ages were in the ratio of 1:2:3. What is the present age of C?
- (A) 66 (B) 72  
(C) 84 (D) None of the above

(172 થી 174 માટે નિર્દેશ.) નીચેના કોષ્ટકમાં પાંચ પ્રકારની ગાડીઓ A, B, C, D અને E ના 5 વર્ષમાં થયેલ કુલ ઉત્પાદનના આંકડાઓ આપેલ છે. આ માહિતીનો ઉપયોગ કરી આપેલા પ્રશ્નોના જવાબ આપો.

વર્ષ	A	B	C	D	E	કુલ
1995	10500	10000	15600	08450	20500	65050
1996	12240	12570	18750	12975	12385	68920
1997	14650	14230	17460	14300	15440	76080
1998	16800	10500	16320	15500	09570	68690
1999	12400	16600	14300	16430	11110	70840

172. કયા વર્ષમાં તમામ ગાડીઓના કુલ ઉત્પાદનમાં તેના આગલા વર્ષ કરતા થયેલ ફેરફારની ટકાવારી મહત્તમ હતી?  
 (A) 1996 (B) 1997 (C) 1998 (D) 1999

173. વર્ષ 1997 માં ઉત્પાદન થયેલ ગાડીઓનો મધ્યસ્થ કેટલો છે?  
 (A) 14250 (B) 14300 (C) 17460 (D) ઉપરના પૈકી કોઈ નહીં

174. ગાડી D ની તમામ વર્ષોમાં થયેલ ઉત્પાદનની સરેરાશ કેટલી થશે?  
 (A) 13531 (B) 13535 (C) 13541 (D) ઉપરના પૈકી કોઈ નહીં

175. નીચેની શ્રેણીમાં (?) ની જગ્યાએ કઈ સંખ્યા આવશે?  
 2, 5, 4, 18, 6, 39, 10, (?)  
 (A) 65 (B) 82 (C) 105 (D) 125

176. એક સાંક્રિતિક ભાષામાં "CHENNAI" નો સંકેત "EJGPPCK" હોય તો "KOLKATA" ને કઈ રીતે લખાશે?  
 (A) LPMLCUC (B) MQNMCVC (C) MNKJZSZ (D) IMJIYRY

(177 થી 180 માટે નિર્દેશ): દરેક પ્રશ્નમાં એક પ્રશ્ન અને બે વિધાનો (1) અને (2) આપવામાં આવ્યા છે. તમારે એ નિર્ણય કરવાનો છે, કે વિધાનોમાં આપવામાં આવેલ માહિતી આપેલા પ્રશ્નનો જવાબ આપવા પર્યાપ્ત છે કે કેમ. તમારો જવાબ નીચે મુજબ આપો.

(A) જો વિધાન (1) એકલું આપેલા પ્રશ્નનો જવાબ આપવા પર્યાપ્ત છે  
 (B) જો વિધાન (2) એકલું આપેલા પ્રશ્નનો જવાબ આપવા પર્યાપ્ત છે  
 (C) જો વિધાન (1) અને વિધાન (2) બન્ને આપેલા પ્રશ્નનો જવાબ આપવા આવશ્યક છે  
 (D) જો વિધાન (1) અને વિધાન (2) બન્ને સાથે પણ આપેલા પ્રશ્નનો જવાબ આપવા પર્યાપ્ત નથી

177. બ્રિજેશનો વિકાસ સાથે કયો સંબંધ છે?

1. બ્રિજેશના એકમાત્ર ભાઈ અમિતની પત્ની ચેતના ને કોઈ ભાઈ બહેન નથી.
  2. વિકાસની પત્ની મિતલી ચેતનાની બહેનપણી છે.
- (A) વિધાન (1) એકલું આપેલા પ્રશ્નનો જવાબ આપવા પર્યાપ્ત છે.  
 (B) વિધાન (2) એકલું આપેલા પ્રશ્નનો જવાબ આપવા પર્યાપ્ત છે.  
 (C) વિધાન (1) અને વિધાન (2) બન્ને આપેલા પ્રશ્નનો જવાબ આપવા આવશ્યક છે.  
 (D) વિધાન (1) અને વિધાન (2) બન્ને સાથે પણ આપેલા પ્રશ્નનો જવાબ આપવા પર્યાપ્ત નથી.

178. આપેલા મહિનામાં 14મા દિવસે કયો વાર હશે?

1. મહિનાના છેલ્લા દિવસે બુધવાર છે.
  2. મહિનાની 17મી તારીખે ત્રીજો શનિવાર છે.
- (A) વિધાન (1) એકલું આપેલા પ્રશ્નનો જવાબ આપવા પર્યાપ્ત છે.  
 (B) વિધાન (2) એકલું આપેલા પ્રશ્નનો જવાબ આપવા પર્યાપ્ત છે.  
 (C) વિધાન (1) અને વિધાન (2) બન્ને આપેલા પ્રશ્નનો જવાબ આપવા આવશ્યક છે.  
 (D) વિધાન (1) અને વિધાન (2) બન્ને સાથે પણ આપેલા પ્રશ્નનો જવાબ આપવા પર્યાપ્ત નથી.

(Directions for 172 to 174)

In the following table, total production figures of 5 types of cars A, B, C, D and E in 5 years are given. Answer the given questions using this data.

Year	A	B	C	D	E	Total
1995	10500	10000	15600	08450	20500	65050
1996	12240	12570	18750	12975	12385	68920
1997	14650	14230	17460	14300	15440	76080
1998	16800	10500	16320	15500	09570	68690
1999	12400	16600	14300	16430	11110	70840

172. In which year the total production of all cars has seen maximum percentage change from its previous year?

- (A) 1996                      (B) 1997                      (C) 1998                      (D) 1999

173. What is Median of cars produced during year 1997?

- (A) 14250                      (B) 14300                      (C) 17460                      (D) None of the above

174. What is the average production of car D during all years?

- (A) 13531                      (B) 13535                      (C) 13541                      (D) None of the above

175. Which number will come in place of (?) in following series?

2, 5, 4, 18, 6, 39, 10, (?)

- (A) 65                      (B) 82                      (C) 105                      (D) 125

176. In a certain code language "CHENNAI" is coded as "EJGPPCK" then how will 'KOLKATA' be written?

- (A) LPMLCUC                      (B) MQNMCVC                      (C) MNKJZSZ                      (D) IMJIYRY

(Directions for 177 to 180)

Each question has a problem and two statements 1 and 2. You have to decide, if the information given in the statements is sufficient to answer the question. Indicate your answer as

- (A) If statement (1) alone is sufficient to answer the question.  
(B) If statement (2) alone is sufficient to answer the question.  
(C) If statements (1) and (2) both together are needed to answer the question.  
(D) If statements (1) and (2) both together are not sufficient to answer the question.

177. How is Brijesh related to Vikas?

1. Chetana, wife of Brijesh's only brother Amit does not have any siblings
  2. Vikas's wife Mitali is Chetana's friend
- (A) Statement (1) alone is sufficient to answer the question.  
(B) Statement (2) alone is sufficient to answer the question.  
(C) Statements (1) and (2) both together are needed to answer the question.  
(D) Statements (1) and (2) both together are not sufficient to answer the question.

178. What day is the fourteenth of given month?

1. The last day of month is Wednesday.
  2. The third Saturday of the month was on seventeenth.
- (A) Statement (1) alone is sufficient to answer the question.  
(B) Statement (2) alone is sufficient to answer the question.  
(C) Statements (1) and (2) both together are needed to answer the question.  
(D) Statements (1) and (2) both together are not sufficient to answer the question.

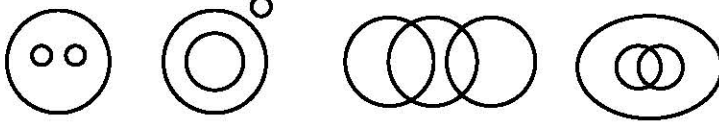


179. Q નો P સાથે કયો સંબંધ છે?
1. M અને Z એ Q ના ભાઈઓ છે અને P એ Z નો પુત્ર છે.
  2. Q એ T ના પિતા છે.
- (A) વિધાન (1) એકલું આપેલા પ્રશ્નનો જવાબ આપવા પર્યાપ્ત છે.  
 (B) વિધાન (2) એકલું આપેલા પ્રશ્નનો જવાબ આપવા પર્યાપ્ત છે.  
 (C) વિધાન (1) અને વિધાન (2) બંને આપેલા પ્રશ્નનો જવાબ આપવા આવશ્યક છે.  
 (D) વિધાન (1) અને વિધાન (2) બંને સાથે પણ આપેલા પ્રશ્નનો જવાબ આપવા પર્યાપ્ત નથી.
180. પૂજાએ કેટલા માર્ક્સ મેળવ્યા?
1. પૂજાએ મેળવેલ માર્ક્સ, જેની કાટખૂણો સમાવતી બાજુઓના મૂલ્ય 7 અને 12 હોય તેવા એક કાટકોણ ત્રિકોણના કર્ણના મૂલ્ય જેટલા છે.
  2. પૂજાએ વર્ગમાં સૌથી વધુ માર્ક્સ મેળવ્યા છે.
- (A) વિધાન (1) એકલું આપેલા પ્રશ્નનો જવાબ આપવા પર્યાપ્ત છે  
 (B) વિધાન (2) એકલું આપેલા પ્રશ્નનો જવાબ આપવા પર્યાપ્ત છે  
 (C) વિધાન (1) અને વિધાન (2) બંને આપેલા પ્રશ્નનો જવાબ આપવા આવશ્યક છે  
 (D) વિધાન (1) અને વિધાન (2) બંને સાથે પણ આપેલા પ્રશ્નનો જવાબ આપવા પર્યાપ્ત નથી
181. એક લંબઘન પેટીની ત્રણ પાસપાસેની સપાટીઓના ક્ષેત્રફળ 42 ચો. સેમી, 30 ચો. સેમી અને 35 ચો. સેમી હોય તો તેનું ઘનફળ ..... થશે?
- (A) 107 ઘન સે.મી. (B) 210 ઘન સે.મી. (C) 214 ઘન સે.મી. (D) ઉપરના પૈકી કોઈ નહીં
182. જો ત્રિકોણની દરેક બાજુનું માપ બમણું કરવામાં આવે તો તેનાં ક્ષેત્રફળમાં ..... ટકા વધારો થશે.
- (A) 200% (B) 275% (C) 300% (D) 333%
183. નીચે આપેલાં વિધાનોમાંથી કયું(યાં) વિધાન(નો) ખટું(રાં) છે?
1. જો ABCD સમાંતરબાજુ ચતુષ્કોણ હોય તો  $\angle ABC$  અને  $\angle BCD$  એકબીજાના કોટિકોણ છે.
  2. જો ABCD સમબાજુ ચતુષ્કોણ હોય તો તેના વિકર્ણો AC અને BD એક બીજાના લંબ દ્વિભાજક હોય છે.
- (A) ફક્ત 1 (B) ફક્ત 2 (C) બંને 1 અને 2 (D) 1 અને 2 પૈકી કોઈ નહીં
184. એક તારનો વિદ્યુત અવરોધ તેની લંબાઈના સમપ્રમાણમાં અને તેના વ્યાસના વર્ગના વ્યસ્ત પ્રમાણમાં ચલે છે. જો 200 સે.મી. લંબાઈ અને એક ચતુર્થાંશ સે.મી. વ્યાસના તારનો અવરોધ 20 ઓહ્મ હોય તો તેટલા જ વ્યાસના 500 સેમી લંબાઈના તારનો અવરોધ શોધો.
- (A) 25 ઓહ્મ (B) 40 ઓહ્મ (C) 50 ઓહ્મ (D) ઉપરના પૈકી કોઈ નહીં
185. 100 કારીગરો એક કામ 50 દિવસમાં પૂર્ણ કરે છે. તેઓએ કામ શરૂ કરી 10 દિવસ કામ કર્યા બાદ આ કામ ઝડપથી પૂર્ણ થાય તે માટે વધુ 100 કારીગરો રોકવામાં આવે છે. તો બાકીનું કામ પૂર્ણ કરવા કેટલા દિવસ લાગશે?
- (A) 15 દિવસ (B) 20 દિવસ (C) 25 દિવસ (D) 30 દિવસ
186. વર્ષ 2009નું કેલેન્ડર ક્યાં વર્ષ માટે કામ આપશે?
- (A) 2011 (B) 2014 (C) 2015 (D) 2017
187. કિંમત શોધો :  $(6561)0.16 \times (6561)0.09 = ?$
- (A) 9 (B) 27 (C) 81 (D) ઉપરના પૈકી કોઈ નહીં

179. How is Q related to P?
- M and Z are brothers of Q and P is son of Z.
  - Q is father of T.
- (A) Statement (1) alone is sufficient to answer the question.  
 (B) Statement (2) alone is sufficient to answer the question.  
 (C) Statements (1) and (2) both together are needed to answer the question.  
 (D) Statements (1) and (2) both together are not sufficient to answer the question.
180. How many marks Pooja scored?
- Pooja's marks are exactly equal to the value of hypotenuse of a right angle triangle having values of two sides adjacent to right angle are 7 and 12 respectively.
  - Pooja secured highest marks in class.
- (A) Statement (1) alone is sufficient to answer the question.  
 (B) Statement (2) alone is sufficient to answer the question.  
 (C) Statements (1) and (2) both together are needed to answer the question.  
 (D) Statements (1) and (2) both together are not sufficient to answer the question.
181. The volume of a rectangular box whose area of three adjacent faces are  $42 \text{ cm}^2$ ,  $30 \text{ cm}^2$  and  $35 \text{ cm}^2$  is .....
- (A)  $107 \text{ cm}^3$  (B)  $210 \text{ cm}^3$   
 (C)  $214 \text{ cm}^3$  (D) None of the above
182. If every side of a triangle is doubled, then percentage increase in the area of the triangle is .....
- (A) 200% (B) 275%  (C) 300% (D) 333%
183. Which of the following statement(s) is(are) correct?
- Let ABCD be a parallelogram, then  $\angle ABC$  and  $\angle BCD$  are complementary angles.
  - If ABCD is a rhombus, then diagonals AC and BD are perpendicular bisectors of each other.
- (A) Only 1 (B) Only 2  
 (C) Both 1 and 2 (D) Neither 1 nor 2
184. The electrical resistance of a wire varies directly with its length and inversely with the square of its diameter. If a wire with a length of 200 cm and a diameter of one-quarter of a centimeter has a resistance of 20 ohms, find the electrical resistance in a 500 cm wire with the same diameter
- (A) 25 ohms (B) 40 ohms  
 (C) 50 ohms (D) None of the above
185. 100 workers can finish a work in 50 days. 100 workers started the work by working for 10 days. To finish the task as soon as possible 100 more workers are employed. Find the number of days required to finish the remaining work.
- (A) 15 days  (B) 20 days (C) 25 days (D) 30 days
186. Calendar for year 2009 will also serve for the year?
- (A) 2011 (B) 2014  (C) 2015 (D) 2017
187. The value of  $(6561)^{0.16} \times (6561)^{0.09} = ?$
- (A) 9 (B) 27  
 (C) 81 (D) None of the above

(પ્રશ્નો 188 થી 190 માટે નિર્દેશ)

આપેલા પ્રશ્નોની વિગતો દર્શાવતો સાચો વિકલ્પ વેન આકૃતિઓનો ઉપયોગ કરી પસંદ કરો.



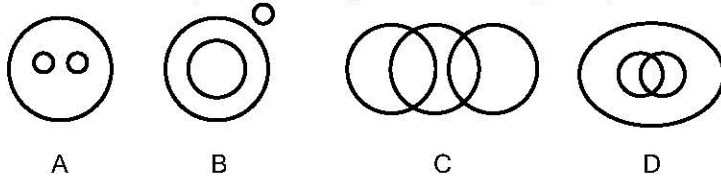
A B C D

188. પોલીસ, ડોક્ટર, સ્ત્રી **C**
189. મંદાકિની વિશ્વ, સૂર્ય, એન્ડ્રોમીડા આકાશગંગા **B**
190. બારી, બારણું, મકાન **A**
191. બે કારીગરો M અને N ને એક કામ કરવા રોકવામાં આવે છે. જો M એકલો કામ કરે તો તેને તેઓ બન્ને સાથે કામ કરે તેના કરતા 8 કલાક વધારે લાગે છે. તથા જો N એકલો કામ કરે તો તેને તેઓ બન્ને સાથે કામ કરે તેના કરતા 4.5 કલાક વધારે લાગે છે. તો બન્ને સાથે કામ પૂર્ણ કરતાં કેટલો સમય લાગશે?  
(A) 3 કલાક (B) 4 કલાક **C** 6 કલાક (D) ઉપરના પૈકી કોઈ નહીં
192. કિંમત શોધો :  $\frac{1}{4} \{1800 \div (11 \times 24 - 8 \times 3)\} + \frac{1}{8}$   
(A)  $\frac{1}{4}$  (B) 1 (C)  $\frac{5}{8}$  **D** ઉપરના પૈકી કોઈ નહીં
193. એક પૂર્ણાંક સંખ્યાને 40 વડે ગુણવાથી એક નવી સંખ્યા મળે છે. આ નવી સંખ્યાનું ઘનમૂળ તે મૂળ સંખ્યાનાં વર્ગમૂળ કરતાં બમણું છે. તે પૂર્ણાંક સંખ્યા શોધો.  
(A) 16 **B** 25 (C) 36 (D) 50
194. રાજેશ એક વર્તુળાકાર ક્ષેત્રની ફરતે 1 રાઉન્ડ પ્રતિ કલાકની ઝડપે ચાલે છે, તથા સુમિત તેની ફરતે 6 રાઉન્ડ પ્રતિ કલાકની ઝડપે દોડે છે. જો બન્ને સવારે 7.40 વાગે એક જ દિશામાં ગતિની શરૂઆત કરે તો તેઓ એક બીજાને પ્રથમવાર ક્યારે મળશે?  
(A) સવારે 7.48 વાગે (B) સવારે 7.50 વાગે  
**C** સવારે 7.52 વાગે (D) ઉપરના પૈકી કોઈ નહીં
195. બે સરખી લંબાઈની ગાડીઓ એક થાંભલાને અનુક્રમે 18 સેકન્ડ અને 12 સેકન્ડમાં પસાર કરે છે. જો તેઓ એકબીજી તરફ ગતિ કરે તો એકબીજીને પસાર કરતાં તેમને કેટલો સમય લાગશે?  
(A)  $\frac{75}{8}$  સેકન્ડ **B**  $\frac{72}{5}$  સેકન્ડ (C) 18 સેકન્ડ (D) ઉપરના પૈકી કોઈ નહીં
196. નીચેની શ્રેણીમાં 6ઠ્ઠું પદ કયું હશે?  
2, -1,  $\frac{1}{2}$ , .....  
(A)  $\frac{1}{32}$  (B)  $-\frac{1}{32}$  (C)  $\frac{1}{16}$  **D** ઉપરના પૈકી કોઈ નહીં
197. ત્રિકોણ ABC માં AN એ CB ને લંબ છે અને BM એ AC ને લંબ છે. જો BC ની લંબાઈ 16 હોય, તથા AC ની લંબાઈ 24 હોય અને AN ની લંબાઈ 12 હોય તો BM ની લંબાઈ કેટલી હશે?  
**A** 8 (B) 12 (C) 18 (D) ઉપરના પૈકી કોઈ નહીં
198. સુધા સૂર્યોદયની દિશામાં 200 મીટર ચાલે છે. ત્યારબાદ તે પોતાની ડાબી તરફ વળી 150 મીટર ચાલે છે. પછી તે પોતાની જમણી તરફ વળી ફરી 250 મીટર ચાલે છે. છેલ્લે તે ફરી પોતાની જમણી તરફ વળી 150 મીટર ચાલી રોકાઈ જાય છે. તો તે શરૂઆતના બિંદુથી કેટલી દૂર હશે?  
**A** 450 મીટર (B) 550 મીટર (C) 750 મીટર (D) ઉપરના પૈકી કોઈ નહીં
199. કરોળિયો : કીટક :: ચામાચિડિયું : (?)  
**A** સસ્તન (B) સરિસૃપ (C) ઉભયજીવી (D) પક્ષી
200. બાકીની ત્રણ કરતાં અલગ પડતી આકૃતિ શોધો.
- |   |   |   |   |
|---|---|---|---|
| A | E | Z | N |
|---|---|---|---|
- (A) A **B** E (C) Z (D) N



(Directions for 188 to190)

Choose the correct option showing the details of given questions using following Venn diagrams



188. Police, Doctor, Woman **C**
189. Milky way, Sun, Andromeda Galaxy **B**
190. Window, Door, House **A**
191. Two workers M and N are engaged to do a work. M working alone takes 8 hours more to complete the work than if both worked together. If N worked alone, he would need 4.5 hours more to complete the task than they both work together. What time will they take to complete the work together?  
 (A) 3 hours (B) 4 hours **(C) 6 hours** (D) None of the above
192. Find the value:  $\frac{1}{4} \{1800 \div (11 \times 24 - 8 \times 3)\} + \frac{1}{6}$   
 (A)  $\frac{1}{4}$  (B) 1 (C)  $\frac{5}{8}$  **(D) None of the above**
193. A new number is obtained by multiplying an integer by 40. The cube root of this new number is twice as much as the square root of that integer. Find the integer.  
 (A) 16 **(B) 25** (C) 36 (D) 50
194. Rajesh walks around a circular field at the rate of one round per hour while Sumit runs around it at the rate of six rounds per hour. If they start from the same point at 7.40 a.m. in same direction, they shall first meet each other at:  
 (A) 7.48 a.m. (B) 7.50 a.m. **(C) 7.52 a.m.** (D) None of the above
195. Two trains having equal lengths can cross a pole in 18 seconds and 12 seconds respectively. If they are running towards each other, how much time they will take to cross each other?  
 (A)  $\frac{75}{8}$  seconds **(B)  $\frac{72}{5}$  seconds** (C) 18 seconds (D) None of the above
196. What is the 6th term of following series:  
 2, -1,  $\frac{1}{2}$ , .....  
 (A)  $\frac{1}{32}$  (B)  $-\frac{1}{32}$  (C)  $\frac{1}{16}$  **(D) None of the above**
197. ABC is a triangle where AN is perpendicular to CB and BM perpendicular to AC. The length of BC is 16, that of AC is 24 and that of AN is 12. Find the length of BM.  
**(A) 8** (B) 12 (C) 18 (D) None of the above
198. Sudha walked in the direction of sunrise for 200 meters. Then she turned to her left and walked 150 meters. Then she turned to her right and walked 250 meters. Finally she turned again to her right and walked 150 meters and stopped. How far is she now from starting point?  
**(A) 450 meters** (B) 550 meters (C) 750 meters (D) None of the above
199. Spider : Insect :: Bat : (?)  
**(A) Mammal** (B) Reptile (C) Amphibian (D) Bird
200. Choose the figure which is different from other three.
- |   |   |   |   |
|---|---|---|---|
| A | E | Z | N |
|---|---|---|---|
- (A) A **(B) E** (C) Z (D) N