

CSP-01

PROVISIONAL ANSWER KEY

NAME OF THE POST- Gujarat Administrative Service Class-I & Gujarat Civil Service Class I & II

Advertisement No. 121/2016-17

Preliminary Test on - 04-06-2017

Subject Que : 001 - 200

Publish Date : 07-06-2017

Last Date to send suggestion(s) : 13-06-2017

- (1) All Suggestions are to be sent with reference to website published Question paper with Provisional Answer Key Only.
 - (2) All Suggestions are to be sent in the given format only.
 - (3) Candidate must ensure the above compliance.
- (૧) ઉમેદવારે વાંધા-સૂચનો રજૂ કરવા વેબસાઇટ પર પ્રસિધ્ધ થયેલ નિયત નમૂનાનો ઉપયોગ કરવો.
 - (૨) ઉમેદવારોએ પોતાને પરીક્ષામાં મળેલ સીરીઝની પ્રશ્નપુસ્તિકામાં છપાયેલ પ્રશ્ન ક્રમાંક મુજબ વાંધા-સૂચનો રજૂ ન કરતા તમામ વાંધા-સૂચનો વેબસાઇટ પર પ્રસિધ્ધ થયેલ પ્રોવિઝનલ આન્સર કીના પ્રશ્ન ક્રમાંક મુજબ અને તે સંદર્ભમાં રજૂ કરવા
 - (૩) ઉમેદવારોએ ઉક્ત સૂચનાનું અચૂક પાલન કરવું અન્યથા વાંધા-સૂચનો અંગે કરેલ રજૂઆતો ધ્યાને લેવાશે નહીં.



001. આધુનિક ભારતમાં નીચેના પૈકી સૌથી મોટું હડપ્પન સંસ્કૃતિનું સ્થળ કયું છે ?
(A) સાંધોલ (B) રોપર
(C) લોથલ (D) રાખીગરી
002. કઈ સિંધુ ખીણની સંસ્કૃતિના કયા સ્થળે કપડા પરના રંગકામ અને ભરતકામના સૌથી પહેલા પ્રમાણો જોવા મળે છે ?
(A) લોથલ (B) ચન્દ્રદરો (C) ધોળાવીરા (D) મોહેં-જો-દરો
003. યાદી-I ને યાદી-II સાથે જોડી નીચે આપેલ વિકલ્પોમાંથી સાચો જવાબ પસંદ કરો.

યાદી - I

- a) ઋગ્વેદ
b) અથર્વવેદ
c) સામવેદ
d) યજુર્વેદ

યાદી - II

- i) ભજનોનો સંગ્રહ
ii) પવિત્ર ગીતોનો સંગ્રહ
iii) તંત્ર મંત્રનો સંગ્રહ
iv) બલિસૂત્રોનો સંગ્રહ

Codes :

- (A) a-ii, b-i, c-iv, d-iii
(C) a-iv, b-ii, c-iii, d-i

- (B) a-iii, b-ii, c-i, d-iv
(D) a-i, b-iii, c-ii, d-iv

004. જૈન ધર્મનો કયો મહત્વનો ફાળો ભારતીય દર્શનશાસ્ત્રના સિદ્ધાંત પર જોવા મળે છે ?
(A) પુનઃજન્મ (B) કર્મ
(C) એકાત્મની હયાતી (D) સ્યદવદા
005. બુદ્ધ દ્વારા આપવામાં આવેલા 'ચાર ઉમદા સત્યો' શેના પર આધારિત છે ?
(A) દુઃખ અને તેની નાબૂદી (B) યોગ્ય કાર્ય
(C) આખરી વાસ્તવિકતા (D) મુક્તિ
006. નીચેના પૈકી દરાયસ દ્વારા સિંધુ ખીણની અને તેની શાખાઓને શોધવા / ખૂંદવા માટે ઈસુના જન્મ પૂર્વે 517 માં કોની નિમણૂક કરાઈ હતી ?
(A) સીલેક્ષ (Scylax) (B) ઝરસીઝ (Xerxes) (C) સ્ટ્રેબો (Strabo) (D) હેરોડોટસ (Herodotus)
007. અલ્હાબાદના સ્તંભ પર લખાણ (પ્રશસ્તિ) કોના દ્વારા કરવામાં આવ્યું ?
(A) ભવભૂતી (B) કાલીદાસ (C) હરીસેના (D) માઘ
008. ગુપ્તકાળમાં ભુક્તિ (રાજ્ય)ના વહીવટી વડાને _____ કહેવામાં આવતા હતાં.
(A) પરદેશીકા (B) ઉપારીકા (C) રાજુકા (D) મહામાત્ર
009. કનિષ્ઠના સામ્રાજ્યના નીચેના પૈકી કયા બે મહત્વના રાજકીય કેન્દ્રો હતા ?
(A) પુરુશાપુરા અને મથુરા (B) પુરુશાપુરા અને પાટલીપુત્ર
(C) સારનાથ અને શ્રીનગર (D) મથુરા અને સારનાથ
010. વિક્રમાનકાદેવ-ચરિત્ર, વિક્રમાદિત્ય-VI, કલ્યાની ચાલુક્ય રાજા પરની પ્રશસ્તિ કોના દ્વારા લખાયેલ છે ?
(A) રવિકિર્તી (B) બીલ્હાના (C) મંગાલેસા (D) ભાની



001. Which of the following is the largest Harappan site in modern India ?
(A) Sanghol (B) Ropar
(C) Lothal (D) Rakhigarhi
002. In which one of the Indus valley civilization sites is the earliest known evidence of dyeing and embroidery of cotton textiles found ?
(A) Lothal (B) Chanhudaro (C) Dholavira (D) Mohenjodaro
003. Match List – I with List – II and select the correct answer from the codes given below the list

List – I

- a) Rigveda
b) Atharvaveda
c) Samaveda
d) Yajurveda

List – II

- i) A collection of Hymns
ii) A collection of Holy songs
iii) A collection of Spells and charms
iv) A collection of Sacrificial formulas

Codes :

- (A) a-ii, b-i, c-iv, d-iii (B) a-iii, b-ii, c-i, d-iv
(C) a-iv, b-ii, c-iii, d-i (D) a-i, b-iii, c-ii, d-iv
004. The important contribution of Jainism to Indian Philosophy is the doctrine of
(A) Rebirth (B) Karma
(C) Existence of Individual souls (D) Syadvada
005. The 'Four Nobel Truths' are propounded by Buddha are centred upon
(A) Suffering and its extinction (B) Right Action
(C) Ultimate reality (D) Salvation
006. Who among the following was appointed by Darius to explore the valley of the Indus river and its tributaries in 517 BC ?
(A) Scylax (B) Xerxes (C) Strabo (D) Herodotus
007. Allahabad Pillar Inscription (Prashasti) was composed by
(A) Bhavbhuti (B) Kalidasa (C) Harisena (D) Magh
008. The head of the administration of Bhukti (province) in the Gupta period was called
(A) Paradesika (B) Uparika (C) Rajuka (D) Mahamatra
009. Which of the following were the two important political centres of Kanishka's Empire ?
(A) Purushapura and Mathura (B) Purushapura and Pataliputhra
(C) Sarnath and Shrinagar (D) Mathura and Saranath
010. Vikramankadev-Charitra, a eulogistic text on Vikramaditya VI, the Chalukya king of Kalyani is written by
(A) Ravi Kirti (B) Bilhana (C) Mangalesa (D) Bhani



011. યાદી - I ને યાદી - II સાથે જોડી નીચે આપેલ વિકલ્પોમાંથી સાચો જવાબ પસંદ કરો.

યાદી - I

- a) નીકોલો કોન્ટી (Nicolo Conti)
b) ડોમિન્ગો પેસ (Domingos Paes)
c) ઈબ્ન બટુટાહ (Ibn Battutah)
d) એથેનેસીયસ નીકીટીઅન (Athanasius Nikitian)

યાદી - II

- i) મોરક્કન પ્રવાસી (Moroccan Traveller)
ii) વેનીસીયન પ્રવાસી (Venetian Traveller)
iii) રશિયન પ્રવાસી (Russian Traveller)
iv) પોર્ટુગીઝ પ્રવાસી (Portuguese Traveller)

Codes :

(A) a-ii, b-iv, c-i, d-iii (B) a-iii, b-ii, c-iv, d-i (C) a-ii, b-i, c-iv, d-iii (D) a-iv, b-iii, c-ii, d-i

012. એ નગરશેઠ કે જેમણે ઈ.સ.1725 માં અમદાવાદ શહેરને મરાઠાઓ દ્વારા લૂંટાતું બચાવવા માટે પોતાના અંગત ભંડોળમાંથી ખંડણી (Ransom) આપી.

- (A) શેઠ શાંતિદાસ જવાહરી (B) શેઠ લક્ષ્મીચંદ
(C) શેઠ ખુશાલચંદ (D) શેઠ શામલાજી

013. થીયોસોફીકલ સોસાયટીનું મુખ્ય મથક ક્યાં છે ?

- (A) અડયાર (B) પોંડીચેરી (C) બેંગલોર (D) પૂના

014. પારસી સમાજની સેવા કરવા માટે અંગ્રેજ દ્વારા 'ખાન બહાદુર મેડલ' દ્વારા પુરસ્કૃત થનાર જાણીતા અમદાવાદના પારસી ઉદ્યોગપતિનું નામ જણાવો.

- (A) શેઠ નવરોજી પેસ્તનજી વકીલ (B) દાદાભાઈ નવરોજી
(C) ખારશેદજી ફેરદુનજી પારેખ (D) વકીલ બેજાનજી માણેકજી અંકલેસરીયા

015. મલાયા ખાતે 'ઈન્ડીયન નેશનલ આર્મી' (આઈ.એન.એ.) રચવાનો પ્રથમ વિચાર તેમને આવ્યો

- (A) મોહનસિંઘ (B) રાસબેહારી બોઝ
(C) સુભાષચંદ્ર બોઝ (D) નિરંજનસિંઘ ગીલ

016. ગુજરાતમાં મંદીર બાંધવાની અને મૂર્તિઓ બનાવવાની કળા કયા સમુદાય દ્વારા સાચવી રાખવામાં આવી છે ?

- (A) ક્ષત્રિય (B) સોમપુરા (C) ભીલ (D) વૈશ્ય

017. 'ભાવનગર દરબાર સેવિંગ બેંક'ની સ્થાપના કોણે કરી ?

- (A) તખતસિંહજી (B) ભાવસિંહજી - I
(C) ભાવસિંહજી - II (D) કૃષ્ણકુમારસિંહજી

018. 'ધ પ્રોબ્લેમ ઓફ ધ રુપી : ઈટ્સ ઓરીજન એન્ડ ઈટ્સ સોલ્યુશન' ("The Problem of the Rupee : Its Origin and Its Solutions") નામનું પુસ્તક કોણે લખ્યું ?

- (A) ડૉ. બી. આર. આંબેડકર (B) એમ. કે. ગાંધી
(C) રાજગોપાલાચારી ચક્રવર્તી (D) આઈ.જી. પટેલ

019. નીચેના પૈકી કયું સિંધુ ખીણની સંસ્કૃતિનું સ્થળ ઈસુના જન્મ પહેલા સાત હજાર વર્ષથી પ્રવૃત્તિઓ દર્શાવે છે ?

- (A) મોંહે-જો-દરો (B) હડપ્પા (C) ધોળાવીરા (D) મેહરગઢ

020. અર્થશાસ્ત્ર પ્રમાણે, ઉડકા-ભાગા કર શેનો હતો ?

- (A) નાણાકીય કટોકટીની પરિસ્થિતિમાં (B) અભિનેતાઓ, ગાયકો અને ગણીકાઓ પર
(C) રાજ્યની જમીનમાં વાવણી પર (D) સિંચાઈ કાર્યના ઉપયોગ માટે

021. 'સોનધાર' નામની ખેતીવાડી લોન કોણે લાગુ પાડી ?

- (A) અલાઉદ્દીન ખીલજી (B) મોહંમદ તઘલક (C) ફિરુઝ તઘલક (D) મુબારક ખીલજી



011. Match List – I with List – II and select the correct answer from the codes given below the list

List – I

- a) Nicolo Conti
- b) Domingos Paes
- c) Ibn Battutah
- d) Athanasius Nikitian

List – II

- i) Moroccan Traveller
- ii) Venetian Traveller
- iii) Russian Traveller
- iv) Portuguese Traveller

Codes :

(A) a-ii, b-iv, c-i, d-iii (B) a-iii, b-ii, c-iv, d-i (C) a-ii, b-i, c-iv, d-iii (D) a-iv, b-iii, c-ii, d-i

012. The Nagarsheth who intervened to save the city of Ahmedabad from being looted by the Marathas by paying ransom money from his personnel funds in 1725 was
(A) Sheth Santidas Jawahari (B) Sheth Lakshnichand
(C) Sheth Khushalchand (D) Sheth Shamlaji
013. Where is the Headquarter of the Theosophical Society situated ?
(A) Adyar (B) Pondicherry (C) Banglore (D) Pune
014. Name the leading Parsi industrialist of Ahmedabad who was awarded the 'Khan Bahadur Medal' by the English for his services rendered to the Parsi Society
(A) Sheth Naoroji Pestanji Vakil (B) Dadabhai Naoroji
(C) Kharshedji Ferdunji Parekh (D) Vakil Bejanji Manekji Ankleshriya
015. The idea of the Indian National Army (INA) was first conceived in Malaya by
(A) Mohan Singh (B) Rasbehari Bose
(C) Subhas Chandra Bose (D) Niranjana Singh Gill
016. The Art of temple building and making the idols has been preserved by a community in Gujarat Known as
(A) Kshatriyas (B) Sompuras (C) Bhils (D) Vaishyas
017. Who founded 'Bhavnagar Darbar Savings Bank' ?
(A) Takhtasinhji (B) Bhavsinhji-I
(C) Bhavsinhji-II (D) Krishna Kumarsinhji
018. Who wrote a book entitled "The Problem of the Rupee : Its Origin and Its Solutions" ?
(A) Dr. B. R. Ambedkar (B) M. K. Gandhi
(C) Rajagopalachari Chakravarti (D) I. G. Patel
019. Which of the following Indus Valley Civilization site shows continuous occupation from the seventh millennium BC ?
(A) Mohenjodaro (B) Harappa (C) Dholavira (D) Mehrgarh
020. According to the Arthashastra udka-bhaga was a tax levied
(A) In situation of fiscal crisis (B) On actors, singers and prostitutes
(C) Cultivation in crown (D) Use of irrigation works
021. The scheme of extending agricultural loans Sondhar was introduced by
(A) Alauddin Khalji (B) Muhammad Tughlaq (C) Firuz Tughlaq (D) Mubarak Khalji



022. નયનકારા પ્રથા કોનું મહત્વનું લક્ષણ હતું ?
(A) વિજયનગર રાજ્યતંત્રનું (B) કાકટીયા રાજ્યતંત્રનું
(C) હોયસાલ રાજ્યતંત્રનું (D) બહામણી રાજ્યતંત્રનું
023. 1857 ના ભારતના સ્વાતંત્ર્ય સંગ્રામ દરમિયાન ગુજરાતમાં બ્રિટિશ રાજને ગુજરાતના નીચેના પૈકી કયા શાસકોનું સમર્થન મળતું રહ્યું કે જેમાં આમનો સમાવેશ થાય છે ?
i) બરોડાના ગાયકવાડ
ii) ઈડરના રાજા
iii) રાજપીપળાના રાજા
iv) નવાનગરના જામ
v) રાજકોટના ઠાકોર સાહેબ લાખાજી રાજસિંહજી - I
(A) i, ii અને iii (B) i, iii, iv અને v
(C) i, ii, iii અને iv (D) i, ii, iii, iv અને v
024. ગુજરાતના કયા શાસકે મહમ્મદ ઘોરીને મોટી હાર આપી જ્યારે તેણે 1178 માં ગુજરાત પર ચડાઈ કરી ?
(A) ભીમા - I (B) કુમારપાળ
(C) ભીમા - II (ભોલા-ભીમા) (D) કણદેવ
025. ગોપાલકિષ્ણા ગોખલે નીચેના પૈકી કોની સાથે સંકળાયેલ ન હતા ?
(A) સર્વન્ટ્રસ ઓફ ઈન્ડિયન સોસાયટી
(B) રોયલ કમીશન ઓન ઈન્ડિયન લેબર
(C) રોયલ કમીશન ઓન પબ્લીક સર્વીસસ ઈન ઈન્ડિયા
(D) ડેક્કન એજ્યુકેશન સોસાયટી
026. વેદકાળની નદી વિતસ્તાને કઈ આધુનિક નદી તરીકે ઓળખવામાં આવે છે ?
(A) જલમ (B) રાવી (C) ઘગ્ગર-હાકરા (D) સતલજ
027. ભગવાન શંકરના માનમાં ગુપ્તકાળમાં કોણે ઉદયગીરી ગુફા બંધાવી ?
(A) વીરસેન સબા (Virsen Saba) (B) હરીશેના (Harishena)
(C) પર્ણદત્તા (Parnadatta) (D) ચક્રપલિતા (Chakrapalita)
028. કયા ગુપ્ત રાજાએ પોતાના લેખ માટે અશોક સ્તંભનો ઉપયોગ કર્યો ?
(A) ચંદ્રગુપ્ત - I (B) ચંદ્રગુપ્ત - II (C) સમુદ્રગુપ્ત (D) કુમારગુપ્ત - I
029. કયા મઠના બૌદ્ધ સાધુઓએ હ્યુ-એન-સંગને તેના ચીન પહોંચ્યા પછી પત્રો લખ્યા હતાં ?
(A) મહાબોધી મઠ (B) સારનાથ મઠ
(C) સ્થાનવિશ્વર મઠ (D) જલંધર મઠ
030. નીચેના પૈકી કયું જૈન લખાણ નથી ?
(A) આચારાંગ સૂત્ર (B) સૂત્રકીર્તંગ (C) કલ્પસૂત્ર (D) વિશુદ્ધીમાગા
031. 'સચુરઘલ'નો અર્થ શું છે ?
(A) વારસાઈ જમીન (B) ભાડા રહીતની જમીન
(C) વચેટીયાઓને અપાયેલી જમીન (D) પાકની હિસ્સેદારીની શરતે લેવાયેલી જમીન
032. નીચેના પૈકી કોણે કહ્યું કે વેદાંત એ હિન્દુ આધ્યાત્મ અધિકૃતતાની અભિવ્યક્તિ છે ?
(A) વિવેકાનંદ (B) દયાનંદ સૂરસ્વતી
(C) બી. આર. આંબેડકર (D) મહાત્મા હંસરાજ
033. ગદર પાર્ટીની રચના ક્યાં કરવામાં આવી ?
(A) લંડન (B) સીંગાપોર (C) પેરીસ (D) સાન ફ્રાંસિસ્કો



022. The Nayankara system was an important feature of
(A) Vijaynagara polity (B) Kakatiya polity
(C) Hoysala polity (D) Bahamani polity
023. Throughout the Indian war of Independence of 1857 the British in Gujarat enjoyed support from which of the following rulers in Gujarat ?
i) Gaekwads of Baroda
ii) Raja of Idar
iii) Raja of Rajpipla
iv) Jam of Nawanagar
v) Thakore Saheb Lakhaji Rajsinhji-I of Rajkot
(A) i, ii and iii (B) i, iii, iv and v
(C) i, ii, iii and iv (D) i, ii, iii, iv and v
024. Which ruler of Gujarat inflicted a terrible defeat upon Muhammed Ghori who had attacked Gujarat in 1178 AD ?
(A) Bhima-I (B) Kumarapala
(C) Bhima-II (Bhola -Bhima) (D) Karanadeva
025. Gopala Krishna Gokhale was not associated with which of the following
(A) Servants of Indian Society
(B) Royal Commission on Indian Labour
(C) Royal Commission on Public Services in India
(D) Deccan Education Society
026. The Vedic river Vitasta has been identified with which of the following modern river ?
(A) Jhelum (B) Ravi (C) Ghaggar-Hakra (D) Sutlej
027. Who got constructed the Udaigiri Cave during the Gupta Period in honour of Lord Shiva ?
(A) Virsenasaba (B) Harishena
(C) Parnadatta (D) Chakrapalita
028. Which Gupta king used the Ashokan Pillar for executing his own inscription on it ?
(A) Chandragupta-I (B) Chandragupta-II (C) Samudragupta (D) Kumaragupta-I
029. The Buddhist monks of which monastery wrote letters to Hiuen-tsang after he had reached back to China ?
(A) Mahabodhi Monastery (B) Sarnath Monastery
(C) Sthanavishvara Monastery (D) Jalandhar Monastery
030. Which of the following is not a Jain text ?
(A) Acharanga Sutra (B) Sutakritanga (C) Kalpasutra (D) Vissudhimagga
031. What is 'Sayurghal' ?
(A) The hereditary land (B) Rent-free land
(C) Land given to the intermediaries (D) Land taken on terms of share-cropping
032. Among the following who said that the Vedanta was the expression of Hindu spiritual authority ?
(A) Vivekananda (B) Dayanand Saraswati
(C) B. R. Ambedkar (D) Mahatma Hans Raj
033. Where was the Ghadar Party formed ?
(A) London (B) Singapore (C) Paris (D) San Francisco



034. નીચેના પૈકી કયા ઉપનિષદોમાં સત્યકામ જાબાલની વાત આવે છે ?
(A) પ્રશ્ના (B) ઈશા (C) છંદોગ્ય (D) કથા
035. જ્યારે બુદ્ધે મહાપરિનિર્વાણ પ્રાપ્ત કર્યું ત્યારે તેમની સાથે કોણ હતા ?
(A) મુગ્ગલીપટ્ટ તીસા (B) આનંદ (C) ઉપાલી (D) અન્થપીડડા
036. નીચેના પૈકી બે વિધાનો વાંચી સાચો જવાબ પસંદ કરો.
1) ઈ.સ. 323 માં એલેક્ઝાન્ડરનું મૃત્યુ થયું.
2) તેના મૃત્યુ બાદ સિંધુ નદી પરનું ગ્રીકનું વર્ચસ્વ સારા એવા પ્રમાણમાં ઘટી ગયું.
Codes :
(A) વિધાન 1 અને 2 બંને સાચાં (B) વિધાન 1 અને 2 બંને ખોટાં
(C) વિધાન 1 સાચું અને 2 ખોટું (D) વિધાન 1 ખોટું અને 2 સાચું
037. નીચેનામાંથી કયું લખાણ મૌર્ય રાજતંત્રની વિગતવાર માહિતી આપે છે ?
(A) મનુસ્મૃતિ (B) અર્થશાસ્ત્ર (C) નિતીસારા (D) અષ્ટાધ્યાયી
038. મૌર્ય સ્થાપત્ય કોનાથી પ્રભાવિત છે ?
(A) ચીન (B) બર્મા (C) એનાટોલીઆ (D) પર્શિયા
039. ગુપ્તવંશ કોના અનુયાયી તરીકે જાણીતા છે ?
(A) સક્ય સંપ્રદાય (B) ભાગવત સંપ્રદાય
(C) શૈવ સંપ્રદાય (D) સૌર સંપ્રદાય
040. નીચેના પૈકી કયા રાજવંશ સાથે હર્ષવર્ધનને વૈવાહિક સંબંધો હતા ?
(A) રાષ્ટ્રકૂટ (B) ગંગા (C) મૈત્રક (D) ગુપ્ત પછીના
041. નીચેના પૈકી કોણે શૈલેન્દ્ર સામ્રાજ્ય (જે હવે દક્ષિણ-પૂર્વ એશિયામાં છે) પર દરિયાઈ ચડાઈ કરી ?
(A) રાજરાજ ચોલા (B) રાજેન્દ્ર ચોલા
(C) રાજાધીરાજ ચોલા (D) કુલોત્તુંગ ચોલા
042. નીચેનામાંથી કયા મંદિરો સોલંકીકાળના નથી ?
(A) તારંગાના મંદિરો (B) મોઢેરાનું સૂર્ય મંદિર
(C) રુદ્ર મહાલય (D) ગોપનું મંદિર
043. નીચેના સોલંકી રાજાઓને તેમના સમયના ક્રમ પ્રમાણે ગોઠવો.
1) ભીમદેવ - I 2) કુમારપાળ 3) સિદ્ધરાજ 4) દુર્લભરાજ
Codes :
(A) 1, 3, 2, 4 (B) 4, 1, 3, 2 (C) 4, 3, 2, 1 (D) 1, 3, 4, 2
044. ગુજરાતના નીચેના પૈકી કયા સુલ્તાને માળવા જીત્યું ?
(A) અહમદશાહ (B) મહમદ બેગડા (C) બહાદુરશાહ (D) મુઝફ્ફર - II
045. ગુજરાતના કયા રાજાએ 12 મી સદીમાં દારૂના ઉત્પાદન અને વેચાણની તેના રાજ્યમાં મનાઈ ફરમાવી હતી ?
(A) ભીમા - I (B) કર્ણ (C) કુમારપાળ (D) ઝાફરખાન
046. “પૃથ્વી કે જે વિદેશીઓ દ્વારા ત્રસ્ત થયેલ છે તે રક્ષણ અને આશ્રય માગે છે.” (“The earth long harassed by outlanders, now turned for protection and refuge”) આ વાક્ય કોણે કહ્યું ?
(A) એલેક્ઝાન્ડર (B) કૌટીલ્ય (C) અશોક (D) ચંદ્રગુપ્ત મૌર્ય



034. The Story of Satyakama Jabala appears in which of the following Upanishads ?
(A) Prashna (B) Isha (C) Chhandogya (D) Katha
035. Who was by the side of the Buddha when he achieved Mahaparinirvana ?
(A) Moggaliputta Tissa (B) Ananda (C) Upali (D) Anthapindada
036. Read the following two statements and select the correct answer from the codes given below.
1) Alexander died in 323 CE.
2) With his death, the Greek control along the Sindhu river weakened considerably.

Codes :

- (A) Both 1 and 2 are correct (B) Both 1 and 2 are incorrect
(C) 1 is correct but 2 is incorrect (D) 1 is incorrect, 2 is correct
037. Which of the following texts give a detailed information on Mauryan polity ?
(A) Manusmriti (B) Arthashastra (C) Nitisara (D) Ashtadhyayi
038. The Mauryan architecture is said to have been influenced by that of
(A) China (B) Burma (C) Anatolia (D) Persia
039. The Gupta were known adherents of the
(A) Sakya Sampradaya (B) Bhagawata Sampradaya
(C) Shaiva Sampradaya (D) Saura Sampradaya
040. With which of the following dynasties Harshavardana had matrimonial relations ?
(A) Rashtrakutas (B) Gangas (C) Maitrakas (D) Later Guptas
041. Who among the following sent a naval expedition to the Shailendra empire (now in South East Asia) ?
(A) Rajaraja Chola (B) Rajendra Chola
(C) Rajadhiraja Chola (D) Kulottunga Chola
042. Which of the following temples does not belong to Solanki period ?
(A) Taranga Temple (B) Modhera Sun Temple
(C) Rudra Mahalaya (D) Temple at Gop
043. Arrange the following Solanki kings in chronological order and choose the correct answer from the codes given below.
1) Bhimdeva – I 2) Kumarapala 3) Siddharaja 4) Durlabharaja

Codes :

- (A) 1, 3, 2, 4 (B) 4, 1, 3, 2 (C) 4, 3, 2, 1 (D) 1, 3, 4, 2
044. Which of the following Sultans of Gujarat took Malva ?
(A) Ahmad Shah (B) Mahmud Begda (C) Bahadur Shah (D) Muzzaffar – II
045. Which king of Gujarat forbade production or sale of liquor in his Kingdom in 12th century AD ?
(A) Bhima-I (B) Karna (C) Kumarapala (D) Zafar Khan
046. "The earth long harassed by outlanders, now turned for protection and refuge".
Who said it ?
(A) Alexander (B) Kautilya (C) Ashoka (D) Chandragupta Maurya



047. ગુપ્તવંશના કયા સમ્રાટે સૌરાષ્ટ્ર જીત્યું ?
(A) ચંદ્રગુપ્ત - I (B) ઘટોત્કચ (C) ચંદ્રગુપ્ત - II (D) કુમારગુપ્ત - I

048. નીચેના પૈકી કયું જોડકું સાચું નથી ?
(A) પલ્લવોનું રાજચિહ્ન - હાથી
(B) રાષ્ટ્રકૂટ રાજવી કૃષ્ણ પહેલો - ઈલોરાનું કૈલાસ મંદિર
(C) ચૌલ શાસન દરમ્યાન કમ્બને રચ્યું - રામાવતારમ્
(D) તાંજોર - બૃહદેશ્વરનું મંદિર

049. નીચેના પૈકી કયું જોડકું સાચું નથી ?
(A) દુર્ગાવતી - ગોંડવાનાની રાણી (B) ચાંદબીબી - અહમદનગરની શાહજાદી
(C) માહમ અનગા - અકબરની ધાઈમાતા (D) અર્જુનમંદબાનુ - નૂરજહાં

050. યાદી - I માં આપેલ વ્યક્તિઓને યાદી - II માં આપેલ સંસ્થા સાથે જોડો.
યાદી - I

- (a) દેવેન્દ્રનાથ ટાગોર
(b) જ્યોતિબા ફૂલે
(c) દુર્ગારામ મહેતા
(d) શિવનારાયણ અગ્નિહોત્રી

યાદી - II

- i) માનવધર્મસભા
ii) તત્ત્વબોધીની સભા
iii) દેવ સમાજ
iv) સત્યશોધક સભા

Codes :

(A) a-i, b-iii, c-iv, d-ii (B) a-ii, b-iv, c-i, d-iii (C) a-iii, b-ii, c-i, d-iv (D) a-iv, b-iii, c-ii, d-i

051. નીચેના બનાવોને તેના સમયના ક્રમમાં ગોઠવો.

- 1) બીજી ગોળમેજી પરિષદ
2) ચૌરીચૌરાનો બનાવ
3) દાંડીકૂચ
4) જલિયાંવાલા બાગ હત્યાકાંડ

Codes :

(A) 2, 1, 4 અને 3 (B) 4, 2, 3 અને 1 (C) 3, 1, 4 અને 2 (D) 1, 2, 4 અને 3

052. મહાત્મા ગાંધીએ પંજાબના તોફાનો પરના _____ ને “પેજ આફ્ટર પેજ ઓફ થીનલી ડીસગાઈસ્ડ ઓફિશિયલ વ્હાઈટવોશ” (“page after page of thinly disguised official whitewash”) કહ્યો.

- (A) સાઈમન કમીશન (B) હન્ટર કમીશન
(C) અચીસન કમીશન (D) ઉપરના પૈકી કોઈ નહીં

053. તાંજાવુર, તામિલનાડુની જગવિખ્યાત કાંસ્ય પ્રતિમાનું નામ નીચેના પૈકી પસંદ કરો.

- (A) નટરાજ (B) બુદ્ધ (C) તીર્થંકર (D) મહીસાસુર મર્દાની

054. જામનગર જિલ્લામાં આવેલા ગોપ મંદિરો નીચેના પૈકી કઈ સ્થાપત્ય શૈલીના છે ?

- (A) રોમન (B) મુઘલ (C) ચાલુક્ય (D) ઈન્ડો-આર્યન

055. સ્વામી હરિદાસ કઈ ધાર્મિક પ્રણાલીના હતા ?

- (A) ગૌડિયા પ્રણાલી (B) રસિક પ્રણાલી (C) વારકરી પ્રણાલી (D) સખી પ્રણાલી

056. કઈ સંત પ્રણાલી ‘માનેર માનુષ’ના ખ્યાલ પર ભાર મૂકે છે ?

- (A) બાઉલ (B) પંચસખા (C) સહજયાન (D) મહાપુરુષિય

057. પોચમપલ્લી સાડી નીચેના પૈકી કયા રાજ્યમાં વણાય છે ?

- (A) તામિલનાડુ (B) કેરળ (C) કર્ણાટક (D) તેલંગાણા

058. ‘લિક્ષિ ચોખા’ એ કયા રાજ્યની ખાસ વાનગી છે ?

- (A) બિહાર (B) પંજાબ (C) કર્ણાટક (D) હિમાચલ પ્રદેશ



047. Which emperor from Gupta Dynasty conquered Saurashtra ?
(A) Chandragupta – I (B) Ghototkacha (C) Chandragupta – II (D) Kumargupta – I
048. Which of the following pair is not correct ?
(A) Emblem of Pallavas – Elephant
(B) Rashtrakuta King Krishna – I – Kailash Temple of Ellora
(C) Kamban wrote during Chola rule – Ramavataram
(D) Tanjaur – Brihadeshwara temple
049. Which of the following pair is not correct ?
(A) Durgawati – Queen of Gondwana (B) Chandbibi – Princess of Ahmednagar
(C) Maham Anaga – Foster Mother of Akbar (D) Arjumandbanu – Nurjehan
050. Join the persons in List – I with Organizations given in List – II :

List – I

- (a) Devendranath Tagore
(b) Jyotiba Phule
(c) Durgaram Mehta
(d) Shivnarayan Agnihotri

List – II

- i) Manav Dharma Sabha
ii) Tatavabodhini Sabha
iii) Dev Samaj
iv) Satyashodhak Sabha

Codes :

- (A) a-i, b-iii, c-iv, d-ii (B) a-ii, b-iv, c-i, d-iii (C) a-iii, b-ii, c-i, d-iv (D) a-iv, b-iii, c-ii, d-i

051. Arrange the following events in chronological order and choose the correct answer from the codes given below.
1) Second Round Table Conference 2) Event of Chauri Chaura
3) Dandi March 4) Jallianwala Bagh Massacre

Codes :

- (A) 2, 1, 4 and 3 (B) 4, 2, 3 and 1 (C) 3, 1, 4 and 2 (D) 1, 2, 4 and 3

052. Mahatma Gandhi described the _____ on Punjab disturbance as “page after page of thinly disguised official whitewash”.
(A) Simon Commission (B) Hunter Commission
(C) Aitchison Commission (D) None of the above
053. Select from the following name of the world famous metal sculpture of Tanjavur Tamil Nadu.
(A) Natraj (B) Buddha (C) Tirthankar (D) Mahishasura Mardini
054. Which of the following is the architectural style of Gop temple situated in Jamnagar district ?
(A) Roman (B) Mughal (C) Chalukya (D) Indo-Aryan
055. Swami Haridas belonged to which Bhakti cult ?
(A) Gaudiya Cult (B) Rasik Cult (C) Varkari Cult (D) Sakhi Cult
056. Which saint tradition put emphasis on the concept of ‘Maner Manush’ ?
(A) Baul (B) Panchsakha (C) Sahajyan (D) Mahapurushiya
057. In which of the following states are the Pochampally Sarees woven ?
(A) Tamil Nadu (B) Kerala (C) Karnataka (D) Telangana
058. ‘Litty Chokha’ is a special food dish of which state ?
(A) Bihar (B) Punjab (C) Karnataka (D) Himachal Pradesh



059. નીચેના પૈકી કઈ જોડી સાચી નથી ?
(A) નેમીનાથ - કૃષ્ણના પિતરાઈ ભાઈ અરિસ્થનેમિ
(B) મલ્લિનાથ - એકમાત્ર સ્ત્રી તીર્થંકર
(C) પદ્મપ્રભુનાથ - બનારસના રાજા અશ્વસેનના પુત્ર
(D) અણ્ણોજ્જ - મહાવીર સ્વામીની પુત્રી
060. ઉષા, ભગવાન કૃષ્ણના પૌત્રવધૂએ જે નૃત્યની લાસ્ય શૈલીને ખ્યાતનામ કરી, તે કયા નામે ઓળખાય છે ?
(A) મેર રાસ (B) ગરબા (C) ટિપ્પણી (D) ધુમ્મર
061. પંડિત ભીમસેન જોષી કયા 'ઘરાના'ના છે તે જણાવો ?
(A) જયપુર (B) ગ્વાલિયર (C) કિરાના (D) આગ્રા
062. _____, કે જેઓ કુચીપુડી અને ભરતનાટ્યમના રાષ્ટ્રીય નૃત્યકાર છે તેમને ફ્રાન્સનો સર્વોચ્ચ નાગરિક પુરસ્કાર 'પામ દે અર' મળેલ છે.
(A) શોવના નારાયણ (B) મલ્લિકા સારાભાઈ
(C) રુકમણિ દેવી અરુણડેલ (D) સોનલ માનસિંહ
063. નીચેના પૈકી કઈ સંસ્થા દ્વારા રણજીતરામ સુવર્ણચંદ્રક એનાયત કરવામાં આવે છે ?
(A) ગુજરાત વિદ્યાપીઠ (B) ગુજરાત સાહિત્ય અકાદમી
(C) ગુજરાત સાહિત્ય સભા (D) ગુજરાત સાહિત્ય પરિષદ
064. ગુજરાતના કયા શૈક્ષણિક સંકુલ / સંસ્થામાં આદિવાસી સંગ્રહાલય આવેલું છે ?
(A) ગુજરાત યુનિવર્સિટી (B) સૌરાષ્ટ્ર યુનિવર્સિટી
(C) ગોવિંદગુરુ યુનિવર્સિટી (D) ગુજરાત વિદ્યાપીઠ
065. જૂના ગુજરાતી નાટકોમાં, કોનાં નાટકો 'શીખામણિયો' તરીકે ઓળખાતા હતા ?
(A) નૃસિંહ વિભાકર (B) કુલચંદ શાહ
(C) મણિશંકર ભટ્ટ (D) ડાહ્યાભાઈ ધોળશાજી
066. 'પીથોરો' કઈ જાતિના સર્વોચ્ચ ભગવાન છે ?
(A) મીના (B) ગરાસીઆ (C) રાઠવા (D) ધોડિયા
067. 'સતિપતિ સંપ્રદાય' એ કયા રાજ્યનો આદિવાસી સમુદાય છે ?
(A) હિમાચલ પ્રદેશ (B) ગુજરાત (C) કર્ણાટક (D) ઓરિસ્સા
068. સામાજિક-સાંસ્કૃતિક રીતે ખ્યાતનામ એવો આદિવાસીઓનો 'ગોળ - ગધેડા' મેળો ક્યાં ઉજવવામાં આવે છે ?
(A) ડાંગ જિલ્લામાં (B) દાહોદ જિલ્લામાં
(C) વલસાડ જિલ્લામાં (D) પંચમહાલ જિલ્લામાં
069. 'યા હોમ કરીને પડો, ફતેહ છે આગે.' આ પંક્તિ કયા કવિ દ્વારા રચવામાં આવી છે ?
(A) ન્હાનાલાલ (B) ઉમાશંકર જોશી
(C) ઝવેરચંદ મેઘાણી (D) નર્મદ
070. મધ્યકાલીન ગુજરાતી સાહિત્યમાં કોના વિશે એવું કહેવાતું, "રસ નિરુપણમાં કોઈ કવિ તેમના પેંગડામાં પગ નાખી શકે તેમ નથી."
(A) નાકર (B) દયારામ (C) ભાલણ (D) પ્રેમાનંદ
071. 'ઘરતીના ચિત્રકાર' તરીકે કોણ જાણીતા હતા ?
(A) ખોડીદાસ પરમાર (B) છગનભાઈ જાદવ
(C) વાસુદેવ સ્માર્ત (D) કાન્તિભાઈ પરમાર



059. Which of the following pair is not correct ?
(A) Neminath – Krishna's cousin Arishthanemi
(B) Mallinath – The only woman Tirthankar
(C) Padma Prabhunath – Son of Banaras King Ashvasen
(D) Anojja – Daughter of Mahavir Swami
060. Usha, the grand daughter-in-law of Lord Krishna is supposed to have popularized the Lasya form of dance known as
(A) Mer Rass (B) Garba (C) Tippani (D) Ghummar
061. Mention the Gharana of Pandit Bhimsen Joshi.
(A) Jaipur (B) Gwalior (C) Kirana (D) Agra
062. _____, a national Kuchipudi and Bharatnatyam dancer has received the French Palme Dár, the highest civilian award of France.
(A) Shovana Narayan (B) Mallika Sarabhai
(C) Rukmani Devi Arundale (D) Sonal Mansingh
063. Which of the following organization awards Ranjit Ram Gold Medal ?
(A) Gujarat Vidhyapith (B) Gujarat Sahitya Academy
(C) Gujarat Sahitya Sabha (D) Gujarat Sahitya Parishad
064. Which educational Institution is having Adivasi Museum in Gujarat ?
(A) Gujarat University (B) Saurashtra University
(C) Govindguru University (D) Gujarat Vidyapith
065. In old Gujarati Theatre, whose dramas were known as 'Shikhamanio' ?
(A) Nrusinh Vibhakar (B) Phoolchand Shah
(C) Manishankar Bhatt (D) Dahyabhai Dholshaji
066. 'Pithoro' is the supreme god of
(A) Mina (B) Garasia (C) Rathwa (D) Dhodia
067. 'Satipati Sampradaya' is a Tribal community of
(A) Himachal Pradesh (B) Gujarat (C) Karnataka (D) Odissa
068. Where is the socio-culturally famous Adivasi 'GOL-GADHEDA' fair celebrated ?
(A) Dang District (B) Dahod District
(C) Valsad District (D) Panchmahal District
069. Give the name of the poet of this line – 'Ya Hom Karine Pado Fateh Chhe Aage'.
(A) Nanalal (B) Umashankar Joshi
(C) Zaverchand Meghani (D) Narmad
070. For whom it is said in Medieval Gujarati Literature that nobody can compete with him regarding the configuration of 'Rasa' ?
(A) Nakar (B) Dayaram (C) Bhalan (D) Premanand
071. Who is known as 'Dharatina Chitrakar' ?
(A) Khodidas Parmar (B) Chhaganbhai Jadhav
(C) Vasudeo Smart (D) Kantibhai Parmar



072. મીરાંબાઈ કઈ ભક્તિ પરંપરાના હતાં ?
(A) નવધા ભક્તિ
(C) પંચસખા
(B) મધુરા ભક્તિ
(D) સહજ
073. 'સીતાજીની કાંચળી' ના લેખક કોણ છે ?
(A) દિવાળીબાઈ
(C) ક્રિષ્ણાબાઈ
(B) ગૌરીબાઈ
(D) રાધાબાઈ
074. 'પીળું ગુલાબ અને હું'ના નાટ્યકાર કોણ છે ?
(A) મધુ રાય
(C) હસમુખ બારાડી
(B) ચિનુ મોદી
(D) લાભશંકર ઠાકર
075. નીચેના પૈકી કયું જોડકું સાચું નથી ?
(A) સમુદ્રગુપ્ત - આર્યવર્તના નવ રાજાઓને હરાવ્યા
(B) ચંદ્રગુપ્ત બીજો - બલખના વાહલિકોને હરાવ્યા
(C) કુમારગુપ્ત - વિષ્ણુનો ઉપાસક
(D) સ્કંદગુપ્ત - હુણોને હરાવ્યા
076. યાદી - I ને યાદી - II સાથે જોડી નીચે આપેલા વિકલ્પોમાંથી સાચો જવાબ પસંદ કરો.
- | | |
|----------------|------------------------------|
| યાદી - I | યાદી - II |
| 1) લતા મંગેશકર | a) મન તડપત હરિ દર્શન કો આજ |
| 2) મન્નાડે | b) બોલે રે પપીહરા, પપીહરા |
| 3) વાણી જયરામ | c) ઝનક ઝનક તોરી બાજે પાયલિયા |
| 4) મોહમ્મદ રફી | d) ફૂલુ, ફૂલુ બોલે કોયલિયા |
- Codes :
- | | | | |
|-------|---|---|---|
| 1 | 2 | 3 | 4 |
| (A) d | c | a | b |
| (B) d | b | a | c |
| (C) d | a | c | b |
| (D) d | c | b | a |
077. યાદી - I ને યાદી - II સાથે જોડી નીચે આપેલા વિકલ્પોમાંથી સાચો જવાબ પસંદ કરો.
- | | |
|-----------------------------|------------|
| યાદી - I | યાદી - II |
| 1) અપારાવ ભોલાનાથ લાયબ્રેરી | a) રાજકોટ |
| 2) લેંગ લાયબ્રેરી | b) ભાવનગર |
| 3) રાયચંદ દિપચંદ લાયબ્રેરી | c) અમદાવાદ |
| 4) બાર્ટન લાયબ્રેરી | d) ભરૂચ |
- Codes :
- | | |
|------------------------|------------------------|
| (A) 1-a, 2-b, 3-d, 4-c | (B) 1-c, 2-a, 3-d, 4-b |
| (C) 1-b, 2-a, 3-c, 4-d | (D) 1-d, 2-b, 3-c, 4-a |



072. Meerabai belongs to which Bhakti Tradition ?
(A) Navadhabhakti (B) Madhurabhakti
(C) Panchasakha (D) Sahaj
073. Who is the author of 'Sitajini Kanchali' ?
(A) Diwalibai (B) Gauribai
(C) Krishnabai (D) Radhabai
074. Who is the dramatist of 'Pilu Gulab Ane Hun' ?
(A) Madhu Ray (B) Chinu Modi
(C) Has Mukh Baradi (D) Labshankar Thakar
075. Which of the following pair is not correct ?
(A) Samudragupta – Defeated nine Kings of Aryavartha
(B) Chandragupta II – Defeated Wahaliks of Balkh
(C) Kumargupta – Worshipper of Vishnu
(D) Skandagupta – Defeated the Hunas
076. Match List – I with List – II and select the correct answer from the options given below :

List – I

- 1) Lata Mangeshkar
- 2) Mannade
- 3) Vani Jayram
- 4) Mohammed Rafi

List – II

- a) Man tadpat Hari Darshanko Aaj
- b) Bole re Papihara, Papihara
- c) Zanak Zanak Tori Baje Payaliya
- d) Kuhu, Kuhu Bole Koyaliya

Codes :

- | | 1 | 2 | 3 | 4 |
|-----|---|---|---|---|
| (A) | d | c | a | b |
| (B) | d | b | a | c |
| (C) | d | a | c | b |
| (D) | d | c | b | a |

077. Match List – I with List – II and select the correct answer from the options given below :

List – I

- 1) Aparao Bholanath Library
- 2) Lang Library
- 3) Raichand Deepchand Library
- 4) Barton Library

List – II

- a) Rajkot
- b) Bhavnagar
- c) Ahmedabad
- d) Bharuch

Codes :

- | | | | |
|-----|--------------------|-----|--------------------|
| (A) | 1-a, 2-b, 3-d, 4-c | (B) | 1-c, 2-a, 3-d, 4-b |
| (C) | 1-b, 2-a, 3-c, 4-d | (D) | 1-d, 2-b, 3-c, 4-a |



078. યાદી - I ને યાદી - II સાથે જોડી નીચે આપેલા વિકલ્પોમાંથી સાચો જવાબ પસંદ કરો.

યાદી - I

- 1) અટાણે
- 2) વાખ્
- 3) બૂહલુ
- 4) પોયૂરો

યાદી - II

- a) સુરતી બોલી
- b) પટ્ટણી બોલી
- c) સૌરાષ્ટ્રી બોલી
- d) ચરોતરી બોલી

Codes :

- | | 1 | 2 | 3 | 4 |
|-----|---|---|---|---|
| (A) | c | b | d | a |
| (B) | c | a | d | b |
| (C) | c | d | a | b |
| (D) | c | a | b | d |

079. યાદી - I ને યાદી - II સાથે જોડી નીચે આપેલા વિકલ્પોમાંથી સાચો જવાબ પસંદ કરો.

યાદી - I

- 1) ચંદ્રવદન મહેતા
- 2) નૃસિંહ વિભાકર
- 3) રણછોડભાઈ ઉદયરામ
- 4) દલપતરામ

યાદી - II

- a) અબજોનાં બંધન
- b) આગગાડી
- c) મિથ્યાભિમાન
- d) લલિતાદુઃખદર્શક

Codes :

- | | 1 | 2 | 3 | 4 |
|-----|---|---|---|---|
| (A) | b | d | c | a |
| (B) | b | c | d | a |
| (C) | b | a | d | c |
| (D) | b | d | a | c |

080. યાદી - I ને યાદી - II સાથે જોડી નીચે આપેલા વિકલ્પોમાંથી સાચો જવાબ પસંદ કરો.

યાદી - I

- 1) મુંબઈ
- 2) મોરબી
- 3) અમદાવાદ
- 4) સુરત

યાદી - II

- a) આર્યસુબોધક નાટક મંડળી
- b) દેશી નાટક સમાજ
- c) લક્ષ્મી-વિજય નાટક મંડળી
- d) બોમ્બે ગ્રીન થીયેટર

Codes :

- | | 1 | 2 | 3 | 4 |
|-----|---|---|---|---|
| (A) | d | c | a | b |
| (B) | d | a | b | c |
| (C) | d | b | c | a |
| (D) | d | c | b | a |



078. Match List – I with List – II and select the correct answer from the options given below :

List – I

- 1) Atane
- 2) Vakh
- 3) Buhalu
- 4) Poyro

List – II

- a) Surati Dialect
- b) Pattani Dialect
- c) Saurashtri Dialect
- d) Charotari Dialect

Codes :

- | | 1 | 2 | 3 | 4 |
|-----|---|---|---|---|
| (A) | c | b | d | a |
| (B) | c | a | d | b |
| (C) | c | d | a | b |
| (D) | c | a | b | d |

079. Match List – I with List – II and select the correct answer from the options given below :

List – I

- 1) Chandravadan Mehta
- 2) Nrusinh Vibhakar
- 3) Ranchhodbhai Udayram
- 4) Dalpatram

List – II

- a) Abajonan Bandhan
- b) Aaggadi
- c) Mithyabhiman
- d) Lalithadukh Darshak

Codes :

- | | 1 | 2 | 3 | 4 |
|-----|---|---|---|---|
| (A) | b | d | c | a |
| (B) | b | c | d | a |
| (C) | b | a | d | c |
| (D) | b | d | a | c |

080. Match List – I with List – II and select the correct answer from the options given below :

List – I

- 1) Mumbai
- 2) Morbi
- 3) Ahmedabad
- 4) Surat

List – II

- a) Aryasubodhak Natak Mandali
- b) Deshi Natak Samaj
- c) Laxmi-Vijay Natak Mandali
- d) Bombay Green Theatre

Codes :

- | | 1 | 2 | 3 | 4 |
|-----|---|---|---|---|
| (A) | d | c | a | b |
| (B) | d | a | b | c |
| (C) | d | b | c | a |
| (D) | d | c | b | a |



081. યાદી - I ને યાદી - II સાથે જોડી નીચે આપેલા વિકલ્પોમાંથી સાચો જવાબ પસંદ કરો.

યાદી - I

- 1) તિમિરપંથી
- 2) વાદ
- 3) વિજય બાહુબલિ
- 4) બદલાતાં સરનામાં

યાદી - II

- a) ઈલા આરબ મહેતા
- b) ધ્રુવ ભટ્ટ
- c) ચિનુ મોદી
- d) રઘુવીર ચૌધરી

Codes :

1	2	3	4
(A) b	c	a	d
(B) b	a	d	c
(C) b	d	c	a
(D) b	d	a	c

082. યાદી - I ને યાદી - II સાથે જોડી નીચે આપેલા વિકલ્પોમાંથી સાચો જવાબ પસંદ કરો.

યાદી - I

- 1) પરબ
- 2) કુમાર
- 3) શબ્દસૃષ્ટિ
- 4) બુદ્ધિ પ્રકાશ

યાદી - II

- a) ગુજરાત વિદ્યા સભા
- b) ગુજરાત સાહિત્ય અકાદમી
- c) ગુજરાત સાહિત્ય પરિષદ
- d) કુમાર ટ્રસ્ટ

Codes :

1	2	3	4
(A) c	a	d	b
(B) c	b	a	d
(C) c	d	b	a
(D) c	a	b	d

083. વોટસન સંગ્રહાલય ક્યાં આવેલું છે ?

- (A) રાજકોટ
- (B) વડોદરા
- (C) પોરબંદર
- (D) પાટણ

084. બંને વિધાનો વાંચો અને નીચે આપેલા વિકલ્પો પૈકી સાચો જવાબ પસંદ કરો.

- 1) રણછોડભાઈ ઉદયરામ 'રણછોડ આમલીખાઉ' તરીકે જાણીતા છે.
 - 2) 'લક્ષ્મી વિજય ડ્રામા ગ્રુપ'ના સભ્ય રણછોડદાસ ગુજરાતી નાટકના શેક્સપિયર તરીકે ખ્યાતનામ છે.
- (A) 1 સાચું અને 2 ખોટું છે
 - (B) 1 અને 2 બંને સાચાં છે
 - (C) 1 અને 2 બંને ખોટાં છે
 - (D) 1 ખોટું છે અને 2 સાચું છે



081. Match List – I with List – II and select the correct answer from the options given below :

List – I

- 1) Timirpanthi
- 2) Vaad
- 3) Vijay Bahubali
- 4) Badlatan Sarnama

List – II

- a) Ila Arab Mehata
- b) Dhruv Bhatt
- c) Chinu Modi
- d) Raghuvir Chaudhari

Codes :

- | | 1 | 2 | 3 | 4 |
|-----|---|---|---|---|
| (A) | b | c | a | d |
| (B) | b | a | d | c |
| (C) | b | d | c | a |
| (D) | b | d | a | c |

082. Match List – I with List – II and select the correct answer from the options given below :

List – I

- 1) Parab
- 2) Kumar
- 3) Shabda Shrushti
- 4) Buddhiprakash

List – II

- a) Gujarat Vidhya Sabha
- b) Gujarat Sahitya Academy
- c) Gujarat Sahitya Parishad
- d) Kumar Trust

Codes :

- | | 1 | 2 | 3 | 4 |
|-----|---|---|---|---|
| (A) | c | a | d | b |
| (B) | c | b | a | d |
| (C) | c | d | b | a |
| (D) | c | a | b | d |

083. Where is Watson Museum situated ?

- | | |
|---------------|--------------|
| (A) Rajkot | (B) Vadodara |
| (C) Porbandar | (D) Patan |

084. Read both sentences and select the correct answer from the options given below :

- 1) Ranchhodbhai Udayram is known as “Ranchhod Amalikhao”
 - 2) A member of “Laxmi Vijay Drama Group” Ranchhoddas is famous as the Shakespeare of Gujarati Drama.
- | | |
|-------------------------------|-------------------------------|
| (A) 1 is right and 2 is wrong | (B) 1 and 2 are right |
| (C) 1 and 2 are wrong | (D) 1 is wrong and 2 is right |



085. યાદી - I ને યાદી - II સાથે જોડી નીચે આપેલા વિકલ્પોમાંથી સાચો જવાબ પસંદ કરો.

યાદી - I

- 1) ભીંતચિત્રકામ
- 2) પિંછવાઈ
- 3) પોથીચિત્ર
- 4) કાંસ્ય મૂર્તિકલા

યાદી - II

- a) નટરાજ
- b) વસંતવિલાસ
- c) ચિત્ર સેવા
- d) પદ્મપાણી

Codes :

- | | 1 | 2 | 3 | 4 |
|-----|---|---|---|---|
| (A) | d | c | b | a |
| (B) | d | b | c | a |
| (C) | d | a | c | b |
| (D) | d | b | a | c |

086. યાદી - I ને યાદી - II સાથે જોડી નીચે આપેલા વિકલ્પોમાંથી સાચો જવાબ પસંદ કરો.

યાદી - I

- 1) નદી કે દ્વીપ
- 2) સરસ્વતીચંદ્ર
- 3) યયાતિ
- 4) ગીતાંજલિ

યાદી - II

- a) ગોવર્ધનરામ ત્રિપાઠી
- b) અજોય
- c) રવીન્દ્રનાથ ટાગોર
- d) વી. એસ. ખાંડેકર

Codes :

- | | 1 | 2 | 3 | 4 |
|-----|---|---|---|---|
| (A) | b | d | c | a |
| (B) | b | a | c | d |
| (C) | b | c | a | d |
| (D) | b | a | d | c |

087. યાદી - I ને યાદી - II સાથે જોડી નીચે આપેલા વિકલ્પોમાંથી સાચો જવાબ પસંદ કરો.

યાદી - I

- 1) કબીર
- 2) ગુરૂ નાનક
- 3) દાદૂ દયાલ
- 4) મીરાં

યાદી - II

- a) પુરન બ્રહ્મ વિચારીયે જબ સકલ આત્મા એક
- b) મેરે તો ગિરિધર ગોપાલ, દુસરો ના કોઈ
- c) ઢાઈ અક્ષર પ્રેમકે, પઢે સો પંડિત હોઈ
- d) અવિગતિ નિરમૈલી ઉપજે નિરગુણ તે સગુણ થીયા

Codes :

- | | 1 | 2 | 3 | 4 |
|-----|---|---|---|---|
| (A) | c | b | d | a |
| (B) | c | b | a | d |
| (C) | c | d | a | b |
| (D) | c | a | b | d |



085. Match List – I with List – II and select the correct answer from the options given below :

List – I

- 1) Wall painting
- 2) Pichhavai
- 3) Pothichitra
- 4) Metal Sculpture

List – II

- a) Natraj
- b) Vasant Vilas
- c) Chitra Seva
- d) Padmapani

Codes :

- | | 1 | 2 | 3 | 4 |
|-----|---|---|---|---|
| (A) | d | c | b | a |
| (B) | d | b | c | a |
| (C) | d | a | c | b |
| (D) | d | b | a | c |

086. Match List – I with List – II and select the correct answer from the options given below :

List – I

- 1) Nadi Ke Dwip
- 2) Saraswatichandra
- 3) Yayati
- 4) Geetanjali

List – II

- a) Govardhanram Tripathi
- b) Agyeya
- c) Rabindranath Tagore
- d) V. S. Khandekar

Codes :

- | | 1 | 2 | 3 | 4 |
|-----|---|---|---|---|
| (A) | b | d | c | a |
| (B) | b | a | c | d |
| (C) | b | c | a | d |
| (D) | b | a | d | c |

087. Match List – I with List – II and select the correct answer from the options given below :

List – I

- 1) Kabir
- 2) Guru Nanak
- 3) Dadu Dayal
- 4) Meera

List – II

- a) Puran Brahma Vicharie Jab Sakal Atma ek
- b) Mere To Giridhar Gopal, Dusro Naa Koi
- c) Dhai Akshar Premke Padhe So Pandit Hoye
- d) Avigati Nirmaili Upaje Niragun Te Saragun Thia

Codes :

- | | 1 | 2 | 3 | 4 |
|-----|---|---|---|---|
| (A) | c | b | d | a |
| (B) | c | b | a | d |
| (C) | c | d | a | b |
| (D) | c | a | b | d |



088. યાદી - I ને યાદી - II સાથે જોડી નીચે આપેલા વિકલ્પોમાંથી સાચો જવાબ પસંદ કરો.

યાદી - I

- 1) વિશ્વમોહન
- 2) ઝાકીર હુસૈન
- 3) મંજુ મહેતા
- 4) અમાન અલીખાન

યાદી - II

- a) સરોદ
- b) સિતાર
- c) તબલા
- d) મોહનવીણા

Codes :

	1	2	3	4
(A)	d	b	a	c
(B)	d	c	b	a
(C)	d	a	b	c
(D)	d	b	c	a

089. યાદી - I ને યાદી - II સાથે જોડી નીચે આપેલા વિકલ્પોમાંથી સાચો જવાબ પસંદ કરો.

યાદી - I

- 1) પરબ
- 2) તથાપિ
- 3) કવિલોક
- 4) નવનીત-સમર્પણ

યાદી - II

- a) યોગેશ જોશી
- b) જયેશ ભોગાયતા
- c) ધીરૂ પરીખ
- d) દીપક દોશી

Codes :

	1	2	3	4
(A)	a	d	c	b
(B)	a	c	b	d
(C)	a	b	c	d
(D)	a	d	b	c

090. કાઠીયાવાડના શાહજહાં તરીકે કોણ ઓળખાય છે ?

- (A) ગોંડલના ભગવતસિંહજી (Bhagvatsinhji of Gondal)
- (B) રાજકોટના લાખાધિરાજ (Lakhadhiraj of Rajkot)
- (C) નવાનગરના રણજિતસિંહજી (Ranjeetsinhji of Navanagar)
- (D) મોરબીના વાઘજી-II (Waghji-II of Morbi)

091. યાદી - I ને યાદી - II સાથે જોડી નીચે આપેલા વિકલ્પોમાંથી સાચો જવાબ પસંદ કરો.

યાદી - I

- 1) બાટીક શૈલી
- 2) ગોંદ ચિત્રકલા
- 3) કલમકારી ચિત્રકલા
- 4) પટચિત્રા ચિત્રકલા

યાદી - II

- a) ઓરિસ્સા
- b) બંગાળ
- c) મધ્યપ્રદેશ
- d) આંધ્રપ્રદેશ

Codes :

	1	2	3	4
(A)	b	a	c	d
(B)	b	c	d	a
(C)	b	d	c	a
(D)	b	a	d	c



088. Match List – I with List – II and select the correct answer from the options given below :

List – I

- 1) Vishvamohan
- 2) Zakir Hussain
- 3) Manju Mehta
- 4) Aman Ali Khan

List – II

- a) Sarod
- b) Sitar
- c) Tabla
- d) Mohan Veena

Codes :

- | | 1 | 2 | 3 | 4 |
|------------|----------|----------|----------|----------|
| (A) | d | b | a | c |
| (B) | d | c | b | a |
| (C) | d | a | b | c |
| (D) | d | b | c | a |

089. Match List – I with List – II and select the correct answer from the options given below :

List – I

- 1) Parab
- 2) Tathapi
- 3) Kavilok
- 4) Navneet-Samarpan

List – II

- a) Yogesh Joshi
- b) Jayesh Bhoayata
- c) Dhiru Parikh
- d) Dipak Doshi

Codes :

- | | 1 | 2 | 3 | 4 |
|------------|----------|----------|----------|----------|
| (A) | a | d | c | b |
| (B) | a | c | b | d |
| (C) | a | b | c | d |
| (D) | a | d | b | c |

090. Who was called Shah Jahan of Kathiavar ?

- (A) Bhagvatsinhji of Gondal
- (B) Lakhadhiraj of Rajkot
- (C) Ranjeetsinhji of Navanagar
- (D) Waghji-II of Morbi**

091. Match List – I with List – II and select the correct answer from the options given below :

List – I

- 1) Batik Style
- 2) Gonda Painting
- 3) Kalamkari Painting
- 4) Patchitra Painting

List – II

- a) Orissa
- b) Bengal
- c) Madhya Pradesh
- d) Andhra Pradesh

Codes :

- | | 1 | 2 | 3 | 4 |
|------------|----------|----------|----------|----------|
| (A) | b | a | c | d |
| (B) | b | c | d | a |
| (C) | b | d | c | a |
| (D) | b | a | d | c |



092. યાદી - I ને યાદી - II સાથે જોડી નીચે આપેલા વિકલ્પોમાંથી સાચો જવાબ પસંદ કરો.

- | યાદી - I | યાદી - II |
|---------------------|------------------|
| 1) દલપતરામ | a) કૃષ્ણાકુમારી |
| 2) નગીનદાસ મારફતીયા | b) ભટનું ભોપાળું |
| 3) નવલરામ પંડ્યા | c) ગુલાબ |
| 4) નર્મદ | d) લક્ષ્મી |

Codes :

- | 1 | 2 | 3 | 4 |
|-------|---|---|---|
| (A) d | b | a | c |
| (B) d | c | a | b |
| (C) d | a | b | c |
| (D) d | c | b | a |

093. યાદી - I ને યાદી - II સાથે જોડી નીચે આપેલા વિકલ્પોમાંથી સાચો જવાબ પસંદ કરો.

- | યાદી - I | યાદી - II |
|----------------------|--------------------------------|
| 1) ગુલામ મોહમ્મદ શેખ | a) બનારસ ડાયરી |
| 2) સિતાંશુ યશચંદ્ર | b) તડકો |
| 3) લાભશંકર ઠાકર | c) જટાયુ |
| 4) હરીશ મીનાશ્વ | d) પિત્તળની ચામડીનો બોદો રણકાર |

Codes :

- | 1 | 2 | 3 | 4 |
|-------|---|---|---|
| (A) d | c | b | a |
| (B) d | a | b | c |
| (C) d | b | c | a |
| (D) d | a | c | b |

094. નીચેનામાંથી કઈ હસ્તપત્ર તેના લઘુચિત્રો માટે જાણીતી છે ?

- (A) કલ્પસૂત્ર (B) રામાયણ (C) જાતકકથાઓ (D) મહાભારત

095. નાટ્યશાસ્ત્ર કોણે લખ્યું છે ?

- (A) સારંગદેવ (B) અબોબલ (C) ભરત મુની (D) માતંગ

096. 'અજરખ' છાપકામ શેના ઉપર થાય છે ?

- (A) કાપડ (B) સીરામીક (C) ટેરાકોટા (D) ધાતુના બીબાકામ

097. આઈ.આઈ.એમ. અમદાવાદ ના આર્કિટેક્ટ

- (A) ચાર્લ્સ કોરીયા (Charles Correa) (B) લુઈસ કહાન (Louis Kahn (Louis Kahn))
(C) હાફિઝ કોન્ટ્રાક્ટર (Hafiz Contractor) (D) ફ્રેંક ગહરી (Frank Gehry)

098. "જનતા વોચ" કોને દોરી હતી ?

- (A) ગુલામ મહમ્મદ શેખ (B) ભૂપેન બખ્ષર
(C) જેરામ પટેલ (D) નસરીન મોહમદી

099. કચ્છ વિતચિત્ર કહેવાય _____ છે.

- (A) અસુરનીસીરપાલ (B) કામણગારી (C) મેનેસ (D) અસુરબનીપાલ

100. વિતચિત્ર એટલે

- (A) કપડા પરનું ચિત્ર (B) સીલ્ક સ્ક્રીન (Silk Screen)
(C) છત પરનું ચિત્રકામ (D) વુડકટ (Woodcut)

101. નીચેનામાંથી કયો રાગ વહેલી સવારે ગાવામાં આવે છે ?

- (A) તોડી (B) દરબારી (C) મલ્હાર (D) ભોપાલી



092. Match List – I with List – II and select the correct answer from the options given below :

List – I

- 1) Dalpatram
- 2) Naginda Marfatiya
- 3) Navalram Pandya
- 4) Narmad

List – II

- a) Krishna Kumari
- b) Bhatnu Bhopalu
- c) Gulab
- d) Laxmi

Codes :

- | | 1 | 2 | 3 | 4 |
|-----|---|---|---|---|
| (A) | d | b | a | c |
| (B) | d | c | a | b |
| (C) | d | a | b | c |
| (D) | d | c | b | a |

093. Match List – I with List – II and select the correct answer from the options given below :

List – I

- 1) Gulam Mohammad Shaikh
- 2) Sitanshu Yashschandra
- 3) Labshankar Thaker
- 4) Harish Minashru

List – II

- a) Banaras dairy
- b) Tadako
- c) Jatayu
- d) Pittalani Chamdino Bodo Rankar

Codes :

- | | 1 | 2 | 3 | 4 |
|-----|---|---|---|---|
| (A) | d | c | b | a |
| (B) | d | a | b | c |
| (C) | d | b | c | a |
| (D) | d | a | c | b |

094. Which of the following Manuscript is famous for its miniature paintings ?

- (A) Kalpasutra (B) Ramayana (C) Jataka Stories (D) Mahabharata

095. Who wrote Natya Shastra ?

- (A) Sarangdev (B) Abobal (C) Bharatmuni (D) Matang

096. 'Ajarakh' block printing belongs to

- (A) Textile (B) Ceramic (C) Terracotta (D) Metal Casting

097. Architect of IIM Ahmedabad is

- (A) Charles Correa (B) Louis Kahan (Louis Kahn)
(C) Hafiz Contractor (D) Frank Gehry

098. 'Janata Watch' is painted by

- (A) Gulam Mohammed Sheikh (B) Bhupen Khakhar
(C) Jeram Patel (D) Naasarin Mohammedi

099. Kutch Mural is known as

- (A) Asurnisirpal (B) Kamangari (C) Menes (D) Asurbanipal

100. Vitanchitra means

- (A) Cloth painting (B) Silk screen
(C) Ceiling Painting (D) Woodcut

101. Which of the following ragas is sung early in the morning ?

- (A) Todi (B) Darbari (C) Malhar (D) Bhopali



102. ભારતની રાષ્ટ્રપતિની ચૂંટણીમાં દરેક સંસદ સભ્યના મતનું મૂલ્ય કેટલું છે ?
(A) 4844 (B) 2414 (C) 908 (D) 708
103. કોમનવેલ્થમાંથી બહાર નીકળી જનાર છેલ્લો દેશ _____ છે.
(A) ગામ્બિયા (B) સિંગાપુર (C) માલદિવ (D) બેલ્જિયમ
104. સેન્ટ્રલ બ્યુરો ઓફ ઇન્વેસ્ટીગેશન (C.B.I.) નીચેના પૈકી કયા મંત્રાલય હેઠળ કાર્ય કરે છે ?
(A) ગૃહ મંત્રી (B) પી.એમ.ઓ.
(C) કેબિનેટ મંત્રાલય (D) પરસોનેલ, પેન્શન એન્ડ પબ્લીક ગ્રીવયન્સ
105. સંસદના ગૃહો દ્વારા નાણાકીય કટોકટીની ઉદ્દોષણાને માન્ય રાખવામાં આવેલ હોય, તે સિવાય _____ ની મુદત પૂરી થયે તે અમલમાં રહેશે નહીં.
(A) 6 મહિના (B) 1 વર્ષ (C) 3 મહિના (D) 2 મહિના
106. નાણાકીય વર્ષ જાન્યુઆરીથી ડિસેમ્બર માટેના બદલાવની ભલામણ કરનાર સરકાર દ્વારા નિયુક્ત થયેલ સમિતિના અધ્યક્ષ કોણ હતા ?
(A) શંકર આચાર્ય (B) અરૂણ જેટલી
(C) હસમુખ અદિયા (D) પી. વી. રાજારામન
107. નાગરિકત્વ (સુધારા) ધારો-2005 અન્વયે નીચેના પૈકી શું દાખલ કરવામાં આવ્યું ?
(A) દ્વિ-નાગરિકત્વ (Dual Citizenship) (B) બહુવિધ નાગરિકત્વ (Multiple Citizenship)
(C) વિદેશી નાગરિકત્વ (Overseas Citizenship) (D) ઉપરના પૈકી કોઈ નહીં
108. એકમાત્ર કિસ્સો કે જ્યારે ભારતના રાષ્ટ્રપતિએ પોતાની “વીટો”ની સત્તાનો (Power of Veto) ઉપયોગ કર્યો તે કઈ બાબત હતી ?
(A) ધ હિન્દુ કોડ બિલ (The Hindu Code Bill)
(B) PEPSU એપ્રોપ્રિએશન બિલ (PEPSU Appropriation Bill)
(C) ધ ઇન્ડિયન પોસ્ટ ઓફીસ બિલ (એમેન્ડમેન્ટ) (The Indian Post Office Bill) (Amendment)
(D) ધ ડાવરી પ્રોહિબીશન બિલ (The Dowry Prohibition Bill)
109. નીચેના પૈકી કોણે જાહેર કર્યું કે, “રાષ્ટ્રની આર્થિક અને સામાજિક કલ્યાણ નીતિઓની જવાબદારી અદાલતો પાસે નહીં, સંસદ પાસે હોવી જોઈએ”.
(A) મહાત્મા ગાંધી (B) જવાહરલાલ નહેરુ
(C) આંબેડકર (D) ઈન્દિરા ગાંધી
110. બળવંતરાય મહેતા સમિતિ અનુસાર જિલ્લા કલેક્ટર
(A) જિલ્લા પંચાયતમાંથી બહાર રાખવા જોઈએ
(B) જિલ્લા પંચાયતના મત ન આપનારા સભ્ય હોવા જોઈએ
(C) જિલ્લા પંચાયતના મત આપવાનો હક્ક ધરાવતા સભ્ય હોવા જોઈએ
(D) જિલ્લા પંચાયતના અધ્યક્ષ હોવા જોઈએ
111. Prevention of Money Laundering Act, 2002 ની અમલવારીની જવાબદારી નાણા મંત્રાલયના નીચેના પૈકી કયા વિભાગની છે ?
(A) વ્યય (ખર્ચ) વિભાગ (B) રાજસ્વ (મહેસૂલ) વિભાગ
(C) વિત્તીય (નાણાકીય) સેવાઓ વિભાગ (D) આર્થિક બાબતોનો વિભાગ



102. What is the vote value of each Parliament member in the president elections of India ?
(A) 4844 (B) 2414 (C) 908 (D) 708
103. The latest country to quit the Commonwealth is
(A) Gambia (B) Singapore (C) Maldives (D) Belgium
104. Under which of the following ministry does the Central Bureau of Investigation (C.B.I.) functions ?
(A) Home Affairs (B) P.M.O.
(C) Cabinet Secretariat (D) Personnel, Pensions and Public grievances
105. Unless the proclamation of Financial emergency is approved by the houses of Parliament it ceases to operate at the expiration of
(A) 6 months (B) 1 year (C) 3 months (D) 2 months
106. Who was the Chairman of a government appointed committee which recommended to shift to a January to December financial year ?
(A) Shankar Acharya (B) Arun Jaitely
(C) Hasmukh Adiya (D) P. V. Rajaraman
107. Which of the following is introduced by the Citizenship (Amendment) Act, 2005 ?
(A) Dual Citizenship (B) Multiple Citizenship
(C) Overseas Citizenship (D) None of the above
108. The only instance when the president of India exercised his power of veto related to
(A) The Hindu Code Bill
(B) PEPSU Appropriation Bill
(C) The Indian Post Office Bill (Amendment)
(D) The Dowry Prohibition Bill
109. Who among the following declared that "The responsibility for the economic and social welfare policies of the nation should lie with Parliament and not with the courts" ?
(A) Mahatma Gandhi (B) Jawahar Lal Nehru
(C) Ambedkar (D) Indira Gandhi
110. According to the Balwantrai Mehata Committee, the district collector should be :
(A) Kept out of District Panchayat
(B) A non voting member of the District Panchayat
(C) A member of District Panchayat with right to vote
(D) The Chairman of District Panchayat
111. The execution of Prevention of Money Laundering Act, 2002 is the responsibility of which of the following department of the ministry of Finance ?
(A) Department of Expenditure (B) Department of Revenue
(C) Department of Financial Services (D) Department of Economic affairs



112. નીચેના પૈકી કયું વિધાન નેશનલ ગ્રીન ટ્રાઈબ્યુનલ (National Green Tribunal) બાબતે સાચું નથી ?
(A) ટ્રાઈબ્યુનલ દિવાની કાર્યરીતિ અધિનિયમ, 1908 હેઠળ કાર્યવાહીને આધિન રહેશે
(B) દિલ્હી ઉપરાંત, ટ્રાઈબ્યુનલની બેઠકોના ચાર સ્થળ ભોપાલ, પૂના, કલકત્તા અને ચેન્નાઈ હશે
(C) NGT એ અર્ધ-ન્યાયિક સંસ્થા છે
(D) NGT ની સ્થાપના નેશનલ ગ્રીન ટ્રાઈબ્યુનલ એક્ટ, 2010 અન્વયે કરવામાં આવી
113. નીચેની પૈકી બાબતોને લોકસભાની દૈનિક કાર્યવાહી ક્રમમાં ગોઠવો.
1) શૂન્યકાળ (Zero Hour)
2) પ્રશ્નોત્તરીકાળ (Question Hour)
3) ગૃહની કાર્યસૂચિ (Agenda of the House)
(A) 1, 2, 3 (B) 2, 3, 1 (C) 2, 1, 3 (D) 1, 3, 2
114. કયા બંધારણીય સુધારા અધિનિયમે બે કે તેથી વધુ રાજ્યો માટે રાજ્યપાલની નિમણૂંક કરવી શક્ય બનાવી ?
(A) પાંચમો બંધારણીય સુધારા અધિનિયમ (B) છઠ્ઠો બંધારણીય સુધારા અધિનિયમ
(C) સાતમો બંધારણીય સુધારા અધિનિયમ (D) આઠમો બંધારણીય સુધારા અધિનિયમ
115. નીચેના પૈકી કોનો ભારતની સર્વોચ્ચ અદાલતના મૂળભૂત અધિકારક્ષેત્રમાં સમાવેશ કરેલો છે ?
(A) ભારત સરકાર અને એક કે વધુ રાજ્યોની વચ્ચેના વિવાદો
(B) સંસદના કોઈપણ ગૃહ અથવા રાજ્યની વિધાનસભાની ચૂંટણીઓના વિવાદો
(C) ભારત સરકાર અને કેન્દ્રશાસિત પ્રદેશ વચ્ચેના વિવાદો
(D) બે કેન્દ્રશાસિત પ્રદેશો વચ્ચેના વિવાદો
116. બંધારણની કઈ અનુસૂચિ ઘણા રાજ્યોમાં અનુસૂચિત વિસ્તારોના વહીવટ અને નિયમન માટેની ખાસ જોગવાઈઓને લગતી છે ?
(A) ત્રીજી અનુસૂચિ (B) દશમી અનુસૂચિ (C) પાંચમી અનુસૂચિ (D) નવમી અનુસૂચિ
117. કેન્દ્રીય તકેદારી કમિશનરની પસંદગી માટેની પસંદગી સમિતિના કોણ સભ્ય નથી ?
(A) વડાપ્રધાન (B) ગૃહમંત્રી
(C) ભારતના મુખ્ય ન્યાયમૂર્તિ (D) લોકસભાના વિરોધપક્ષના નેતા
118. સંસદ અને રાજ્યની વિધાનસભાની એક સાથે ચૂંટણી યોજવા અંગેનું સૂચન કરનાર સંસદની સ્ટેન્ડિંગ સમિતિના અધ્યક્ષ કોણ હતા ?
(A) મુરલી મનોહર જોશી (B) ઈ. એમ. એસ. નચીએપ્પન
(C) પી. ચિદમ્બરમ (D) એન. ચંદ્રાબાબુ નાયડુ
119. અલાયદા રેલવે અંદાજપત્રની પરંપરા 2016 સુધી પ્રચલિત હતી. અલાયદા રેલવે અંદાજપત્રની પરંપરા ક્યારથી શરૂ થઈ હતી ?
(A) 1853 (B) 1909 (C) 1921 (D) 1951
120. નીચેના પૈકી કયું વિધાન શિક્ષણનો અધિકાર, 2009 બાબતે સાચું નથી ?
(A) શારીરિક સજા અને માનસિક કનડગત પર પ્રતિબંધ
(B) કેપીટેશન ફી પર પ્રતિબંધ
(C) રાષ્ટ્રીય અને રાજ્ય સલાહકાર પરિષદોની રચનાની જોગવાઈ
(D) ઉપરના પૈકી કોઈ નહીં
121. 'લોકપાલ' શબ્દ સૌ પ્રથમવાર કોના દ્વારા પ્રયોજવામાં આવ્યો ?
(A) જસ્ટિસ હરિલાલ જે. કાનિયા (B) જસ્ટિસ પી. બી. ગજેન્દ્ર ગડકર
(C) નાથપાઈ (D) એલ. એમ. સિંઘવી



112. Which of the following statement is incorrect about National Green Tribunal ?
(A) The tribunal shall be bound by the procedure laid down under the Code of Civil Procedure, 1908
(B) In addition to Delhi, Bhopal, Pune, Kolkata and Chennai shall be the other four places of the sitting of the tribunal
(C) NGT is Quasi - Judicial body
(D) NGT was established through National Green Tribunal Act, 2010
113. Arrange the following items as per the daily schedule of the Lok Sabha Proceedings ?
1) Zero Hour
2) Question Hour
3) Agenda of the House
(A) 1, 2, 3 (B) 2, 3, 1 (C) 2, 1, 3 (D) 1, 3, 2
114. Which Constitutional amendment Act made it possible to appoint governor for two or more states ?
(A) 5th Constitutional Amendment Act (B) 6th Constitutional Amendment Act
(C) 7th Constitutional Amendment Act (D) 8th Constitutional Amendment Act
115. Which of the following is included in the original jurisdiction of the Supreme Court of India ?
Disputes between
(A) Government of India and one or more states
(B) Elections to either house of Parliament or legislatures of the state
(C) Government of India and Union territory
(D) Two union territories
116. Which schedule of the Constitution deals with special provisions for administration and control of schedule areas in several states ?
(A) Third Schedule (B) Tenth Schedule (C) Fifth Schedule (D) Ninth Schedule
117. Who is not a member of the selection committee for the selection of central vigilance commission ?
(A) Prime Minister (B) Minister of Home affairs
(C) Chief Justice of India (D) Leader of opposition of Lok Sabah
118. Who was the Chairman of the standing committee of Parliament, which suggested to hold Parliament and state assemble elections simultaneously ?
(A) Murali Manohar Joshi (B) E. M. S. Natchiappana
(C) P. Chidambaram (D) N. Chandrababu Naidu
119. The separate railway budget practice was prevalent till 2016, since when the practice of separate railway budget was started ?
(A) 1853 (B) 1909 (C) 1921 (D) 1951
120. Which of the following statement is not correct about Right to Education Act, 2009 ?
(A) Prohibits Physical punishment and mental harassment
(B) Prohibits Capitation fees
(C) Provides establishment of national and state advisory council
(D) None of the above
121. The word 'Lokpal' was first coined by
(A) Justice Harilala J. Kania (B) Justice P. B. Gajendra Gadkar
(C) Nath Pai (D) L. M. Singhvi



122. રાજકોષીય જવાબદારીઓ અને અંદાજપત્ર સંચાલન (Fiscal Responsibilities and Budget Management - F.R.B.M.) માં સુધારાઓ સૂચવતી સમિતિ છે ?
- (A) એન. કે. સિંઘ સમિતિ (B) બિમલ જાલન સમિતિ
(C) અરવિંદ માયારામ સમિતિ (D) પી. જે. નાયક સમિતિ
123. ભારતના બંધારણનો અનુચ્છેદ 1(1) કહે છે
- (A) અમે, ભારતના લોકો, ભારતને એક સાર્વભૌમ સમાજવાદી બિનસાંપ્રદાયિક લોકતંત્રાત્મક પ્રજાસત્તાક તરીકે સંસ્થાપિત કરવાનો ગંભીરતાપૂર્વક સંકલ્પ કર્યો
(B) ઈન્ડિયા, અર્થાત્, ભારત રાજ્યોનો સંઘ રહેશે
(C) બંધારણના આરંભે નાગરિકત્વ
(D) રાજ્ય કોઈ વ્યક્તિને કાયદા સમક્ષ સમાનતાની ના પાડી શકશે નહીં
124. ભારતમાં દર દશ વર્ષે વસ્તી ગણતરી હાથ ધરવાની જવાબદારી કયા મંત્રાલયની છે ?
- (A) નાણા મંત્રાલય (B) આંકડાશાસ્ત્ર અને કાર્યક્રમ કાર્યાન્વયન મંત્રાલય
(C) ગૃહ મંત્રાલય (D) માનવ સંસાધન મંત્રાલય
125. જિલ્લા આયોજન સમિતિઓની રચના કોના દ્વારા ફરજિયાત કરવામાં આવી છે ?
- (A) 73મા બંધારણીય સુધારા અધિનિયમ (B) 74મા બંધારણીય સુધારા અધિનિયમ
(C) સી. એચ. હનુમંતા રાવ સમિતિ (D) દાંતેવાલા સમિતિ
126. ભારતમાં સંસદ સભ્ય અને ધારાસભ્ય સ્થાનિક વિસ્તાર વિકાસ કાર્યક્રમ રદ કરવા માટેની ભલામણ કોણે કરી છે ?
- (A) સંસદની જાહેર હિસાબ સમિતિ
(B) એ.પી.જે. અબ્દુલ કલામ - તેમના સંસદમાં રાષ્ટ્રપતિ તરીકેના સંબોધનમાં
(C) વીરપ્પા મોઈલીની અધ્યક્ષતા હેઠળના બીજા વહીવટી સુધારણા આયોગ
(D) કેન્દ્રીય તકેદારી આયોગ
127. “લોકશાહી અને વિકાસ માટે પંચાયતી રાજ સંસ્થાઓના પુનરોદ્ધાર” માટેની સમિતિના અધ્યક્ષ કોણ હતા ?
- (A) એલ. એમ. સિંઘવી (B) એન. કે. પી. સાલ્વે (C) કે. સી. પંત (D) જી. વી. કે. રાવ
128. “મેગા પોલીસી” અને “મેટા પોલીસી”નો વિચાર કોણે આપ્યો ?
- (A) હિરાલ્ડ લાસવેલ (B) યેઝેકેલ ડ્રોર
(C) ચાર્લ્સ લિંડબ્લોમ (D) ક્રિસ્ટોફર કોલીટ
129. “જાહેર નીતિ - એ હંમેશા સરકારની ક્રિયાઓ અને તે ક્રિયાઓ નક્કી કરતાં હેતુઓનો ઉલ્લેખ કરે છે.” આ વિધાન કોણે કર્યું છે ?
- (A) ક્લાર્ક ઈ. કોચરન (Clarke E. Cochran) (B) થોમસ ડાય (Thomas Dye)
(C) ગાય પીટર્સ (Guy Peters) (D) ઈ. એફ. મેલોન (E. F. Malone)
130. ભારતની કઈ ઉચ્ચ અદાલતે “ટ્રીપલ તલ્લાક”ની પરંપરાને ગેરબંધારણીય જાહેર કરી છે ?
- (A) દિલ્હી ઉચ્ચ અદાલત (B) કલકત્તા ઉચ્ચ અદાલત
(C) અલ્હાબાદ ઉચ્ચ અદાલત (D) મુંબઈ ઉચ્ચ અદાલત
131. સમગ્ર દેશમાં એક સરખો દીવાની કાયદો થાય તેમ કરવા માટે રાજ્ય પ્રયત્ન કરશે એવો દિશા નિર્દેશ બંધારણનો કયો અનુચ્છેદ કરે છે ?
- (A) અનુચ્છેદ 41 (B) અનુચ્છેદ 42 (C) અનુચ્છેદ 43 (D) અનુચ્છેદ 44



122. The Committee to suggest changes Fiscal Responsibilities and Budget Management (F.R.B.M.) is
(A) N. K. Singh Committee (B) Bimal Jalan Committee
(C) Arvind Mayaram Committee (D) P. J. Nayak Committee
123. Article 1(1) of Indian Constitution says
(A) We the people of India having solemnly resolved to constitute India into a Sovereign, Socialist, Secular, Democratic, republic
(B) India, that is Bharat, Shall be a union of states
(C) Citizenship at the commencement of the Constitution
(D) The state shall not deny to any person equality before the law
124. Which Ministry is responsible for undertaking census in India every ten years ?
(A) Finance Ministry (B) Statistics and Programme Implementation
(C) Home Affairs (D) Human Resources Development
125. District planning Committees have been constituted as mandated by
(A) 73rd Constitutional Amendment Act (B) 74th Constitutional Amendment Act
(C) C. H. Hanumanth Rao Committee (D) Dantewala Committee
126. Who has recommended abolishing the M.P. and M.L.A. local area development programme in India ?
(A) Public Accounts Committee of the Parliament
(B) A. P. J. Abdul Kalam in his presidential address to the Parliament
(C) 2nd Administrative Reforms Commission headed by Veerappa Moily
(D) Central Vigilance Commission
127. Who was the Chairman of the committee on “Revitalisation of Panchayati Raj Institutions for democracy and Development” ?
(A) L. M. Singhvi (B) N. K. P. Salve (C) K. C. Pant (D) G. V. K. Rao
128. The Concept of ‘Mega Policy’ and ‘Meta Policy’ was given by
(A) Herald Laswel (B) Yehezkel Dror
(C) Charles Lindblom (D) Christopher Colit
129. “The term Public Policy always refers to the actions of government and the intentions that determine those actions” who made this statement ?
(A) Clarke E. Cochran (B) Thomas Dye (C) Guy Peters (D) E. F. Malone
130. Which high court in India has declared the practice of “Triple Talaq” as unconstitutional ?
(A) Delhi High Court (B) Calcutta High Court
(C) Allahabad High Court (D) Mumbai High Court
131. Which Article of the Constitution directs the state to Endeavour secure uniform Civil Code throughout the country ?
(A) Article 41 (B) Article 42 (C) Article 43 (D) Article 44



132. નોંધાયેલ સ્વૈચ્છિક મંડળ, “ટ્રાન્સપરન્સી ઇન્ટરનેશનલ”નું વડુ મથક કયું છે ?
(A) પેરીસ, ફ્રાન્સ (B) બર્લિન, જર્મની
(C) જીનેવા, સ્વિટ્ઝર્લેન્ડ (D) હેલસિન્કી, ફિનલેન્ડ
133. નીચેના પૈકી કઈ બિનસરકારી સંસ્થાએ સરકારને માહિતી અધિકાર અધિનિયમની રચના કરવા માટે સમજાવવામાં મહત્વની ભૂમિકા ભજવી હતી ?
(A) લોકસત્તા (B) પીપલ્સ યુનિયન ફોર સીવીલ લીબર્ટીઝ
(C) મજદૂર કિસાન શક્તિ સંગઠન (M.K.S.S.) (D) એસોશિયેશન ફોર ડેમોક્રેટીક રીફોર્મ્સ
134. સંયુક્ત રાષ્ટ્ર સંઘના સેક્રેટરી જનરલની નિમણૂક કોના દ્વારા કરવામાં આવે છે ?
(A) વિશ્વ બેંક (B) ટ્રસ્ટીશીપ કાઉન્સિલ
(C) સીક્યુરીટી કાઉન્સિલ (D) સામાન્ય સભા
135. નીચેના પૈકી કઈ સંધિ વિશ્વ બેંકને ત્રીજા પક્ષકાર તરીકે સામેલ કરે છે ?
(A) ભારત - યુ.એસ. પરમાણુ સંધિ (B) ભારત - શ્રીલંકા સંધિ
(C) ભારત - નેપાલ વેપાર સંધિ (D) ભારત - પાકિસ્તાન નદીના પાણીની સંધિ
136. ભારતનો કાલાપાની અને સુસ્તાનો પ્રાદેશિક વિવાદ કોની સાથે છે ?
(A) બાંગ્લાદેશ (B) ભૂતાન (C) નેપાલ (D) મ્યાનમાર
137. 1971 મિત્રતા અને સહકારની વીસ વર્ષની સંધિ કોની વચ્ચે હતી ?
(A) ભારત - યુ.એસ.એ. (B) ભારત - સોવિયત યુનિયન
(C) ભારત - ચીન (D) ભારત - ઈઝરાયલ
138. માર્ચ-2015 માં મૂકાયેલ બહુહેતુક (Multi-purpose) અને મલ્ટી-મોડલ પ્લેટફોર્મનો PRAGATI (Pro Active Governance and Timely Implementation) હેતુ શું છે ?
(A) સામાન્ય માનવીની ફરિયાદો દૂર કરવી અને સાથોસાથ દેખરેખ અને સમીક્ષા કરવી
(B) બાળકીઓને તકનીકી શિક્ષણ માટે પ્રોત્સાહન અને ટેકો પૂરો પાડવો
(C) સમગ્ર દેશમાં કૌશલ્ય વિકાસ માટેના પ્રયાસોનું સંકલન કરવું
(D) ઉપરના તમામ
139. “પ્રધાનમંત્રી જન ધન યોજના”નું સૂત્ર શું છે ?
(A) હમારા ખાતા હમારા સ્વાભિમાન (B) હમારા ખાતા ભાગ્ય વિધાતા
(C) મેરા ખાતા ભાગ્ય વિધાતા (D) સબ કા ખાતા સબ કા વિકાસ
140. મતવિસ્તારોનું હાલનું સીમાંકન 2001ની વસ્તી ગણતરીના આધારે કરવામાં આવ્યું છે. મતવિસ્તારોના હવે પછીની સીમાંકનની રચના કયા આધારે કરવામાં આવશે ?
(A) 2021 પછીની પ્રથમ વસ્તી ગણતરી (B) 2023 પછીની પ્રથમ વસ્તી ગણતરી
(C) 2025 પછીની પ્રથમ વસ્તી ગણતરી (D) 2026 પછીની પ્રથમ વસ્તી ગણતરી
141. ભારતના બંધારણના નીચેના પૈકી કયા અનુચ્છેદો સંઘ અને રાજ્યો વચ્ચેના વહીવટી સંબંધો બાબતના છે ?
(A) અનુચ્છેદ - 245 - 255 (B) અનુચ્છેદ - 256 - 263
(C) અનુચ્છેદ - 264 - 268A (D) અનુચ્છેદ - 269 - 279
142. રાજ્યોને દર વર્ષે સહાયની જરૂર મુજબ અનુદાન સહાય કોની ભલામણથી પૂરી પાડવામાં આવે છે ?
(A) રાષ્ટ્રપતિ (B) સંસદ
(C) નાણા આયોગ (D) રાષ્ટ્રીય વિકાસ કાઉન્સિલ



132. Which is the headquarters of the registered voluntary association “Transparency International” ?
(A) Paris, France (B) Berlin, Germany
(C) Geneva, Switzerland (D) Helsinki, Finland
133. Which of the following NGO had played a major role in persuading government to enact the RTI Act ?
(A) Lok Satta (B) People’s union for Civil Liberties
(C) Mazdoor Kisan Shakti Sangthan (MKSS) (D) Association for Democratic Reforms
134. The Secretary General of the United Nations Organization is appointed by the
(A) World Bank (B) Trusteeship Council
(C) Security Council (D) General Assembly
135. Which one of the following pact involves the world bank as a third party ?
(A) Indo-US Nuclear Deal (B) Indo-Sri Lanka Treaty
(C) Indo-Nepal Trade Pact (D) Indo-Pak River water agreement
136. India has kalapani and Susta territorial dispute with
(A) Bangladesh (B) Bhutan (C) Nepal (D) Myanmar
137. The 1971 Twenty Years Treaty of friendship and corporation was between
(A) India-USA (B) India- Soviet Union
(C) India-China (D) India- Israel
138. The Multi Purpose and Multi model platform PRAGATI (Pro Active Governance and Timely Implementation) launched in March 2015 aims to
(A) Address common man’s grievances and simultaneously monitoring and reviewing
(B) Provide encouragement and support to girl child for technical education
(C) Coordinate all skill development efforts across the country
(D) All the above
139. What is the tagline of “Pradhan Mantri Jan Dhan Yojana” ?
(A) Hamara Khatha Hamara Swabhiman (B) Hamara Khatha Bhagya Vidhata
(C) Mera Khata Bhagya Vidhata (D) Sabka Khata Sabka Vikas
140. The present delimitation of constituencies has been done on the basis of 2001 Census, the next delimitation of constituencies will be constituted on the basis of _____ Census.
(A) First Census after 2021 (B) First Census after 2023
(C) First Census after 2025 (D) First Census after 2026
141. Which of the following Articles of the Constitution of India deals with the administrative relations between the union and states ?
(A) Articles 245-255 (B) Article 256-263
(C) Article 264- 268 A (D) Articles 269-279
142. Grant in Aids are provided every year to the states in need of assistance as recommended by the
(A) President (B) Parliament
(C) Finance Commission (D) National Development Council



143. ન્યાયની આંતરરાષ્ટ્રીય અદાલત બાબતે નીચેના પૈકી કયા વિધાનો સાચાં નથી ?
- 1) ન્યાયાધીશોની કુલ સંખ્યા 15 છે
 - 2) મુખ્ય ન્યાયાધીશ “પ્રાઈમ જજ” તરીકે ઓળખાય છે
 - 3) ન્યાયાધીશો 6 વર્ષની મુદત માટે નીમવામાં આવે છે
 - 4) અદાલતનું સભ્યપદનું વિતરણ એશિયામાંથી 3 સભ્યોનું પ્રતિનિધિત્વની પરવાનગી આપે છે
- (A) ફક્ત 1 (B) ફક્ત 1 અને 2 (C) ફક્ત 2 અને 3 (D) ફક્ત 1 અને 4
144. સ્વરાજ અભિયાન વિરૂદ્ધ ભારત સરકારના કેસમાં સર્વોચ્ચ અદાલતનો સીમાવર્તી ચુકાદો કઈ બાબતને લગતો હતો ?
- (A) કેન્દ્ર સરકારને દુષ્કાળ સંચાલન અંગેના નિર્દેશો
(B) કેન્દ્ર સરકારને બાળમજૂરી અંગેના નિર્દેશો
(C) કેન્દ્ર સરકારને માનવવેપાર અંગેના નિર્દેશો
(D) કેન્દ્ર સરકારને સ્ત્રી-હક્કો અંગેનો નિર્દેશો
145. નેશનલ કમિશન ફોર માઈનોરીટીઝ એક્ટ, 1992 હેઠળ કેન્દ્ર સરકાર દ્વારા રચાયેલ નેશનલ કમિશન ફોર માઈનોરીટીઝ (N.C.M.) દ્વારા લઘુમતિ સમૂદાયો તરીકે જાહેર કરવામાં આવેલ છ ધાર્મિક સમૂદાયોને ઓળખો.
- (A) મુસ્લિમ, ખ્રિસ્તી, શીખ, બૌદ્ધ, જરથોસ્ત અને સિન્ધી
(B) મુસ્લિમ, ખ્રિસ્તી, શીખ, બૌદ્ધ, સિન્ધી અને બહાઈ
(C) મુસ્લિમ, ખ્રિસ્તી, શીખ, સિન્ધી, બહાઈ અને જૈન
(D) મુસ્લિમ, ખ્રિસ્તી, શીખ, બૌદ્ધ, જરથોસ્ત અને જૈન
146. ગૃહ વિભાગ મંત્રાલય હેઠળ નીચેના પૈકી કયા વિભાગો છે ?
- i) સત્તાવાર ભાષાનો વિભાગ
 - ii) રાજ્યોનો વિભાગ
 - iii) જમ્મુ અને કાશ્મિરની બાબતોનો વિભાગ
 - iv) સીમા સંચાલનનો વિભાગ
- (A) i, ii અને iii (B) ii, iii, અને iv (C) iii અને iv (D) i, ii, iii અને iv
147. સિન્ધુ જળ સમજૂતી (Indus Water Treaty) હેઠળ ભારત _____ નદીઓ પર અલાયદા હક્કોનો વહીવટ કરે છે.
1. ચિનાબ
 2. રવિ
 3. બિયાસ
 4. સિન્ધુ
 5. સતલજ
 6. જેલમ
- (A) ફક્ત 1, 2 અને 3 (B) ફક્ત 1, 3 અને 4 (C) ફક્ત 2, 3 અને 5 (D) ફક્ત 1, 2 અને 6
148. The Indian Ocean Rim Association (I.O.R.A.) ના નીચેના પૈકી કયા હેતુઓ છે ?
- 1) ભારતીય મહાસાગર રીમ વિસ્તારમાં સામાજિક વિકાસ
 - 2) ચાંચીયાગીરી સામે સુરક્ષા અને રક્ષણમાં વધારો કરવો
 - 3) વેપાર સરળતા
 - 4) વેપાર બાધ
- (A) ફક્ત 1 અને 2 (B) ફક્ત 1 અને 3 (C) ફક્ત 2 અને 3 (D) ફક્ત 1, 2 અને 3
149. નીચેના વિધાનો વાંચી સાચો વિકલ્પ પસંદ કરો.
- 1) 2017 માં શાંઘાઈ કો-ઓપરેશન ઓર્ગેનાઈઝેશન (S.C.O.) માં ભારત સંપૂર્ણ સભ્ય બનવાની તૈયારી છે
 - 2) ભારત ASEAN સમૂહના દેશોનો સંપૂર્ણ સભ્ય છે.
 - 3) 1945 માં રચાયેલાં સંયુક્ત રાષ્ટ્ર સંઘનો ભારત સંસ્થાપક સભ્યો પૈકીનો એક છે
- (A) ફક્ત 1, 2 અને 3 (B) ફક્ત 1 અને 2 (C) ફક્ત 2 અને 3 (D) ફક્ત 1 અને 3



143. Which of the following statements are incorrect about International Court of Justice ?
- 1) There are total 15 number of Judges
 - 2) The chief of Judges is known as Prime Judge
 - 3) The Judges are appointed for the period of six years
 - 4) The distribution of Membership of the court allows the representation of 3 members from Asia
- (A) Only 1 (B) Only 1 and 2 (C) Only 2 and 3 (D) Only 1 and 4
144. Land mark judgment by Supreme Court of India in the case of Swaraj Abhiyan versus Union of India was concerned with
- (A) Directions to Central Government on Drought Management
(B) Directions to Central Government on Child Labor
(C) Directions to Central Government on Human trafficking
(D) Directions to Central Government on Women Rights
145. Identify the six religious communities as minority communities notified by the National Commission for Minorities (N.C.M.) set up by the Union Government under the National Commission for Minorities Act, 1992
- (A) Muslims, Christians, Sikhs, Buddhists, Zoroastrians, and Sindhis
(B) Muslims, Christians, Sikhs, Buddhists, Sindhis and Bahais
(C) Muslims, Christians, Sikhs, Sindhis, Bahais and Jains
(D) Muslims, Christians, Sikhs, Buddhists, Zoroastrians and Jains
146. Which of the following are departments under the ministry of Home Affairs ?
- i) Department of Official Language
 - ii) Department of States
 - iii) Department of J and K Affairs
 - iv) Department of Border Management
- (A) i, ii and iii (B) ii, iii, and iv (C) iii and iv (D) i, ii, iii and iv
147. Under the Indus Water Treaty, The exclusive rights over the _____ rivers are governed by India.
1. Chenab
 2. Ravi
 3. Beas
 4. Indus
 5. Sutlej
 6. Jhelum
- (A) 1, 2 and 3 only (B) 1, 3 and 4 only (C) 2, 3 and 5 only (D) 1, 2 and 6 only
148. Which of the following are the aims of The Indian Ocean Rim Association (I.O.R.A.) ?
- 1) Social Development of Indian Ocean Rim Region
 - 2) Enhancing Security and protection from piracy
 - 3) Trade facilitation
 - 4) Trade Deficit
- (A) 1 and 2 only (B) 1 and 3 only (C) 2 and 3 only (D) 1,2 and 3 only
149. Read the following statement and select the correct option :
- 1) India is due for becoming full member of Shanghai Co-operation Organization (S.C.O.) in 2017
 - 2) India is full member of ASEAN group of nations
 - 3) India is one of the founding members of United Nations Organization which was formed in 1945
- (A) 1, 2 and 3 (B) 1 and 2 only (C) 2 and 3 only (D) 1 and 3 only



150. કયા દેશ આંતરરાષ્ટ્રીય ફોજદારી અદાલતના અધિકારક્ષેત્ર હેઠળ નથી ?
(A) યુ.એસ.એ., રશિયા, ચીન, ઈઝરાયેલ (B) યુ.એસ.એ., યુ.કે., રશિયા, ફ્રાન્સ
(C) યુ.કે., ફ્રાન્સ, ચીન, પાકિસ્તાન (D) ફ્રાન્સ, ચીન, પાકિસ્તાન, અફઘાનિસ્તાન
151. એક ટોપલીમાં 6 સફેદ, 7 લાલ અને 2 વાદળી દડા છે. જો તેમાંથી એક સાથે બે દડા ઉંચકવામાં આવે છે, બન્ને દડા અલગ અલગ રંગના હોય તેની સંભાવના કેટલી થશે ?
(A) $\frac{2}{15}$ (B) $\frac{68}{155}$ (C) $\frac{68}{105}$ (D) $\frac{7}{15}$
152. A, B અને C ની વચ્ચે રૂ.1,380 વહેંચવામાં આવે છે. જો A, B અને C ને જેટલી રકમ મળી તેના કરતાં અનુક્રમે રૂ. 5, રૂ. 10 અને રૂ. 15 ઓછા મળ્યા હોત તો તેમને મળેલ રકમ 2 : 3 : 4 ના ગુણોત્તરમાં હોત, A ને કેટલી રકમ મળી હશે ?
(A) રૂ. 285 (B) રૂ. 305 (C) રૂ. 315 (D) રૂ. 325

153. પાંચ પરીક્ષાઓમાં શિરીષ અને ગિરીશ દ્વારા નીચે મુજબ ગુણ મેળવવામાં આવ્યા :

પરીક્ષા \ ગુણ	1	2	3	4	5
શિરીષ	8	9	8	10	5
ગિરીશ	10	7	10	10	4

ગિરીશે મેળવેલ ગુણનો બહુલક અને શિરીષે મેળવેલ ગુણનો મધ્યસ્થ અનુક્રમે કેટલા હશે ?

- (A) 10, 8 (B) 8, 10.2 (C) 8, 8 (D) 8, 8.2
154. એક સાંકેતિક લિપીમાં 'FRIEND' ને 'KTJMUH' તરીકે લખવામાં આવે છે. તો 'CANDLE' ને કઈ રીતે લખવામાં આવશે ?
(A) HDOMSI (B) HCOLSI (C) HCOJSJ (D) HBQLSI
155. એક ટ્રેનની લંબાઈ 200 મીટર છે. તે 69 કિમી / કલાકની ઝડપે ગતિ કરે છે. તો તે ટ્રેનની જ દિશામાં 9 કિમી / કલાકની ઝડપે દોડતા માણસને પસાર કરતાં ટ્રેનને કેટલો સમય લાગશે ?
(A) 9 સેકન્ડ (B) 10 સેકન્ડ (C) 11 સેકન્ડ (D) 12 સેકન્ડ
156. જો a ના 20% b હોય તો 20 ના b % કેટલા થશે ?
(A) a ના 2% (B) a ના 4% (C) a ના 20% (D) a ના 25%
157. જો રમેશ 7 કિમી / કલાકની ઝડપે ચાલે તો તે શાળામાં 9 મિનિટ મોડો પહોંચે છે. પણ જો તે 8 કિમી / કલાકની ઝડપે ચાલે તો 6 મિનિટ વહેલો પહોંચે છે. શાળા કેટલી દૂર હશે ?
(A) 14 કિમી (B) 21 કિમી (C) 16 કિમી (D) 28 કિમી
158. જો વેચાણ કિંમત બમણી કરવામાં આવે તો નફો ત્રણ ગણો થાય છે. તો મૂળ નફાની ટકાવારી કેટલી હશે ?
(A) $66\frac{2}{3}\%$ (B) 100% (C) 125% (D) 200%
159. જો કોઈ અપૂર્ણાંકના અંશ અને છેદ બન્નેમાં 1 જેટલો વધારો કરવામાં આવે તો તે અપૂર્ણાંક $\frac{3}{5}$ થાય છે. તથા જો બન્નેમાં 1 જેટલો ઘટાડો કરવામાં આવે તો તે અપૂર્ણાંક $\frac{5}{9}$ થાય છે. મૂળ અપૂર્ણાંક શોધો.
(A) $\frac{8}{14}$ (B) $\frac{19}{11}$ (C) $\frac{11}{19}$ (D) ઉપરના પૈકી કોઈ નહીં



150. The International criminal court lacks jurisdiction over which countries ?
(A) USA, Russia, China, Israel (B) USA, UK, Russia, France
(C) UK, France, China, Pakistan (D) France, China, Pakistan, Afghanistan
151. A basket contains 6 white, 7 red and 2 blue balls. If two balls are drawn simultaneously, what is the probability that both are of different color ?
(A) $\frac{2}{15}$ (B) $\frac{68}{155}$ (C) $\frac{68}{105}$ (D) $\frac{7}{15}$
152. Rs. 1,380 are divided among A, B and C. The shares received by A, B and C were Rs. 5 less, Rs. 10 less and Rs. 15 less respectively, their shares would be in the ratio of 2 : 3 : 4. What is A's Share ?
(A) Rs. 285 (B) Rs. 305 (C) Rs. 315 (D) Rs. 325
153. In 5 tests Shirish and Girish scored as following :

Tests \ Marks	1	2	3	4	5
Shirish	8	9	8	10	5
Girish	10	7	10	10	4

- Mode of Girish's score and median of Shirish's score respectively are
(A) 10, 8 (B) 8, 10.2 (C) 8, 8 (D) 8, 8.2
154. In a certain code language 'FRIEND' is coded as 'KTJMUH'. How can 'CANDLE' be written in that code ?
(A) HDOMSI (B) HCOLSI (C) HCOJSJ (D) HBQLSI
155. A train is 200 m long. It is running at a speed of 69 kmph. How long the train will take to pass a man who is running at 9 kmph in the same direction as the train ?
(A) 9 seconds (B) 10 seconds (C) 11 seconds (D) 12 seconds
156. If 20% of $a = b$, then $b\%$ of 20 is same as
(A) 2% of a (B) 4% of a (C) 20% of a (D) 25% of a
157. If Ramesh walks at 7 kmph, he reaches school 9 minutes late. But if he walks at 8 kmph, he reaches school 6 minutes early. How far is the school ?
(A) 14 kms (B) 21 kms (C) 16 kms (D) 28 kms
158. If selling price doubles, profit triples. What is original profit percentage ?
(A) $66\frac{2}{3}\%$ (B) 100% (C) 125% (D) 200%
159. If the numerator and the denominator of a fraction are both increased by 1, the fraction becomes $\frac{3}{5}$. If both are decreased by 1, it becomes $\frac{5}{9}$. Find the fraction.
(A) $\frac{8}{14}$ (B) $\frac{19}{11}$ (C) $\frac{11}{19}$ (D) None of the above



સૂચના : નીચે આપેલ માહિતીનો અભ્યાસ કરી પ્રશ્ન નં. 160 થી 162 ના જવાબ આપો.

જાંબલી, નીલો, વાદળી, લીલો, પીળો, નારંગી અને લાલ - એમ સાત રંગોના ધ્વજ એક હારમાં ડાબેથી જમણે ગોઠવવામાં આવે છે (આ ધ્વજ દર્શાવેલા ક્રમમાં હોય તે જરૂરી નથી). નીલા રંગના અને પીળા રંગના ધ્વજ વચ્ચે ચાર ધ્વજ છે. નીલા અને પીળા ધ્વજની વચ્ચે નારંગી ધ્વજ નથી. વાદળી ધ્વજની તરત બાજુમાં જાંબલી ધ્વજ અને લાલ ધ્વજ આવી શકશે નહીં.

160. આપેલ માહિતી પરથી ધ્વજની કુલ કેટલી ગોઠવણીઓ શક્ય થશે ?

- (A) 5 (B) 8 (C) 13 (D) ઉપરના પૈકી કોઈ નહીં

161. જો સાત ધ્વજ ઉપરાંત કાળો અને સફેદ ધ્વજ એવી રીતે ઉમેરવામાં આવે કે તેઓ બન્ને એકબીજાની બાજુ-બાજુમાં હોય પરંતુ બન્નેમાંથી એકપણ જાંબલી ધ્વજ કે લાલ ધ્વજની બાજુમાં ન હોય, તેમજ બન્નેમાંથી એક પણ કોઈપણ છેડા પર ન હોય તો જુદા જુદા કેટલા પ્રકારે આ ગોઠવણી શક્ય બનશે ?

- (A) 24 (B) 48 (C) 96 (D) ઉપરના પૈકી કોઈ નહીં

162. નીચે પૈકી કયુ વિધાન ચોક્કસપણે સત્ય છે ?

- (A) પીળો ધ્વજ કોઈપણ એક છેડા પર છે.
(B) નીલો ધ્વજ અને નારંગી ધ્વજ એકબીજાની બાજુ-બાજુમાં છે.
(C) વાદળી ધ્વજ લીલા ધ્વજની બાજુમાં છે.
(D) ઉપરના પૈકી કોઈ નહીં

163. A અને B બે ખામીયુક્ત ઘડિયાળો છે. દર કલાકે A 10 મિનીટ મોડી પડે છે અને B 10 મિનીટ આગળ નીકળે છે. એક દિવસે બપોરે 12 : 00 વાગે બન્ને ઘડિયાળોના સરખા સમય મેળવવામાં આવે છે તો એ જ દિવસે જો B સાંજના 7 : 00 કલાક બતાવતી હોય તો A કયો સમય બતાવતી હશે ?

- (A) સાંજના 4.30 (B) સાંજના 5.00 (C) સાંજના 5.30 (D) સાંજના 6.00

164. $(15.01)^2 \times \sqrt{730}$ ની આશરે કિંમત કેટલી થશે ?

- (A) 6125 (B) 6075 (C) 6025 (D) 5975

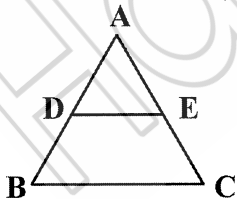
165. એક લંબચોરસની લંબાઈમાં 20% જેટલો વધારો કરવામાં આવે અને તેની પહોળાઈમાં 20% જેટલો ઘટાડો કરવામાં આવે તો તેનું ક્ષેત્રફળ 192 ચો.સેમી થાય છે. તો મૂળ લંબચોરસનું ક્ષેત્રફળ કેટલું હશે ?

- (A) 180 ચો.સેમી. (B) 190 ચો.સેમી. (C) 200 ચો.સેમી. (D) ઉપરના પૈકી કોઈ નહીં

166. 5 સેમીના એક સમઘનમાંથી 1 સેમીના શક્ય એટલા તમામ સમઘન બનાવવામાં આવે છે. તો મોટા સમઘનની સપાટીનું ક્ષેત્રફળ અને નાના સમઘનોના સપાટીના ક્ષેત્રફળોના સરવાળાનો ગુણોત્તર કેટલો થશે ?

- (A) 1 : 6 (B) 1 : 5 (C) 1 : 1.25 (D) 1 : 25

167. ΔABC માં, $AD = DB$ છે; જો $DE \parallel BC$ હોય અને ΔABC નું ક્ષેત્રફળ 40 હોય તો ΔADE નું ક્ષેત્રફળ કેટલું હશે ?



- (A) 10 (B) 20 (C) 30 (D) 24

168. જો $2^{a-3} - 64^{12} = 0$ હોય તો a ની કિંમત કેટલી હશે ?

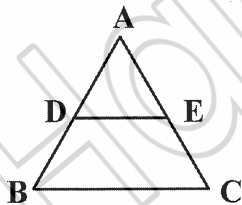
- (A) 72 (B) 75 (C) 78 (D) 81



Instructions : Read the following information and answer the questions **160 to 162 :**

Seven flags of different Colours – Violet, Indigo, Blue, Green, Yellow, Orange and Red are placed in a row from left to right, not necessarily in that order. The Indigo flag and the Yellow flag have four flags between them. The Orange flag is not between the Indigo flag and the Yellow flag. The Violet flag and the Red flag cannot be next to the Blue flag.

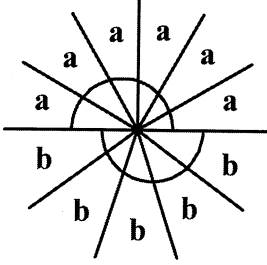
160. What is the total number of possible arrangements of flags as per given information ?
(A) 5 (B) 8 (C) 13 (D) None of the above
161. In additions to the seven flags, if the Black flag and the White flag are also to be placed such that they are adjacent to each other but none of them is next to the Violet flag or to the Red flag, and also none of them is at any of the extreme ends, then what is the total number of possible arrangements ?
(A) 24 (B) 48 (C) 96 (D) None of the above
162. Which of the following statement must be true ?
(A) Yellow flag is at one of the extreme ends
(B) The Indigo flag and the Orange flag are adjacent to each other
(C) The Blue flag is adjacent to the Green flag
(D) None of the above
163. A and B are 2 faulty clocks. A loses 10 minutes for every hour and B gains 10 minutes for every hour. What is the time shown by A when the time shown by B is 7.00 p.m. on the same day, if both clocks were set correct at 12:00 noon that day.
(A) 4.30 p.m. (B) 5.00 p.m. (C) 5.30 p.m. (D) 6.00 p.m.
164. What is the approximate value of $(15.01)^2 \times \sqrt{730}$?
(A) 6125 (B) 6075 (C) 6025 (D) 5975
165. If the length of a rectangular field is increased by 20% and the breadth is reduced by 20%, the area of the rectangle will be 192 cm^2 . What is the area of the original rectangle ?
(A) 180 cm^2 (B) 190 cm^2 (C) 200 cm^2 (D) None of the above
166. A 5 cm cube is cut into as many 1 cm cubes as possible. What is the ratio of the surface area of the larger cube to that of the sum of surface areas of the smaller cubes ?
(A) 1 : 6 (B) 1 : 5 (C) 1 : 1.25 (D) 1 : 25
167. In $\triangle ABC$, $AD = DB$; If $DE \parallel BC$ and area of $\triangle ABC = 40$ then area of $\triangle ADE$ is



- (A) 10 (B) 20 (C) 30 (D) 24
168. If $2^{a-3} - 64^{12} = 0$, what is the value of a ?
(A) 72 (B) 75 (C) 78 (D) 81

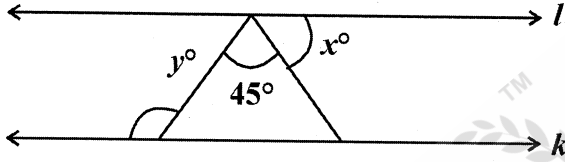


169. નીચેની આકૃતિમાં $\frac{b+a}{b-a}$ ની કિંમત કેટલી થશે ? (a અને b ના માપ ડિગ્રીમાં છે)



- (A) 1 (B) 10 (C) 11 (D) 15

170. જો નીચેની આકૃતિમાં k અને l સમાંતર રેખાઓ હોય તો $y - x$ ની કિંમત કેટલી થશે ?


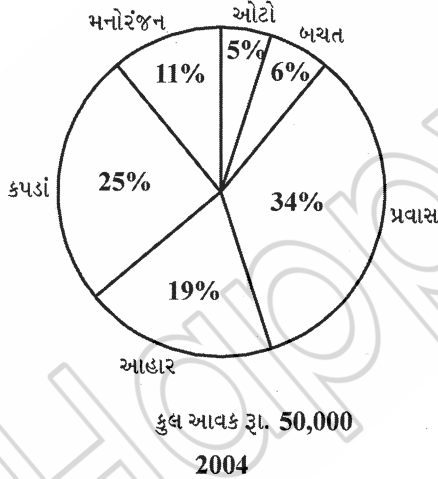


- (A) 15 (B) 30 (C) 45 (D) 90

171. ગામ X ની વસ્તી 78 000 છે, જે 1200 પ્રતિ વર્ષના દરથી ઘટી રહી છે; જ્યારે ગામ Y ની વસ્તી 52 000 છે, જે 800 પ્રતિ વર્ષના દરથી વધી રહી છે. કેટલા વર્ષે બંને ગામોની વસ્તી એકસરખી હશે ?

- (A) 16 (B) 12 (C) 14 (D) ઉપરના પૈકી કોઈ નહીં

સૂચના : નીચેની આકૃતિઓનો અભ્યાસ કરી પ્રશ્ન નં. 172 થી 175 ના જવાબ આપો. આવકની વહેંચણી અને બચતની વિગતો (વર્ષ 2004 અને 2005 માટે)



172. આહાર પાછળ વર્ષ 2004માં કેટલો ખર્ચ કરવામાં આવ્યો ?

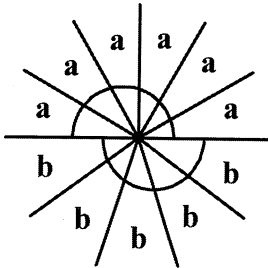
- (A) રૂ. 9,000 (B) રૂ. 9,500 (C) રૂ. 10,000 (D) રૂ. 10,500

173. નીચે પૈકી કયા ક્ષેત્રમાં કુટુંબે વર્ષ 2004 કરતાં વર્ષ 2005 માં વધુ ખર્ચ કર્યો ?

- (I) ઓટો (II) કપડાં (III) પ્રવાસ
(A) ફક્ત (I) (B) ફક્ત (II) (C) ફક્ત (I) અને (II) (D) (I), (II) અને (III)

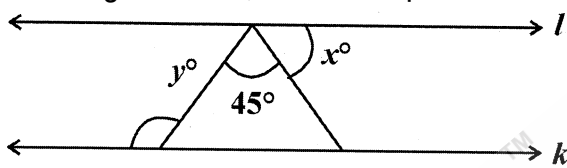


169. In the figure below, what is the value of $\frac{b+a}{b-a}$ (a and b are in degrees) ?



- (A) 1 (B) 10 (C) 11 (D) 15

170. In the figure below, k and l are parallel lines, then what is the value of $y - x$?



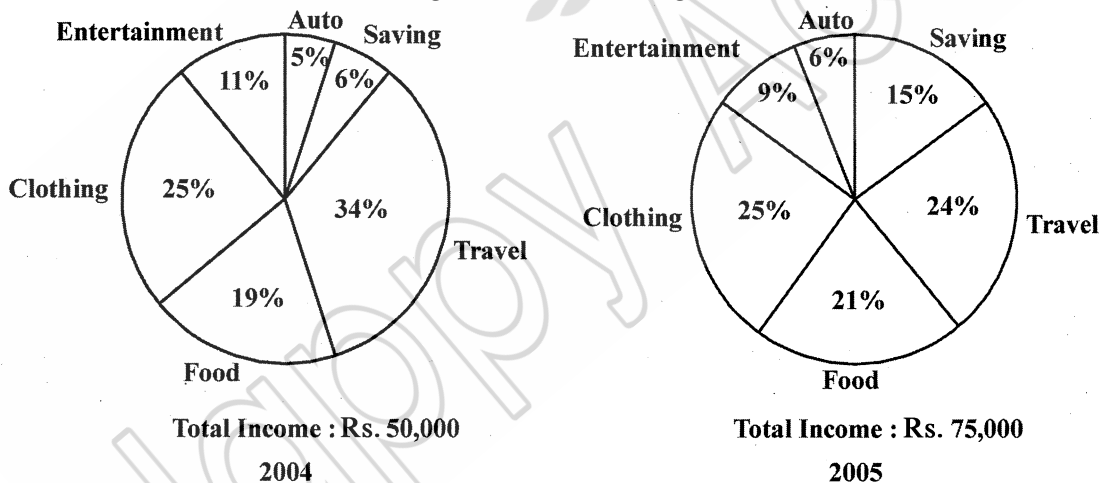
- (A) 15 (B) 30 (C) 45 (D) 90

171. Village X has population of 78000 which is decreasing at the rate of 1200 per year. Village Y has population of 52000 which is increasing at the rate of 800 per year. In how many years will the population of the villages be equal ?

- (A) 16 (B) 12 (C) 14 (D) None of the above

Instructions : Study the following diagram and answer the questions 172 to 175 :

Distribution of income and savings of a family during years 2004 and 2005



172. What was the total amount spent on food in 2004 ?

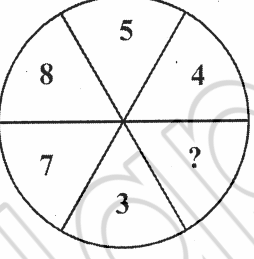
- (A) Rs. 9,000 (B) Rs. 9,500 (C) Rs. 10,000 (D) Rs. 10,500

173. For which of the following categories did the family spend more money in 2005 than they spent in 2004 ?

- (I) Auto (II) Clothing (III) Travel

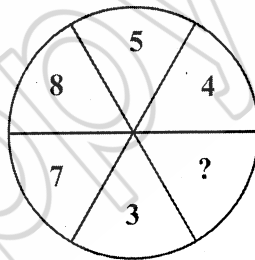
- (A) (I) only (B) (II) only (C) (I) and (II) only (D) All (I), (II) and (III)



174. ઓટો ક્ષેત્રમાં 2004 થી 2005 માં થયેલ ખર્ચમાં કેટલા ટકા વધારો થયો ?
(A) 75% (B) 80% (C) 85% (D) ઉપરના પૈકી કોઈ નહીં
175. કુટુંબ દ્વારા વર્ષ 2004 અને 2005 માં કરવામાં આવેલ પ્રવાસ ખર્ચનો ગુણોત્તર કેટલો થશે ?
(A) 16 : 17 (B) 18 : 17 (C) 17 : 18 (D) 17 : 16
176. કિંમત શોધો : $\sqrt{5 - 2\sqrt{6}}$
(A) $3 - \sqrt{2}$ (B) $\sqrt{3} - 2$ (C) $\sqrt{3} - \sqrt{2}$ (D) $\sqrt{3} + \sqrt{2}$
177. એક હોડી પર લાગતું હવાનું દબાણ તે હોડીના ક્ષેત્રફળ અને પવનના વેગના વર્ગને સંયુક્ત રીતે ચલે છે. (Jointly varies). જ્યારે પવનનો વેગ 16 કિમી / કલાક હોય ત્યારે દબાણ 1 એકમ પ્રતિ ચો. મીટર છે. તો જ્યારે દબાણ 4 એકમ પ્રતિ ચો. મીટર હોય ત્યારે પવનનો વેગ કેટલો હશે ?
(A) $\frac{32}{3}$ કિમી / કલાક (B) $\frac{64}{3}$ કિમી / કલાક (C) 32 કિમી / કલાક (D) 16 કિમી / કલાક
178. એક ટાંકી એક નળ દ્વારા 15 કલાકમાં ભરી શકાય છે. ટાંકીના તળીયે રહેલ લીકેજના લીધે ટાંકી ભરવામાં 5 કલાક વધારે લાગે છે. જો ટાંકી પૂર્ણ ભરેલી હોય તો આ લીકેજના કારણે તે કેટલા કલાકમાં ખાલી થશે ?
(A) 35 (B) 45 (C) 50 (D) 60
179. નીચેની વિગતોનો અભ્યાસ કરી આપેલ પ્રશ્નનો જવાબ આપો.
A + B એટલે A એ B ની માતા છે
A - B એટલે A એ B ની બહેન છે
A × B એટલે A એ B ના પિતા છે
A ≠ B એટલે A એ B ની દીકરી છે
A = B એટલે A એ B નો ભાઈ છે
નીચેના પૈકી કયો વિકલ્પ " P એ Q ની માસી " સૂચવે છે ?
(A) P - R + Q (B) P ≠ R × Q (C) P + R × Q (D) P × R = Q
180. આકૃતિમાં દર્શાવેલ Spinning Wheel પર યુગ્મ સંખ્યા (Even number) આવે તેની સંભાવના $\frac{1}{2}$ અને અવિભાજ્ય સંખ્યા (Prime number) આવે તેની સંભાવના $\frac{2}{3}$ છે. તો wheel પર ખૂટતી સંખ્યા કઈ હશે ?

- (A) 1 (B) 2 (C) 6 (D) 9
181. નીચેની શ્રેણીમાં બંધબેસતી ન હયો તેવી સંખ્યા કઈ છે ?
1, 2, 9, 44, 267, 1854,
- (A) 2 (B) 9 (C) 44 (D) 267
182. A, B અને C ત્રણેય સાથે 18 દિવસમાં રૂ. 3,240 કમાઈ શકે છે. A અને C સાથે 10 દિવસમાં રૂ. 1,200, જ્યારે B અને C સાથે 14 દિવસમાં રૂ. 1,820 કમાઈ શકે છે. તો B ની રોજિંદી કમાણી કેટલી હશે ?
(A) 70 રૂ. (B) 60 રૂ. (C) 80 રૂ. (D) 50 રૂ.



174. What is the percentage increase in the amount of money spent in Auto category from 2004 to 2005 ?
(A) 75% (B) 80% (C) 85% (D) None of the above
175. What is the ratio of total amount spend on Travel by the family in 2004 to that of in 2005 ?
(A) 16:17 (B) 18:17 (C) 17:18 (D) 17:16
176. Find : $\sqrt{5 - 2\sqrt{6}}$
(A) $3 - \sqrt{2}$ (B) $\sqrt{3} - 2$ (C) $\sqrt{3} - \sqrt{2}$ (D) $\sqrt{3} + \sqrt{2}$
177. The pressure of wind on a sail jointly varies as the area of the sail and square of the velocity of the wind. The pressure per square meter is 1 unit when velocity is 16 km/hr. What will be the velocity when pressure is 4 units per square meter ?
(A) $\frac{32}{3}$ km/hr (B) $\frac{64}{3}$ km/hr (C) 32 km/hr (D) 16 km/hr
178. A tank is filled by a tap in 15 hours. Due to some leakage at the bottom, 5 more hours are required to fill the tank. Then if the tank is full, in how many hours will it be empty due to leakage ?
(A) 35 (B) 45 (C) 50 (D) 60
179. Using the information given below answer the following :
A + B means A is mother of B
A - B means A is sister of B
A \times B means A is father of B
A \neq B means A is daughter of B
A = B means A is brother of B
Which of the following means P is aunt (Mausi) of Q ?
(A) P - R + Q (B) P \neq R \times Q (C) P + R \times Q (D) P \times R = Q
180. The probability of getting an even number on spinning wheel as shown in figure is $\frac{1}{2}$ and that of a prime is $\frac{2}{3}$. What could be the missing number on a wheel ?



- (A) 1 (B) 2 (C) 6 (D) 9
181. Find the wrong number in the below series :
1, 2, 9, 44, 267, 1854,
(A) 2 (B) 9 (C) 44 (D) 267
182. A, B and C together can earn Rs. 3,240/- in 18 days. A and C can earn Rs. 1,200 in 10 days whereas B and C can earn Rs. 1,820/- in 14 days. What is daily earning of B ?
(A) 70 Rs. (B) 60 Rs. (C) 80 Rs. (D) 50 Rs.

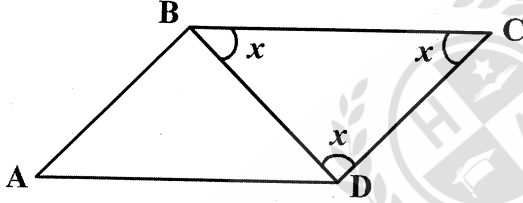


183. ત્રણ દોડવીર X, Y અને Z અનુક્રમે 18 કિમી / કલાક, 27 કિમી / કલાક અને 36 કિમી / કલાકની ઝડપથી 3600 મીટર લાંબા વર્તુળાકાર ટ્રેક પર દોડે છે. તેઓ એક જ જગ્યાએથી એક જ દિશામાં એક સાથે દોડ શરૂ કરે છે, તો તેઓ પ્રથમવાર ક્યારે મળશે ?
(A) શરૂ કર્યા બાદ 20 મિનિટ પછી (B) શરૂ કર્યા બાદ 24 મિનિટ પછી
(C) શરૂ કર્યા બાદ 30 મિનિટ પછી (D) શરૂ કર્યા બાદ 36 મિનિટ પછી

184. કિરણ દ્વારા તેની કાર પર કરવામાં આવતો માસિક કુલ ખર્ચ અંશતઃ અચળ છે અને અંશતઃ તેણે મહિનામાં કરેલ પ્રવાસના કિલોમીટરની સંખ્યા સાથે ચલે છે. જો તે મહિનામાં 100 કિમી ફરે છે તો કુલ ખર્ચ રૂ. 3,500 થાય છે તથા જો તે મહિનામાં 200 કિમી ફરે છે તો કુલ ખર્ચ રૂ. 4,000 થાય છે જો કોઈ મહિનામાં તેનો કુલ ખર્ચ રૂ. 4,250 થયો હોય તો તે કેટલા કિલોમીટર ફર્યો હશે ?
(A) 175 કિમી (B) 250 કિમી (C) 275 કિમી (D) 350 કિમી

185. એક લિપ વર્ષનો પહેલો દિવસ રવિવાર છે. તો તે વર્ષમાં કેટલા સોમવાર હશે ?
(A) 51 (B) 52 (C) 53 (D) 50

186. એક સમાંતર બાજુ ચતુષ્કોણ ABCD માં $BD = 2$ છે, તથા ΔBCD ના બધા જ ખૂણા સરખા છે, તો તે સમાંતર બાજુ ચતુષ્કોણનું ક્ષેત્રફળ કેટલું થશે ?



- (A) $\sqrt{3}$ (B) $2\sqrt{3}$ (C) $4\sqrt{3}$ (D) $9\sqrt{3}$
187. ભેંસો અને બતકોના એક સમૂહમાં કુલ પગની સંખ્યા કુલ માથાની સંખ્યા કરતાં 24 જેટલી વધારે છે, તો તે સમૂહમાં ભેંસો કેટલી હશે ?
(A) 17 (B) 18 (C) 19 (D) વિગતો અપૂરતી છે

188. સાદુરૂપ આપો : $b - [b - (a + b) - \{b - (b - a + b)\} + 2a]$
(A) 0 (B) a (C) 2a (D) -a

189. 100 અવલોકનોનો મધ્યક 45 છે. પછીથી ખબર પડી કે બે અવલોકનો 28 અને 43 ને બદલે 82 અને 34 તરીકે નોંધવામાં આવ્યા છે, તો સાચો મધ્યક કેટલો હશે ?
(A) 44.45 (B) 44.55 (C) 44.65 (D) 45.55

190. 2:15 કલાકે, ઘડિયાળનો મિનિટ કાંટો અને કલાક કાંટો કેટલો ખૂણો બનાવશે ?

- (A) $7\frac{1}{2}^\circ$ (B) $15\frac{1}{2}^\circ$ (C) $22\frac{1}{2}^\circ$ (D) ઉપરના પૈકી કોઈ નહીં

191. કિંમત શોધો : $(x - y) (x^2 - y^2)^{-1} (x^{-1} + y^{-1})$

- (A) $x^{-2} + 2x^{-1}y^{-1} + y^{-2}$ (B) x^2y^2
(C) $x^{-1}y^2 + y^{-1}x^2$ (D) $x^{-1}y^{-1}$

192. એક કાટકોણ ત્રિકોણના લઘુકોણોના શિરોબિંદુઓ પરથી સામેની બાજુના મધ્યબિંદુઓને જોડતી મધ્યરેખાઓ (medians)ની લંબાઈ 5 અને $2\sqrt{10}$ છે. તો કર્ણની લંબાઈ કેટલી હશે ?

- (A) $2\sqrt{40}$ (B) $\sqrt{13}$ (C) $2\sqrt{13}$ (D) 10

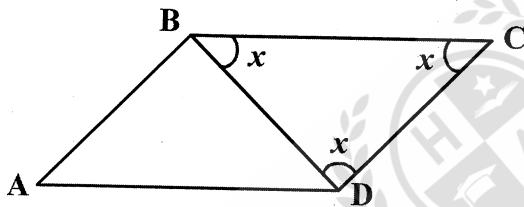


183. X, Y and Z are 3 runners with their speeds of 18 km/hr, 27 km/hr and 36 km/hr run along the circular track of 3600 m long. They start at the same time from same point and run in same direction. When will they meet for the first time ?
(A) 20 minutes after they start (B) 24 minutes after they start
(C) 30 minutes after they start (D) 36 minutes after they start

184. The monthly expenses of Kiran on his car are partly constant and partly vary with the number of kilometres he travels in a month. If he travels 100 km in a month his total expenses will be Rs. 3,500/-. If he travels 200 km in a month, his total expense will be Rs. 4,000/-. If in a month his total expense is Rs. 4,250/- how many kilometres he has travelled ?
(A) 175 Km (B) 250 Km (C) 275 Km (D) 350 Km

185. The first day of a leap year is Sunday. How many Mondays does the year would have ?
(A) 51 (B) 52 (C) 53 (D) 50

186. In a parallelogram ABCD $BD = 2$. The angles of $\triangle BCD$ are all equal. What is the area of the parallelogram ?



- (A) $\sqrt{3}$ (B) $2\sqrt{3}$ (C) $4\sqrt{3}$ (D) $9\sqrt{3}$
187. In a group of Buffalos and Ducks, the total numbers of legs are 24 more than total number of heads, how many Buffalos are there ?
(A) 17 (B) 18 (C) 19 (D) Data inadequate
188. Simplify $b - [b - (a + b) - \{b - (b - a + b)\} + 2a]$
(A) 0 (B) a (C) 2a (D) -a
189. Mean of 100 observation is 45. It was later found that two observations 28 and 43 were incorrectly recorded as 82 and 34. The correct mean is
(A) 44.45 (B) 44.55 (C) 44.65 (D) 45.55
190. At 2 :15 hours, the minute hand and hour hand of a clock form an angle of
(A) $7\frac{1}{2}^\circ$ (B) $15\frac{1}{2}^\circ$ (C) $22\frac{1}{2}^\circ$ (D) None of the above
191. What is the value of $(x - y) (x^2 - y^2)^{-1} (x^{-1} + y^{-1})$?
(A) $x^{-2} + 2x^{-1}y^{-1} + y^{-2}$ (B) x^2y^2
(C) $x^{-1}y^2 + y^{-1}x^2$ (D) $x^{-1}y^{-1}$
192. The medians of a right angled triangle drawn from vertices of acute angles are 5 and $2\sqrt{10}$. What is the length of hypotenuse ?
(A) $2\sqrt{40}$ (B) $\sqrt{13}$ (C) $2\sqrt{13}$ (D) 10



193. જો $3x + y = 19$ અને $x + 3y = 1$ હોય તો y ની કિંમત શોધો.
(A) 7 (B) -7 (C) 2 (D) -2

સૂચના : નિર્ણય કરો કે આપેલા પ્રશ્નો (પ્રશ્ન નં. 194 અને 195)ના જવાબ આપવા માટે તેમની નીચે આપેલા વિધાનો I અને II પર્યાપ્ત છે કે નથી. યોગ્ય વિકલ્પ પસંદ કરો.

194. લંબચોરસ PQRS નું ક્ષેત્રફળ કેટલું થશે ?
વિધાન I : લંબચોરસની પહોળાઈ 18 સેમી છે.
વિધાન II : લંબચોરસની લંબાઈ 20 સેમી થી વધારે નથી
(A) માત્ર વિધાન I પર્યાપ્ત છે.
(B) માત્ર વિધાન II પર્યાપ્ત છે.
(C) વિધાન I અને II એક સાથે પર્યાપ્ત છે, પરંતુ કોઈપણ વિધાન એકલું પર્યાપ્ત નથી.
(D) વિધાન I અને II એકસાથે પણ પર્યાપ્ત નથી.

195. એક વર્ગમાં તમામ વિદ્યાર્થીઓનું સરેરાશ વજન કેટલું છે ?
વિધાન I : વર્ગમાં 45 છોકરાઓ અને 30 છોકરીઓ છે.
વિધાન II : છોકરાઓનું સરેરાશ વજન 60 અને છોકરીઓનું સરેરાશ વજન 50 છે.

- (A) માત્ર વિધાન I પર્યાપ્ત છે.
(B) માત્ર વિધાન II પર્યાપ્ત છે.
(C) વિધાન I અને II એક સાથે પર્યાપ્ત છે, પરંતુ કોઈપણ વિધાન એકલું પર્યાપ્ત નથી.
(D) વિધાન I અને II એકસાથે પણ પર્યાપ્ત નથી.

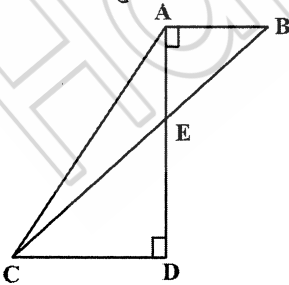
196. જો એક રકમનું 2 વર્ષનું સાદું વ્યાજ રૂ. 60 અને એ જ રકમનું 2 વર્ષનું ચક્રવૃદ્ધિ વ્યાજ રૂ. 63.75 હોય તો તે રકમ કેટલી હશે ?
(A) રૂ. 180 (B) રૂ. 240 (C) રૂ. 300 (D) રૂ. 360

197. પાંચ અંકની મોટામાં મોટી પૂર્ણવર્ગ સંખ્યા કઈ છે ?
(A) 99884 (B) 99966 (C) 99856 (D) 99888

198. 7નો લઘુત્તમ ગુણક (Least multiple) કયો છે કે જેને 6, 9, 15 અને 18 વડે ભાગતાં 4 શેષ મળશે ?
(A) 343 (B) 364 (C) 371 (D) 378

199. એક લંબચોરસની લંબાઈ તેની પહોળાઈ કરતાં બમણી છે; તથા તેની પરિમિતિ 1 એકમ ક્ષેત્રફળ ધરાવતા ચોરસની પરિમિતિ જેટલી છે. તો તે લંબચોરસનું ક્ષેત્રફળ શોધો.
(A) 2 (B) 6 (C) $\frac{2}{3}$ (D) $\frac{8}{9}$

200. નીચેની આકૃતિમાં $AD = 4$, $AB = 3$, અને $CD = 9$ છે. તો $\triangle AEC$ નું ક્ષેત્રફળ કેટલું થશે ?



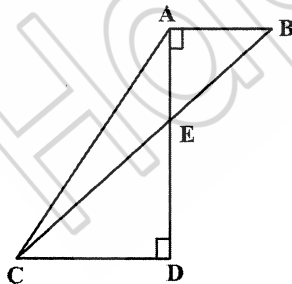
- (A) 4.5 (B) 9 (C) 13.5 (D) 18



193. If $3x + y = 19$ and $x + 3y = 1$ find value of y .
(A) 7 (B) -7 (C) 2 (D) -2

Instructions : Decide whether the data given in statements I and II are sufficient or not to answer the given questions (Q. No. 194 – 195) : Mark the correct answer.

194. What is the area of rectangle PQRS ?
Statement – I: the breadth of rectangle is 18 cm
Statement – II: The Length of Rectangle is not more than 20 cm
(A) Statement – I alone is sufficient
(B) Statement – II alone is sufficient
(C) Statements – I and II both are together sufficient but neither statement alone is sufficient
(D) Statements – I and II both together also are not sufficient.
195. What is average weight of all students in a class ?
Statement – I: There are 45 boys and 30 girls in the class
Statement – II: Average weight of boys is 60 and average weight of girls is 50
(A) Statement – I alone is sufficient
(B) Statement – II alone is sufficient
(C) Statements – I and II both are together sufficient but neither statement alone is sufficient
(D) Statements – I and II both together also are not sufficient.
196. If the simple interest on a certain amount for 2 years is Rs. 60 and the compound interest for the same amount for 2 years is Rs. 63.75. What will be that amount ?
(A) Rs. 180 (B) Rs. 240 (C) Rs. 300 (D) Rs. 360
197. The greatest number of 5 digit which is a perfect square is
(A) 99884 (B) 99966 (C) 99856 (D) 99888
198. What is the least multiple of 7 which leaves a remainder of 4 when divided by 6, 9, 15 and 18 ?
(A) 343 (B) 364 (C) 371 (D) 378
199. What is the area of the rectangle whose length is twice its width and whose perimeter is equal to that of square whose area is 1 unit ?
(A) 2 (B) 6 (C) $\frac{2}{3}$ (D) $\frac{8}{9}$
200. In the figure below $AD = 4$, $AB = 3$ and $CD = 9$. What is the area of $\triangle AEC$?



- (A) 4.5 (B) 9 (C) 13.5 (D) 18